



T.C. Ölçme, Seçme ve Yerleştirme Merkezi

YÜKSEKÖĞRETİM KURUMLARI SINAVI
ALAN YETERLİLİK TESTİ (AYT)
COĞRAFYA-1 TESTİ
28 HAZİRAN 2020 PAZAR

Bu testlerin her hakkı saklıdır. Hangi amaçla olursa olsun, testlerin tamamının veya bir kısmının Merkezimizin yazılı izni olmadan kopya edilmesi, fotoğrafının çekilmesi, herhangi bir yolla çoğaltılması, yayımlanması ya da kullanılması yasaktır. Bu yasağa uymayanlar gerekli cezai sorumluluğu ve testlerin hazırlanmasındaki mali külfeti peşinen kabullenmiş sayılır.

35. Genel olarak engebenin fazla olduğu alanlarda yağış, sıcaklık, nem gibi iklim elemanları kısa mesafelerde değişiklik gösterdiği için bu alanlarda engebenin az olduğu alanlara göre biyoçeşitliliğin daha zengin olması beklenir.



Haritada numaralandırılan alanların hangilerinde bu nedene bağlı olarak biyoçeşitliliğin daha zengin olduğu söylenebilir?

- A) I ve II B) I ve III C) II ve III
D) II ve IV E) III ve IV
36. Dünya ekonomisinde önemli bir yere sahip olan ve sermayenin küresel dolaşımını kontrol eden şehirler küresel bir etkiye sahiptir. Bunlar aynı zamanda mal, hizmet, bilgi ve kültür alanlarında küresel ölçekte birer üretim ve dağıtım merkezleridir.

Bu nitelikler aşağıdaki şehirlerin hangisinde daha azdır?

- A) Lizbon B) Paris C) New York
D) Tokyo E) Londra

37. K ülkesi nüfus artış hızını artırıcı, L ülkesi ise nüfus artış hızını azaltıcı politikalar izlemiştir. Her iki ülke de uzunca bir dönem uyguladıkları bu politikalarda başarıya ulaşmıştır.

Bu ülkelerle ilgili olarak,

- I. K ülkesinde genç nüfus oranı artmıştır.
II. K ülkesinde yaşlı nüfus miktarı azalmıştır.
III. L ülkesinde doğum oranı azalmıştır.
IV. L ülkesinin genç nüfus oranı artmıştır.

yargılarından hangileri doğrudur?

- A) I ve II B) I ve III C) II ve III
D) II ve IV E) III ve IV

38. Türkiye'nin önemli kalkınma projelerinden biri de Doğu Karadeniz Projesi'dir. Bu projenin hayata geçmesiyle bölgede birçok değişimin olması beklenmektedir.

Aşağıdakilerden hangisi bu projeye bağlı olarak beklenen değişimlerden biri değildir?

- A) Başta yayla alanlarında olmak üzere turizm faaliyetlerinin gelişmesi
B) Ulaşım hizmetlerinde daha az sorunun yaşanması
C) Yer altı zenginliği rezervlerinin korunması
D) Balıkçılık faaliyetlerinin sürdürülebilirliğinin sağlanması
E) Orman varlığının daha etkili ve verimli kullanımının sağlanması

39. Bazı ülkeler; siyasi, askerî ve ekonomik açıdan iş birliği yaparak kimi örgütlerin kurulmasını sağlamışlardır. Bu örgütlerin bir kısmının ortak amacı; üye ülkelerin ticari çıkarlarını korumak, ekonomik, bilimsel ve teknolojik iş birliği yapmaktır.

Bu amaçlar doğrultusunda 1992 yılında İstanbul'da kurulan örgüt aşağıdakilerden hangisidir?

- A) İslam İşbirliği Teşkilatı (İİT)
- B) Gelişen Sekiz Ülke (D-8)
- C) Ekonomik İşbirliği ve Kalkınma Örgütü (OECD)
- D) Karadeniz Ekonomik İşbirliği Teşkilatı (KEİ)
- E) Uluslararası Çalışma Örgütü (ILO)

40. İnsan ihtiyaçları doğrultusunda kullanılan doğal kaynakların miktarı ve çeşidi sürekli artmaktadır. Bu kaynakların kullanılması sonucu ortaya çıkan atıkların bir kısmının geri dönüştürülmesi çeşitli yararlar sağlamaktadır.

Aşağıdakilerden hangisi bu yararlardan biri değildir?

- A) Çevreye verilen zararın azaltılması
- B) Doğal kaynak kullanımının azaltılması
- C) Enerji tasarrufunun sağlanması
- D) Ülke ekonomisine olan katkının artması
- E) Atık depolama alanlarının sayıca artması

ÖSYM

Bu soruların telif hakları ÖSYM'ye aittir. Sorular ÖSYM'nin yazılı izni olmaksızın hiçbir kişi, kurum veya kuruluş tarafından kullanılamaz.

28-06-2020

COĞRAFYA - 1 TESTİ

- | | |
|-----|---|
| 35. | D |
| 36. | A |
| 37. | B |
| 38. | C |
| 39. | D |
| 40. | E |

ÖSYM

Bu soruların telif hakları ÖSYM'ye aittir. Sorular ÖSYM'nin yazılı izni olmaksızın hiçbir kişi, kurum veya kuruluş tarafından kullanılamaz.



T.C. Ölçme, Seçme ve Yerleştirme Merkezi

YÜKSEKÖĞRETİM KURUMLARI SINAVI
ALAN YETERLİLİK TESTİ (AYT)
COĞRAFYA-1 TESTİ
16 HAZİRAN 2019 PAZAR

Bu testlerin her hakkı saklıdır. Hangi amaçla olursa olsun, testlerin tamamının veya bir kısmının Merkezimizin yazılı izni olmadan kopya edilmesi, fotoğrafının çekilmesi, herhangi bir yolla çoğaltılması, yayımlanması ya da kullanılması yasaktır. Bu yasağa uymayanlar gerekli cezai sorumluluğu ve testlerin hazırlanmasındaki mali külfeti peşinen kabullenmiş sayılır.

35. Dünya üzerinde özellikle depremlerin ve volkanik etkinliklerin yaşanma sıklığı ve etkisi bazı alanlarda daha fazladır.



Haritada numaralandırılan yerlerden hangisi bu alanlar arasında gösterilemez?

- A) I B) II C) III D) IV E) V

36. I. Tarımda makineleşme artmıştır.
II. Çayır ve mera arazilerinin payı artmıştır.
III. Tarımsal üretimde katma değer yükselmiştir.

Türkiye’de, 1950’den günümüze kadar olan süreçte yukarıdakilerden hangileri tarım sektöründeki gelişmeler arasında gösterilemez?

- A) Yalnız I B) Yalnız II C) Yalnız III
D) I ve II E) II ve III

37. Sanayi Devrimi süreciyle şehirlerde tarım dışı fonksiyonlar hızla gelişerek çeşitlenmiş buna bağlı olarak, var olan şehirler büyümüş, yeni şehirler kurulmaya başlanmıştır.

Bu şehirlerin sayısının ve nüfusunun artması üzerinde aşağıdakilerden hangisinin etkisi daha fazla olmuştur?

- A) Göçlerin artması
B) Ulaşımın gelişmesi
C) Tüketimin artması
D) Sağlık olanaklarının daha iyi olması
E) Alışveriş merkezlerinin kurulması

38. Aşağıda, bir küresel örgütün kuruluş amaçlarından bazıları verilmiştir.

- Üye ülkelere kendi kendine yetecek ekonomik gelişme ve istihdam sağlamak
- Gelişmekte olan ülkelerin ekonomik kalkınmalarına destek sağlamak
- Uluslararası ticaretin gelişmesini desteklemek

Amaçları belirtilen bu örgüt aşağıdakilerden hangisidir?

- A) Birleşmiş Milletler (BM)
B) İslam İşbirliği Teşkilatı (İİT)
C) Petrol İhraç Eden Ülkeler Örgütü (OPEC)
D) Kuzey Atlantik Antlaşması Örgütü (NATO)
E) Ekonomik İşbirliği ve Kalkınma Örgütü (OECD)

39. Dünyada pek çok ülkede doğal gaz rezervi bulunmakta ve çıkarılmaktadır. Yüksek doğal gaz rezervi ve üretimi olan ülkelerin dünya pazarındaki etkisi de fazla olmaktadır.

Bu enerji kaynağının üretimi ve pazarlanmasında aşağıdaki ülkelerden hangisinin küresel etkisi daha fazladır?

- A) Japonya B) Çin C) Nijerya
D) Rusya E) Meksika

40. Atıkların bazı işlemlerden sonra ikincil ham madde özelliği kazanması geri dönüşüm olarak adlandırılmaktadır. Geri dönüşüm sürecinin sağladığı pek çok yarar vardır.

Aşağıdakilerden hangisi bu yararlarından biri değildir?

- A) Çevre kirliliğinin azalması
B) Doğal kaynakların korunması
C) Enerji tasarrufu sağlanması
D) Ekonomik katkı sağlanması
E) Yeni doğal kaynak üretilmesi

2019 ALAN YETERLİLİK TESTİ (AYT)

YKS 2. OTURUM ALAN YETERLİLİK TESTİ (AYT)

16-06-2019

COĞRAFYA - 1 TESTİ

- | | |
|-----|---|
| 35. | C |
| 36. | B |
| 37. | A |
| 38. | E |
| 39. | D |
| 40. | E |

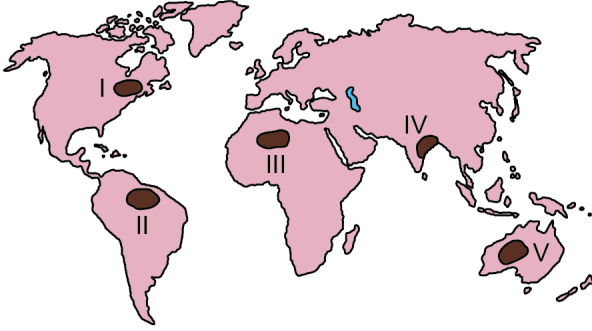


T.C. Ölçme, Seçme ve Yerleştirme Merkezi

YÜKSEKÖĞRETİM KURUMLARI SINAVI
ALAN YETERLİLİK TESTİ (AYT)
COĞRAFYA-1 TESTİ
1 TEMMUZ 2018 PAZAR

Bu testlerin her hakkı saklıdır. Hangi amaçla olursa olsun, testlerin tamamının veya bir kısmının Merkezimizin yazılı izni olmadan kopya edilmesi, fotoğrafının çekilmesi, herhangi bir yolla çoğaltılması, yayımlanması ya da kullanılması yasaktır. Bu yasağa uymayanlar gerekli cezai sorumluluğu ve testlerin hazırlanmasındaki mali külfeti peşinen kabullenmiş sayılır.

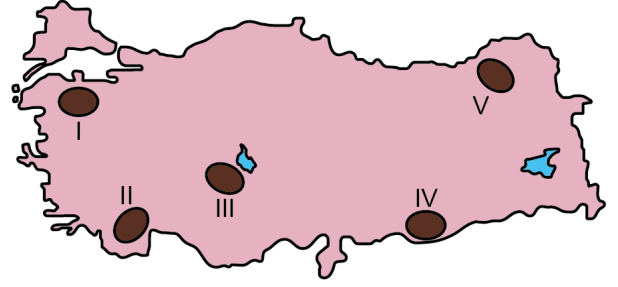
35. Aşağıdaki haritada bazı alanlar numaralandırılarak koyu renkle gösterilmiştir.



Bu alanların hangilerinde kuraklık, ekstrem bir doğa olayı olarak değerlendirilemez?

- A) I ve II B) II ve IV C) II ve V
D) III ve IV E) III ve V
36. I. Sağlık hizmetlerinin yetersizliği
II. Barınma olanaklarının yetersizliği
III. Kültürel faaliyetlerin yetersizliği
Yukarıdakilerden hangileri, sanayileşmenin etkisiyle hızla gelişen şehirlere göç eden insanların karşılaşılabilecekleri yaşamsal sorunlar arasında yer almaz?
- A) Yalnız I B) Yalnız II C) Yalnız III
D) I ve II E) II ve III

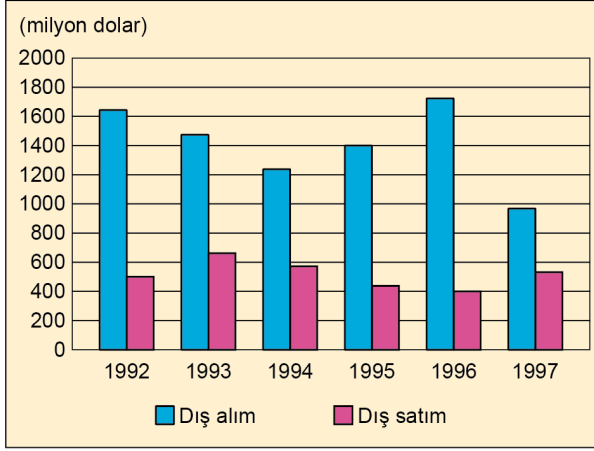
37. Aşağıdaki haritada bazı alanlar numaralandırılarak koyu renkle gösterilmiştir.



Bu alanların hangilerinde arazinin dağlık ve engebeli olması tarla tarımının yapılmasını daha fazla kısıtlamaktadır?

- A) I ve II B) II ve III C) III ve IV
D) II ve V E) IV ve V
38. Aşağıdakilerden hangisinin, Türkiye'deki kültür turizminin gelişmesine olan katkısı diğerlerine göre daha azdır?
- A) Farklı dinlere ait tarihî değer taşıyan ibadethanelerin restore edilmesi
B) Kırsal hayata ilişkin değerlerin görünür kılınması
C) Yeni kayak merkezlerinin açılarak yaygınlaştırılması
D) Arkeolojik alanlara ziyaretçi erişiminin kolaylaştırılması
E) Etnoğrafya müzelerinin sayısının artırılması

39. Aşağıdaki grafikte 1992-1997 yılları arasında bir K ülkesinin L ülkesiyle olan dış ticaretine ait değerler gösterilmiştir.



Grafikteki bilgiler dikkate alındığında aşağıdaki yorumlardan hangisine ulaşamaz?

- A) Dış satımın en fazla olduğu yıl 1993'tür.
 B) Dış alım her dönemde dış satımdan daha fazladır.
 C) Dış alımın en düşük olduğu yıl 1997'dir.
 D) Dış satım 1993-1996 yılları arasında sürekli artmıştır.
 E) Dış ticaret açığının en fazla olduğu yıl 1996'dır.

40. Sanayi Devrimi'nden günümüze kadar olan süreçte fosil yakıtların tüketimindeki artış, doğal çevrede büyük bozulmalara neden olmuştur. Fosil yakıtların kullanımına bağlı olarak ortaya çıkan önemli çevre sorunlarının küresel ölçekte fark edilmesi ile 1970'li yıllardan itibaren doğa koruma bilinci daha sistemli olarak gelişmiş ve çevrenin korunması konusunda bazı önlemler alınmaya başlanmıştır.

Bu önlemlere;

- fabrika bacalarına filtre takılması,
- doğal gaz kullanımının yaygınlaştırılması,
- alternatif enerji kaynakları kullanımının artırılması

örnekleri verilebilir.

Bu önlemler, aşağıdaki çevre sorunlarından hangisinin azaltılmasına daha fazla katkı sağlamıştır?

- A) Su kirliliği
 B) Hava kirliliği
 C) Gürültü kirliliği
 D) Toprak kirliliği
 E) Radyoaktif kirlilik

2018 ALAN YETERLİLİK TESTLERİ (AYT)

YKS 2. OTURUM ALAN YETERLİLİK TESTLERİ (AYT)

01-07-2018

COĞRAFYA - 1 TESTİ

- | | |
|-----|---|
| 35. | E |
| 36. | C |
| 37. | D |
| 38. | C |
| 39. | D |
| 40. | B |



T.C. Ölçme, Seçme ve Yerleştirme Merkezi

LİSANS YERLEŐTİRME SINAVI-3

COĞRAFYA-1 TESTİ

18 HAZİRAN 2017

PAZAR

Bu testlerin her hakkı saklıdır. Hangi amaçla olursa olsun, testlerin tamamının veya bir kısmının Merkezimizin yazılı izni olmadan kopya edilmesi, fotoğrafının çekilmesi, herhangi bir yolla çoğaltılması, yayımlanması ya da kullanılması yasaktır. Bu yasağa uymayanlar gerekli cezai sorumluluğu ve testlerin hazırlanmasındaki mali külfeti peşinen kabullenmiş sayılır.

AÇIKLAMA

1. Bu kitapçıkta Lisans Yerleştirme Sınavı-3 Coğrafya-1 Testi bulunmaktadır.
2. Bu test için verilen cevaplama süresi **35 dakikadır**.
3. Bu testte yer alan her sorunun sadece bir doğru cevabı vardır. Bir soru için birden çok cevap yeri işaretlenmişse o soru yanlış cevaplanmış sayılacaktır.
4. İşaretlediğiniz bir cevabı değiştirmek istediğinizde, silme işlemini çok iyi yapmanız gerektiğini unutmayınız.
5. Bu test puanlanırken doğru cevaplarınızın sayısından yanlış cevaplarınızın sayısının dörtte biri çıkarılacak ve kalan sayı ham puanınız olacaktır. Kısa cevaplı sorular bu uygulamanın dışında tutulacaktır.
6. Cevaplamaya istediğiniz sorudan başlayabilirsiniz. Bir soru ile ilgili cevabınızı, cevap kâğıdında o soru için ayrılmış olan yere işaretlemeyi unutmayınız.
7. Kısa cevaplı soruları, cevap kâğıdındaki ilgili alana sola dayalı olarak yazıp kodlayınız.
8. Sınavda uyulacak diğer kurallar bu kitapçığın arka kapağında belirtilmiştir.



1. Bu testte 24 soru vardır.
2. Cevaplarınızı, cevap kâğıdının Coğrafya-1 Testi için ayrılan kısmına işaretleyiniz.

1. Aşağıda, bir iklim tipine ait bazı özellikler verilmiştir.

- Yıllık ortalama sıcaklığı 30 °C civarındadır.
- Günlük sıcaklık farkları fazladır.
- Yıllık yağış miktarı 200 mm'den azdır.

Özellikleri belirtilen bu iklim tipi aşağıdakilerden hangisidir?

- A) Muson B) Karasal C) Çöl
D) Step E) Ekvatorial
2. Yer şekillerinin oluşum ve gelişimlerinde kayaçların önemli bir rolü vardır. Kireçtaşının çözünme özelliklerine bağlı olarak meydana gelen yer şekillerinin oluşturduğu "karst topoğrafyası" bu örneklerden biridir.

Aşağıdaki yer şekillerinden hangisi bu özelliklere bağlı oluşmamıştır?

- A) Obruk B) Drumlin C) Lapy
D) Dolin E) Polye
3. Aşağıdakilerden hangisi, küresel ekosistemdeki madde döngülerinden biri değildir?
- A) Toprak B) Karbon C) Oksijen
D) Su E) Azot

4. Yeryüzünde, aynı iklim koşulları altında benzer bitki ve hayvan topluluklarının bulunduğu alanlara biyom veya büyük yaşam kuşakları adı verilmektedir.



Buna göre, yukarıdaki haritada numaralandırılarak koyu renkle gösterilen alanlardan hangileri benzer biyomlardır?

- A) III ve IV B) II ve IV C) I ve II
D) IV ve V E) II ve III

5. I. Okyanus ve deniz seviyelerinin alçalması
II. Buzul erimelerinin artması
III. Biyoçeşitliliğin artması
IV. Göllerin kuruması

Yukarıdakilerden hangileri, insanın doğayı yanlış ve bilinçsiz kullanımına bağlı olarak gelecekte yaşanma olasılığı yüksek olaylardır?

- A) I ve II B) I ve III C) II ve III
D) II ve IV E) III ve IV





2017-LYS3/COĞ-1

6. Metropol şehirlerin gelişiminde aşağıdakilerden hangisinin olumlu etkisi diğerlerine göre **daha azdır**?

- A) Eğitim hizmetlerinin yaygınlaşması
B) Sanayi tesisi sayılarının artması
C) Pazar potansiyelinin büyümesi
D) Modern tarım yöntemlerinin uygulanması
E) Toplumsal ve kültürel çekiciliğin artması

7. Aşağıda, bir ülkeye ait dört bölgenin nüfus yoğunlukları ile yüz ölçümleri verilmiştir.

BÖLGELER	Aritmetik Nüfus Yoğunluğu (km ² /kişi)	Yüz ölçümü (bin km ²)
I	5	150
II	50	100
III	50	70
IV	150	40

Bu tablodaki bilgilere göre aşağıdakilerden hangisi **söylenemez**?

- A) II numaralı bölgenin nüfusu, III numaralı bölgeden fazladır.
B) I numaralı bölgede nüfus, diğer bölgelerden daha azdır.
C) II ve III numaralı bölgelerin toplam nüfusları aynıdır.
D) Nüfusu en fazla olan bölge IV numaralı bölgedir.
E) I ve III numaralı bölgelerin toplam nüfusu, IV numaralı bölgeden azdır.

8. Aşağıdakilerden hangisi, son yıllarda gelişme gösteren ve tarihsel olarak küresel bir merkez özelliğine sahip olmayan şehirlerden biridir?

- A) Roma B) İstanbul C) Kahire
D) Dubai E) Londra

9. Dünyadaki kültürel gelişim birbirine eklenerek günümüze kadar gelmiştir. Nitekim farklı devletler ve milletler arasındaki ürünlerin ticaretini sağlayan ulaşım sistemleri kültürel etkileşimin en önemli ayaklarından birini oluşturur. Özellikle uzunluğu fazla olan kara yollarının kültürel etkileşimde daha etkili olduğu bilinmektedir.

Aşağıdaki yollardan hangisi bu etkileşime **daha fazla katkı sağlamıştır**?

- A) Baharat Yolu B) İpek Yolu
C) Kral Yolu D) Likya Yolu
E) Çay Yolu

10. I. Akarsu aşındırmasının güçlü olması
II. Gelgit genliğinin az olması
III. Kıyı açıklarında çok sayıda ada olması
IV. Akarsu vadilerinin genelde doğu-batı doğrultusunda uzanması

Türkiye'nin batı kıyılarında birçok delta ovasının oluşmasında, yukarıdakilerden hangileri etkili olmuştur?

- A) I ve II B) I ve III C) II ve III
D) II ve IV E) III ve IV





2017-LYS3/COĞ-1

11. • İskenderun'da demir-çelik fabrikası
• Samsun'da bakır işleme tesisleri
• Mersin'de petrol rafinerisi

Bu sanayi tesislerinin yer seçiminde etkili olan temel faktör aşağıdakilerden hangisidir?

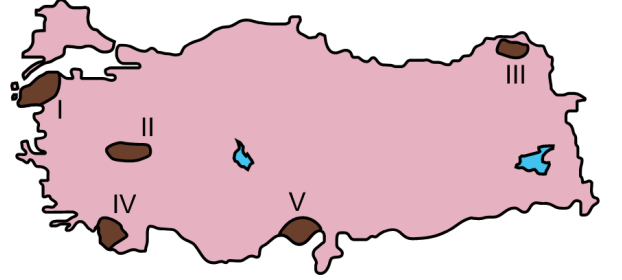
- A) Enerji B) Pazar C) Ulaşım
D) İş gücü E) Ham madde
12. Türkiye'de mera hayvancılığı giderek azalırken besi ve ahır hayvancılığı artmaktadır.
- Aşağıdakilerden hangisi bu değişimin nedenlerinden biri değildir?**
- A) Besi ve ahır hayvancılığının maliyetinin daha az olması
B) Besi ve ahır hayvancılığında çevresel etkilerin daha az olması
C) Mera alanlarının giderek azalması
D) Besi ve ahır hayvancılığının, yer seçiminde daha esnek olması
E) Besi ve ahır hayvancılığında verimin daha yüksek olması

13. Cumhuriyetin ilk yıllarından günümüze kadar geçen süreçte sanayinin ekonomideki payını artırmak için Türkiye'de birçok çalışma yapılmıştır.

Aşağıdakilerden hangisi bu çalışmalardan biri değildir?

- A) Sanayinin teşvik edilmesinin devlet politikası hâline getirilmesi
B) Eğitim faaliyetleriyle nitelikli eleman ihtiyacının karşılanması
C) Teknolojik gelişmelerin takibiyle sanayi kollarının çeşitlenmesi
D) Hizmet ve tarım sektöründeki sınırlamalarla sanayinin teşvik edilmesi
E) Ulaşım başta olmak üzere sanayi alt yapısının iyileştirilmesi

14. Aşağıdaki haritada bazı bölgeler numaralandırılarak koyu renkle gösterilmiştir.



Bu bölgelerin hangisi;

- tarım bölgesi,
- yoğun nüfuslu bölge

özelliklerinin ikisine de sahiptir?

- A) I B) II C) III D) IV E) V





2017-LYS3/COĞ-1

15. Türkiye, turist sayısı bakımından dünya sıralamasında her zaman ilk on içerisinde yer alırken turizm gelirleri açısından daha geri sıralarda yer almaktadır.

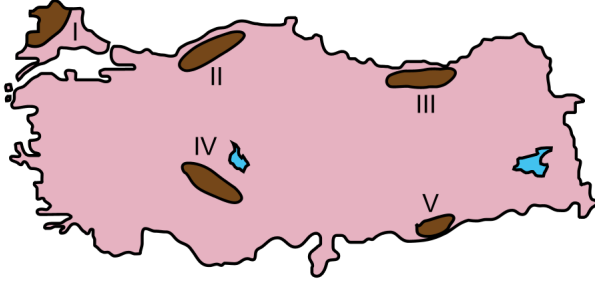
Turist sayısı ile turizm gelirleri arasındaki bu fark;

- I. gelen turistlerin sosyoekonomik yapısı,
- II. yetersiz tanıtım,
- III. ulaşım olanaklarının yetersizliği

unsurlarından hangileriyle ilişkilidir?

- A) Yalnız I B) Yalnız II C) Yalnız III
D) I ve II E) II ve III

16. Aşağıdaki haritada bazı alanlar numaralandırılarak koyu renkle gösterilmiştir.



Bu alanların hangilerinde yer şekillerine bağlı kara yolu yapım maliyetlerinin daha fazla olması beklenir?

- A) I ve II B) I ve IV C) II ve III
D) III ve V E) IV ve V

17. Aşağıdaki tabloda beş ülkeye ait dış alım ve dış satım verileri gösterilmiştir.

Ülkeler	Dış alım (milyon dolar)	Dış satım (milyon dolar)
K ülkesi	1.257.640	781.125
L ülkesi	497.902	549.686
M ülkesi	236.671	238.310
N ülkesi	301.085	298.899
P ülkesi	334.366	281.550

Bu tablodaki bilgilere göre aşağıdaki yorumlardan hangisine ulaşamaz?

- A) Dış ticaret açığı en fazla olan ülke K'dir.
B) Dış satım gelirleri en düşük olan ülke M'dir.
C) Dış ticaret hacmi en büyük olan ülke K'dir.
D) N ve P ülkelerinin dış satım toplamı, L'nin dış satımından fazladır.
E) Ülkelerin tümünde dış alım, dış satımdan fazladır.

18. Orta Doğu'da yaşanan güncel sıcak çatışmalar üzerinde aşağıdakilerden hangisinin etkisi daha azdır?

- A) Enerji kaynaklarının paylaşımı
B) Etnik milliyetçiliğin artması
C) Otoriter yönetimler
D) Mezhepsel çatışmalar
E) Su kaynaklarının paylaşımı





2017-LYS3/COĞ-1

19. Petrol ve doğal gaz kullanımının daha da arttığı günümüzde bu kaynağa sahip olan ülkeler önemli bir gelir elde etmektedir. Ancak bu kaynakların, özellikle taşınması sırasında büyük yatırımlara gereksinim duyulmaktadır.

Bu kaynaklara sahip olmasına rağmen taşıma sırasında coğrafi konumundan dolayı, diğerlerine göre dezavantajlı konumda olan ülke aşağıdakilerden hangisidir?

- A) İran B) Cezayir C) Azerbaycan
D) Venezuela E) Nijerya

20. Aşağıdaki doğa olaylarından hangisi, karşısında verilen doğal afetin meydana gelmesinde doğrudan etkili değildir?

- A) Denizaltı depremleri - Tsunami
B) Aşırı sıcaklıklar - Erozyon
C) Volkanik patlamalar - Yer sarsıntıları
D) Eğimli alanlara aşırı kar yağışı - Çiğ
E) Aşırı yağışlar - Sel ve taşkınlar

21. Aşağıdakilerden hangisi atmosferdeki doğal dengenin korunması için alınabilecek önlemlerden biri değildir?

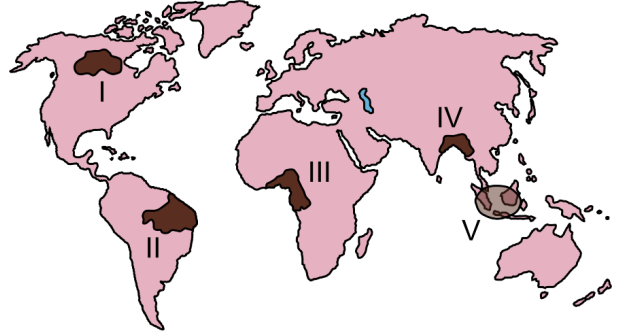
- A) Yenilenebilir enerji kaynakları kullanımının yaygınlaştırılması
B) Orman örtüsü miktarının artırılması
C) Termik santrallerde yeni teknolojilerin kullanılması
D) Fazla karbon salan kuruluşlardan yüksek vergi alınması
E) Hava ulaşımının teşvik edilmesi

22. Dünya genelinde, yeni tarım alanları açmak için yapılan hatalı uygulamalardan biri de göllerin kurutulmasıdır.

Aşağıdakilerden hangisi kurutulan bu alanlarda ortaya çıkan sorunlardan biri değildir?

- A) Yıllık yağış miktarının artması
B) Taban suyu seviyesinin azalması
C) Nem oranının azalması
D) Rüzgâr erozyonunun artması
E) Ekolojik dengenin bozulması

23. Aşağıdaki haritada bazı alanlar numaralandırılarak koyu renkle gösterilmiştir.



Doğal ve beşerî özellikleri dikkate alındığında bu alanların hangisindeki ormancılık faaliyetleri diğerlerine göre daha sürdürülebilir niteliktedir?

- A) I B) II C) III D) IV E) V

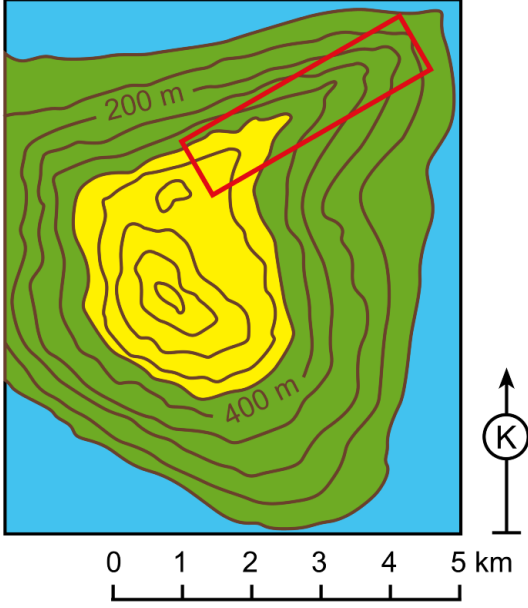




2017-LYS3/COĞ-1

24. sorunun cevabını, cevap kâğıdınızdaki ilgili alana sola dayalı olarak yazıp kodlayınız.

24. Aşağıda bir topoğrafya haritası verilmiştir.



Bu haritada kırmızı renkli dikdörtgen alanla gösterilen yer şeklinin adı nedir?



2017-LYS3

18-06-2017

COĞRAFYA-1 TESTİ

1. C
2. B
3. A
4. E
5. D
6. D
7. C
8. D
9. B
10. A
11. C
12. A
13. D
14. E
15. D
16. C
17. E
18. E
19. C
20. B
21. E
22. A
23. A
24. SIRT



SINAVDA UYULACAK KURALLAR

1. Sınav salonunda saate entegre kamera ile kayıt yapılıyor ise; kamera kayıtlarının incelenmesinden sonra sınav kurallarına uymadığı tespit edilen adayların sınavları ÖSYM Yönetim Kurulunca geçersiz sayılacaktır.
2. **Cep telefonu ile sınava girmek kesinlikle yasaktır.** Her türlü elektronik/mechanik cihazla ve çağrı cihazı, telsiz, fotoğraf makinesi vb. araçlarla; cep bilgisayar, her türlü saat ile, kablosuz iletişim sağlayan bluetooth, kulaklık vb. her türlü bilgisayar özelliği bulunan cihazlarla; her türlü kesici ve delici alet, ateşli silah vb. teçhizatla; kalem, silgi, kalemтираş, müsvetde kâğıdı, defter, kitap, ders notu, sözlük, dergi, gazete vb. yayınlar, hesap makinesi, pergel, açıölçer, cetvel vb. araçlarla sınava girmek kesinlikle yasaktır. Sınava kolye, küpe, yüzük (alyans hariç), bilezik, broş, anahtar, anahtarlık, metal para gibi metal içerikli eşyalarla (basit başörtü iğnesi ve ince metal tokalı kemer hariç); plastik veya camdan yapılmış her türlü güneş gözlüğü ile (şeffaf/numaralı gözlük hariç), banka/kredi kartı, ulaşım kartı vb. kartlarla; yiyecek-içecek (şeffaf pet şişe içerisindeki su hariç) ve diğer tüketim maddeleri ile gelmeleri kesinlikle yasaktır. Bu tür eşya, araç-gereçlerle sınava girmiş adaylar mutlaka Salon Tutanağı'na yazılacak, bu adayların sınavı geçersiz sayılacaktır. **Ancak, ÖSYM Başkanlığı tarafından belirlenen Engelli ve Yedek Sınav Evrakı Yönetim Merkezi (YSYM) binalarında sınava girecek olan engelli adayların sınav giriş belgelerinde yazılı olan araç-gereçler, cihazlar vb. yukarıda belirtilen yasakların kapsamı dışında değerlendirilecektir.**
3. Bu test için verilen cevaplama süresi **35 dakikadır.** LYS-3'te adaylar **Türk Dili ve Edebiyatı Testi'nin cevaplama süresi içinde, Coğrafya-1 Testi'nin ilk 15 ve son 15 dakikası** içinde sınav salonundan ayrılamazlar. İki test arasında birinci testin soru kitapçığının toplanması ve ikinci testin soru kitapçığının dağıtılması işlemleri dışında ara verilmez. Toplama ve dağıtma işlemi sırasında adayların salondan dışarı çıkmaları kesinlikle yasaktır. **Bu süreler dışında, cevaplama sınav bitmeden tamamlarsanız cevap kâğıdınızı ve soru kitapçığınızı salon görevlilerine teslim ederek salonu terk edebilirsiniz. Bildirilen sürele aykırı davranışlardan adayın kendisi sorumludur.**
4. **Sınav salonundan ayrılan aday, her ne sebeple olursa olsun, tekrar sınav salonuna alınmayacaktır.**
5. Sınav süresince görevlilerle konuşmak, görevlilere soru sormak yasaktır. Aynı şekilde görevlilerin de adaylarla yakından ve alçak sesle konuşmaları ayrıca adayların birbirinden kalem, silgi vb. şeyleri istemeleri kesinlikle yasaktır.
6. Sınav sırasında, görevlilerin her türlü uyarısına uymak zorundasınız. Sınavınızın geçerli sayılması, her şeyden önce, sınav kurallarına uymanıza bağlıdır. Kurallara aykırı davranışta bulunanlar ve yapılacak uyarılara uymayanlar Salon Tutanağı'na yazılacak ve sınavları geçersiz sayılacaktır.
7. Sınav sırasında kopya çeken, çekmeye kalkışan, kopya veren, kopya çekilmesine yardım edenler Salon Tutanağı'na yazılacak ve bu adayların sınavları geçersiz sayılacaktır. Adayların test sorularına verdikleri cevapların dağılımları bilgi işlem yöntemleriyle incelenecek, bu incelemelerden elde edilen bulgular bireysel veya toplu olarak kopya çekildiğini gösterirse kopya eylemine katılan adayın/adayların sınavı geçersiz sayılacak ayrıca 2 yıl boyunca ÖSYM tarafından düzenlenen hiçbir sınavı başvuru yapamayacak ve sınava giremeyecektir. Sınav görevlileri bir salondaki sınavın, kurallara uygun biçimde yapılmadığını, toplu kopya girişiminde bulunduğu raporlarında bildirdiği takdirde, ÖSYM bu salonda sınava giren tüm adayların sınavını geçersiz sayabilir.
8. Cevap kâğıdında doldurmanız gereken alanlar bulunmaktadır. Bu alanları doldurunuz. Cevap kâğıdınızı başkaları tarafından görülmeyecek şekilde tutmanız gerekmektedir. Cevap kâğıdına yazılacak her türlü yazıda ve yapılacak bütün işaretlemelerde kurşun kalem kullanılacaktır. Sınav süresi bittiğinde cevapların cevap kâğıdına işaretlenmiş olması gerekir. Soru kitapçığına işaretlenen cevaplar geçerli değildir.
9. Soru kitapçığınızı alır almaz kapağında bulunan ilgili alanları doldurunuz. Size söylendiği zaman sayfaların eksik olup olmadığını, kitapçıkta basım hatalarının bulunup bulunmadığını ve soru kitapçığının her sayfasında basılı bulunan soru kitapçık numarasının, kitapçığın ön kapağında basılı soru kitapçık numarasıyla aynı olup olmadığını kontrol ediniz. Soru kitapçığının sayfası eksik veya basımı hatalıysa değiştirilmesi için salon başkanına başvurunuz. Size bu sınavın her bir testi için ayrı ayrı kitapçıklar verilmektedir. Her kitapçığın Soru Kitapçık Numarası birbirinden farklıdır. Bu nedenle her test için aldığınız kitapçığın Soru Kitapçık Numarası'nı cevap kâğıdınızdaki ilgili alana kodlamanız çok önemlidir. Cevap kâğıdınızdaki "Soru kitapçık numarasını doğru kodladım." kutucuğunu işaretleyiniz. **LYS-3'te size verilen Coğrafya-1 Testi'nin Soru Kitapçık Numarası'nı cevap kâğıdınızdaki "Coğrafya-1 Soru Kitapçık Numarası" alanına kodlayınız. Soru kitapçığı üzerinde yer alan Soru Kitapçık Numarası'nı doğru kodladığınızı beyan eden alanı imzalayınız.**
10. Sınav sonunda soru kitapçıkları toplanacak ve ÖSYM'de incelenecektir. Soru kitapçığının sayfasını koparmayınız. Soru kitapçığının bir sayfası bile eksik çıkarsa sınavınız geçersiz sayılacaktır.
11. Cevap kâğıdına ve soru kitapçığına yazılması ve işaretlenmesi gereken bilgilerde bir eksiklik ve/veya yanlışlık olması hâlinde sınavınızın değerlendirilmesi mümkün değildir, bu husustaki özen yükümlülüğü ve sorumluluk size aittir.
12. Soru kitapçığının sayfalarındaki boş yerleri müsvetde için kullanabilirsiniz.
13. Soruları ve/veya bu sorulara verdiğiniz cevapları ayrı bir kâğıda yazıp bu kâğıdı dışarı çıkarmanız kesinlikle yasaktır.
14. **Sınav salonundan ayrılmadan önce, soru kitapçığınızı, cevap kâğıdınızı ve sınava giriş belgenizi salon görevlilerine eksiksiz olarak teslim ediniz. Bu konudaki sorumluluk size aittir.**
15. **Her testin cevaplarını cevap kâğıdındaki ilgili alana işaretlemeye dikkat ediniz.**
16. Sınav süresi salon görevlilerinin "SINAV BAŞLAMIŞTIR" ibaresiyle başlar, "SINAV BİTMİŞTİR" ibaresiyle sona erer.

Bu testlerin her hakkı saklıdır. Hangi amaçla olursa olsun, testlerin tamamının veya bir kısmının Merkezimizin yazılı izni olmadan kopya edilmesi, fotoğrafının çekilmesi, herhangi bir yolla çoğaltılması, yayımlanması ya da kullanılması yasaktır. Bu yasağa uymayanlar gerekli cezai sorumluluğu ve doğacak tüm mali külfeti peşinen kabullenmiş sayılır.





T.C. Ölçme, Seçme ve Yerleştirme Merkezi

LİSANS YERLEŐTİRME SINAVI-3

COĞRAFYA-1 TESTİ

26 HAZİRAN 2016

PAZAR

Bu testlerin her hakkı saklıdır. Hangi amaçla olursa olsun, testlerin tamamının veya bir kısmının Merkezimizin yazılı izni olmadan kopya edilmesi, fotoğrafının çekilmesi, herhangi bir yolla çoğaltılması, yayımlanması ya da kullanılması yasaktır. Bu yasağa uymayanlar gerekli cezai sorumluluğu ve testlerin hazırlanmasındaki mali külfeti peşinen kabullenmiş sayılır.

AÇIKLAMA

1. Bu kitapçıkta Lisans Yerleşirme Sınavı-3 **Coğrafya-1 Testi** bulunmaktadır.
2. Bu test için verilen cevaplama süresi **35 dakikadır**.
3. Bu testte yer alan her sorunun sadece bir doğru cevabı vardır. Bir soru için birden çok cevap yeri işaretlenmişse o soru yanlış cevaplanmış sayılacaktır.
4. İşaretlediğiniz bir cevabı değiştirmek istediğinizde, silme işlemini çok iyi yapmanız gerektiğini unutmayınız.
5. **Bu test puanlanırken doğru cevaplarınızın sayısından yanlış cevaplarınızın sayısının dörtte biri çıkarılacak ve kalan sayı ham puanınız olacaktır.**
6. Cevaplamaya istediğiniz sorudan başlayabilirsiniz. Bir soru ile ilgili cevabınızı, cevap kâğıdında o soru için ayrılmış olan yere işaretlemeyi unutmayınız.
7. Sınavda uyulacak diğer kurallar bu kitapçığın arka kapağında belirtilmiştir.

1. Bu testte 24 soru vardır.

2. Cevaplarınızı, cevap kâğıdının Coğrafya-1 Testi için ayrılan kısmına işaretleyiniz.

1. I. Tarım teknolojilerindeki gelişmelere bağlı olarak tarımsal verimin artması
 II. Taş kömürü yataklarının bulunduğu alanlarda sanayi faaliyetlerinin gelişmesi
 III. Bitki örtüsünün tahrip edildiği alanlarda erozyon riskinin artması
 IV. Yapı malzemesinin kerpiç olduğu alanlarda depremin yıkıcı etkisinin fazla olması

Yukarıdakilerden hangileri ekonomik coğrafyanın doğrudan inceleme konuları arasında yer alır?

- A) I ve II B) I ve III C) II ve III
 D) II ve IV E) III ve IV

2. Coğrafya dersinde, yaşadığı köy hakkındaki gözlemlerini aktaran bir öğrenci, köyünde çok sayıda dolin ve obruk olduğunu söylemiştir.

Buna göre, öğrencinin yaşadığı köyle ilgili aşağıdakilerden hangisine öncelikli olarak ulaşılabilir?

- A) Bitki türlerine B) Kayaç türlerine
 C) İklim özelliklerine D) Toprak türlerine
 E) Ekonomik faaliyetlerine

3. Aşağıdaki haritada bazı biyomların yerleri numaralandırılarak gösterilmiştir.



Bu yerlerin coğrafi özellikleri göz önüne alındığında hangi biyomlardaki bitki ve hayvan türlerinin birbiriyle daha çok benzerlik göstermesi beklenir?

- A) I ve II B) I ve III C) II ve IV
 D) III ve V E) IV ve V

4. Ekosistem içerisindeki canlıların gereksinim duyduğu azotun esas kaynağını atmosfer oluşturur. Bu azotun bitkiler tarafından kullanılabilmesi için nitrit ve nitratlara dönüşmesi gerekir.

Bu dönüşüm,

- I. orman yangınları sonucunda küllerin toprağa geçmesi,
 II. topraktaki bazı bakterilerin ölen canlıları ayrıştırması,
 III. hava ile temas ettiği yüzeylerde doğrudan suya geçmesi,
 IV. havada oksijenle birleşen azotun yağışlarla toprağa geçmesi

süreçlerinden hangileriyle gerçekleşir?

- A) I ve II B) I ve III C) II ve III
 D) II ve IV E) III ve IV

5. Aşağıdaki haritada bazı yerler numaralandırılarak gösterilmiştir.



Bu yerlerde oluşan doğa olaylarıyla ilgili aşağıdakilerden hangisi söylenemez?

- A) I numaralı yerde bazı yıllar çok şiddetli kasırgalar meydana gelebilmektedir.
- B) III numaralı yerdeki düzensiz yağışlar kuraklıklara neden olmaktadır.
- C) II numaralı yerde sık sık sel ve taşkınlar yaşanmaktadır.
- D) V numaralı yerdeki aşırı soğuklar günlük hayatı olumsuz etkilemektedir.
- E) IV numaralı yerde zaman zaman şiddetli depremler meydana gelebilmektedir.

6. Aşağıdaki haritada bazı yerler numaralandırılarak gösterilmiştir.



Yeryüzünde yerleşmeyi sınırlandıran etkenler göz önüne alındığında bu yerlerle ilgili aşağıdakilerden hangisi yanlıştır?

- A) I numaralı yer, tarımsal etkinliklerin sınırlı olduğu alanlardan biridir.
- B) II numaralı yerde iklimin uygunluğu sayesinde yerleşmeler oldukça sıktır.
- C) III numaralı yer, ilk uygarlıkların kurulduğu yerlerden biridir.
- D) IV numaralı yerde engebelilik nedeniyle yerleşmeler seyrekler.
- E) V numaralı yerde iklime bağlı olarak nüfus yoğunluğu azdır.

7. I. Çan şeklindeki nüfus piramitleri doğumların yeniden artmaya başladığını gösterir.
 II. Düzgün üçgen şeklindeki nüfus piramitleri yüksek doğum ve ölüm oranlarını gösterir.
 III. Tabanı hızla daralan nüfus piramitleri yüksek doğurganlık oranlarını gösterir.

Nüfus piramitlerinin şekil özellikleriyle ilgili yukarıdakilerden hangileri doğrudur?

- A) Yalnız I
- B) Yalnız II
- C) I ve II
- D) I ve III
- E) II ve III

8. Yeryüzünde farklı özelliklere sahip bazı önemli şehirler bulunmaktadır. Bu şehirlerin bölgesel ve küresel ölçekteki önemi sadece sahip olduğu coğrafi özelliklerle sınırlı olmayıp ülkelerin ekonomik gücü de şehirlerin fonksiyonel özelliklerinin belirginleşmesinde önemli bir etki yapmaktadır.

Aşağıdaki liman şehirlerinden hangisinin küresel bir fonksiyon kazanmasında bu etki daha belirgindir?

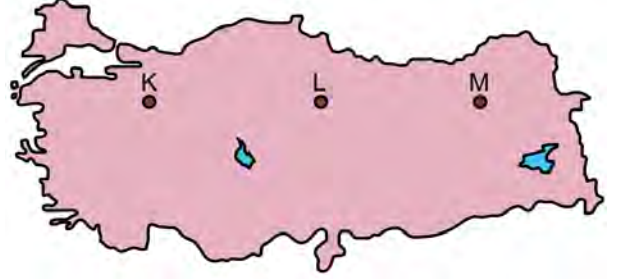
- A) Aden B) Kahire C) Jakarta
D) Hamburg E) Stokholm

9. Dünyadaki ilk kültür merkezlerinin ortaya çıkışında akarsuların ve onların oluşturduğu verimli tarım arazilerinin büyük önemi vardır. Bu akarsuların bulunduğu alanlar geçmişten günümüze önemini hep korumuştur.

Aşağıdakilerden hangisi, bu türden akarsulara örnek gösterilemez?

- A) Nil B) Volga C) Dicle
D) Fırat E) İndus

10. Aşağıdaki haritada gösterilen K, L ve M yerleşim merkezleri yaklaşık aynı enlem üzerinde olmalarına rağmen iklim koşulları birbirinden farklıdır.



Aşağıdakilerden hangisi, bu farklılığın nedenlerinden biri değildir?

- A) Güneş ışınlarının geliş açısı
B) Egemen rüzgâr yönü
C) Yükselti
D) Bulutluluk
E) Denize uzaklık

11. I. Kıtaların birbirine çok yaklaştığı alanda bulunmasına bağlı olarak Doğu ve Batı kültürleri arasındaki etkileşimi daha yoğun yaşaması
II. Zengin petrol ve doğal gaz rezervlerine sahip Orta Doğu ve Kafkas ülkeleri ile sanayileşmiş fakat yeterli enerji kaynaklarına sahip olmayan Avrupa ülkeleri arasında bulunması
III. İstanbul ve Çanakkale boğazlarının, Karadeniz'e kıyısı olan limanlar için çıkış noktası olması

Yukarıdakilerden hangileri Türkiye ekonomisine uluslararası düzeyde doğrudan katkı sağlamaktadır?

- A) Yalnız I B) Yalnız II C) Yalnız III
D) I ve II E) II ve III

12. Aşağıdaki haritada bazı alanlar numaralandırılarak koyu renkle gösterilmiştir.



Bu alanların hangilerinde tarımda sulamaya duyulan ihtiyaç daha fazladır?

- A) I ve II B) I ve III C) II ve V
D) III ve IV E) IV ve V
13. Aşağıdaki haritada bazı yerler numaralandırılarak gösterilmiştir.



Bu yerlerde meydana gelen doğal afetlerle ilgili aşağıdakilerden hangisi yanlıştır?

- A) I numaralı yerde, iklim özelliklerine bağlı olarak özellikle yaz döneminde şiddetli kuraklık yaşanmaktadır.
B) II numaralı yerden geçen fay hattına bağlı olarak büyük depremler oluşmaktadır.
C) III numaralı yerde, arazi koşulları ve yağış özelliklerine bağlı olarak heyelanların olduğu görülmektedir.
D) IV numaralı yerde, özellikle kış aylarındaki aşırı yağışların etkisiyle taşkın riski yüksektir.
E) V numaralı yerde, iklim ve bitki örtüsü özelliklerine bağlı olarak orman yangınları çıkmaktadır.

14. Türkiye'de demir yollarının önemli bir kısmı, liman şehirleri ile iç kesimler arasındaki bağlantıyı sağlamak için yapılmıştır. Üretilen ürünlerin limanlarla iç ve dış pazarlara daha kolay taşınması amacıyla yapılan demir yolları, özellikle Cumhuriyet Dönemi'nde ülke ekonomisine ve bu şehirlerin kalkınmasına büyük katkı sağlamıştır.

Bu özellikteki şehirlere aşağıdakilerden hangisi örnek gösterilemez?

- A) İzmir B) Mersin C) Trabzon
D) Samsun E) İskenderun

15. Aşağıdaki haritada Türkiye'nin farklı yörelerinden bazı alanlar koyu renkle gösterilmiştir.



Coğrafi özellikleri dikkate alındığında aşağıdakilerden hangisi bu alanlar için ortak bir bölge sınıflandırmasıdır?

- A) Dağlık bölgeler B) Maden bölgeleri
C) Tarım bölgeleri D) Ormanlık bölgeleri
E) Hayvancılık bölgeleri

16. Aşağıda, haritada bazı tarihî merkezler ve bu merkezlerin dördüne ait bazı özellikler verilmiştir.



- Antik Dönem'in önemli liman kentlerinden biridir.
- Frig uygarlığına başkentlik yapmış olan bir merkezdir.
- Anadolu'daki en eski imparatorluklardan olan Hitit İmparatorluğuna başkent olmuş bir merkezdir.
- Anadolu'da ilk yerleşik hayatın başladığı merkezlerden biridir. Bu yönüyle yerleşim tarihi açısından oldukça önemlidir.

Buna göre yukarıda, hangi tarihî merkeze ait bilgi verilmemiştir?

- A) Efes B) Gordion C) Hattuşa
- D) Çatalhöyük E) Tuşpa
17. Yeryüzünün kurak alanlarını oluşturan "Sıcak Çöl Bölgeleri" insan faaliyetlerini sınırlandırmakta bazen de imkânsız hâle getirmektedir.

Bu özelliklere sahip aşağıdaki yerlerden hangisi Kuzey Yarım Küre'de yer almaz?

- A) Gobi B) Büyük Sahra
- C) Atakama D) Kızılıkum
- E) Takla-Makan

18. Çin ve Hindistan, bazı tarım ürünlerinin üretiminde dünyada ilk sıralarda yer almalarına rağmen dünya tarım ticaretinde önemli bir yere sahip değildir.

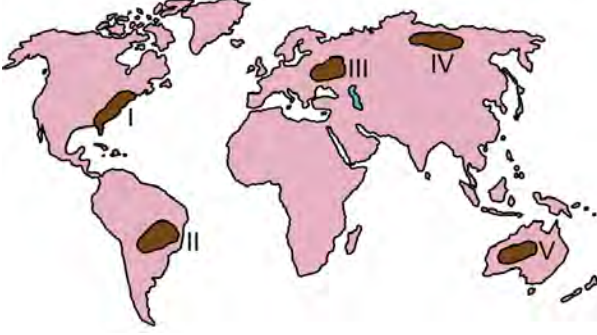
Bu durumun temel nedeni aşağıdakilerden hangisidir?

- A) İş gücü maliyetlerinin yüksek olması
- B) Küresel pazarlarda rekabet edememeleri
- C) Üretim maliyetlerinin yüksek olması
- D) Tüketim bölgelerine uzak olmaları
- E) Nüfuslarının fazla olması
19. Orta Doğu'nun enerji yataklarına bir alternatif olarak gösterilen Hazar Havzası, petrol ve doğal gaz rezervleri bakımından oldukça zengindir. Bu havzada üretilen petrol ve doğal gazın önemli bir kısmı boru hatları ile dünyanın başka bölgelerine aktarılmaktadır.

Aşağıdakilerin hangisinde verilen ülkelerin tümü bu havzada yer almaktadır?

- A) Azerbaycan-Kazakistan-Türkmenistan
- B) Kazakistan-Özbekistan-Azerbaycan
- C) Türkmenistan-Gürcistan-Azerbaycan
- D) Rusya-Kırgızistan-Kazakistan
- E) İran-Azerbaycan-Tacikistan

20. Aşağıdaki haritada farklı coğrafi özelliklere sahip beş alan numaralandırılarak koyu renkle gösterilmiştir.



Bu alanların hangileri, tarımsal faaliyetler açısından diğerlerine göre daha olumsuz koşullara sahiptir?

- A) I ve II B) I ve V C) II ve III
D) III ve IV E) IV ve V

21. I. Erozyon
II. Kuraklık
III. Asit yağmurları
IV. Sel

Yukarıdakilerden hangileri, doğal ve beşerî faktörlerin birlikte etkili olduğu karma afet türleri içerisinde yer alır?

- A) I ve II B) I ve III C) II ve III
D) II ve IV E) III ve IV

22. Günümüzde dünya enerji ihtiyacının önemli bir bölümünü karşılayan fosil kaynakların tüketimi her geçen yıl artmaya devam etmektedir. Bu enerji kaynakları rezervleri itibarıyla sınırlı kaynaklardır. Artan enerji ihtiyacı ve mevcut rezervler düşünüldüğünde bu enerji kaynaklarının önümüzdeki yıllarda tükenmesi beklenmektedir.

Aşağıdaki enerji kaynaklarından hangisi bu grup içerisinde yer almaz?

- A) Petrol B) Doğal gaz C) Hidrojen
D) Kömür E) Kaya gazı

23. Fosil yakıtların tüketimindeki artış çevresel olarak büyük zararlara yol açmaktadır. Bu durum gelişmiş ülkelerde teknolojinin de yardımı ile kontrol altına alınabilmektedir. Bu sayede de olumsuz çevresel etkiler azaltılmaktadır.

Buna göre;

- I. sanayi tesislerinin bacalarına filtre takılması,
II. petrokimya sanayilerinin şehirlerin dışına kurulması,
III. enerji verimini artıran yenilik ve teknolojik gelişmeler

faaliyetlerinden hangileri bu etkiyi azaltmaz?

- A) Yalnız I B) Yalnız II C) Yalnız III
D) I ve II E) II ve III

24. Doğal kaynakların birçoğunun yenilenebilir özellikte olmaması, verimsiz ve aşırı kullanımı bu kaynakların sürdürülebilir bir şekilde kullanılmasını gerekli kılmıştır.

Aşağıdakilerden hangisi bu kaynakların sürdürülebilirliğine uygun bir örnek olarak gösterilebilir?

- A) Barajların çevresinin ağaçlandırılması
B) Şehirlerin doğal gaz ile ısıtılmaya başlanması
C) Doğal alanların millî park şeklinde korunması
D) Fosil enerji kaynaklarının çıkarılmasında yeni teknolojilerin kullanılması
E) Havza planlamaları ile su kaynaklarının korunması

SINAVDA UYULACAK KURALLAR

1. Sınav salonunda saate entegre kamera ile kayıt yapılıyor ise kamera kayıtlarının incelenmesinden sonra sınav kurallarına uymadığı tespit edilen adayların sınavları ÖSYM Yönetim Kurulunca geçersiz sayılacaktır.
2. **Cep telefonu ile sınava girmek kesinlikle yasaktır.** Her türlü elektronik/mechanik cihazla ve çağrı cihazı, telsiz, fotoğraf makinesi vb. araçlarla; cep bilgisayarı, her türlü saat ile, kablosuz iletişim sağlayan bluetooth, kulaklık vb. her türlü bilgisayar özelliği bulunan cihazlarla; her türlü kesici ve delici alet, ateşli silah vb. teçhizatla; kalem, silgi, kalemtırış, müsvedde kâğıdı, defter, kitap, ders notu, sözlük, dergi, gazete vb. yayınlar, hesap makinesi, pergel, açıölçer, cetvel vb. araçlarla sınava girmek kesinlikle yasaktır. Sınava kolye, küpe, yüzük (alyans hariç), bilezik, broş, anahtar, anahtarlık, metal para gibi metal içerikli eşyalarla (basit başörtü iğnesi ve ince metal tokalı kemer hariç); plastik veya camdan yapılmış her türlü güneş gözlüğü ile (şeffaf/numaralı gözlük hariç), banka/kredi kartı ulaşım kartı vb. kartlarla; yiyecek, içecek (şeffaf pet şişe içerisindeki su hariç) ve diğer tüketim maddeleri ile gelinmesi kesinlikle yasaktır. Bu araçlarla sınava girmiş adayların adı mutlaka Salon Sınav Tutanağına yazılacak, bu adayların sınavı geçersiz sayılacaktır. **Ancak, ÖSYM Başkanlığı tarafından belirlenen Engelli ve Yedek Sınav Evrakı Yönetim Merkezi (YSYM) binalarında sınava girecek olan engelli adayların sınava giriş belgelerinde yazılı olan araç gereçler, cihazlar vb. yukarıda belirtilen yasakların kapsamı dışında değerlendirilecektir.**
3. Bu test için verilen cevaplama süresi **35 dakikadır.** LYS-3'te adaylar **Türk Dili ve Edebiyatı Testinin cevaplama süresi içinde, Coğrafya-1 Testinin ilk 15 ve son 15 dakikası** içinde sınav salonundan ayrılmazlar. İki test arasında birinci testin soru kitapçığının toplanması ve ikinci testin soru kitapçığının dağıtılması işlemleri dışında ara verilmez. Toplama ve dağıtma işlemi sırasında adayların salondan dışarı çıkmaları kesinlikle yasaktır. **Bu süreler dışında, cevaplama sınav bitmeden tamamlarsanız cevap kâğıdınızı ve soru kitapçığınızı salon görevlilerine teslim ederek salonu terk edebilirsiniz. Bildirilen sürelere aykırı davranışlardan adayın kendisi sorumludur.**
4. **Sınav salonundan ayrılan aday, her ne sebeple olursa olsun, tekrar sınava alınmayacaktır.**
5. Sınav süresince görevlilerle konuşmak, görevlilere soru sormak yasaktır. Aynı şekilde görevlilerin de adaylarla yakından ve alçak sesle konuşmaları ayrıca adayların birbirinden kalem, silgi vb. şeyleri istemeleri kesinlikle yasaktır.
6. Sınav sırasında, görevlilerin her türlü uyarısına uymak zorundasınız. Sınavınızın geçerli sayılması, her şeyden önce, sınav kurallarına uymanıza bağlıdır. Kurallara aykırı davranışta bulunanların ve yapılacak uyarılara uymayanların kimlik bilgileri Salon Sınav Tutanağına yazılacak ve sınavları geçersiz sayılacaktır.
7. Sınav sırasında kopya çeken, çekmeye kalkışan, kopya veren, kopya çekilmesine yardım edenlerin kimlik bilgileri Salon Sınav Tutanağına yazılacak ve bu adayların sınavları geçersiz sayılacaktır. Adayların test sorularına verdikleri cevapların dağılımları bilgi işlem yöntemleriyle incelenecek, bu incelemelerden elde edilen bulgular bireysel veya toplu olarak kopya çekildiğini gösterirse kopya eylemine katılan adayın/adayların sınavı geçersiz sayılacak ayrıca 2 yıl boyunca ÖSYM tarafından düzenlenen tüm sınavlara başvurusu yasaklanabilecektir. Sınav görevlileri bir salondaki sınavın, kurallara uygun biçimde yapılmadığını, toplu kopya girişiminde bulunulduğunu raporlarında bildirdiği takdirde, ÖSYM bu salonda sınava giren tüm adayların sınavını geçersiz sayabilir.
8. Cevap kâğıdında doldurmanız gereken alanlar bulunmaktadır. Bu alanları doldurunuz. Cevap kâğıdınızı başkaları tarafından görülmeyecek şekilde tutmanız gerekmektedir. Cevap kâğıdına yazılacak her türlü yazıda ve yapılacak bütün işaretlemelerde kurşun kalem kullanılacaktır. Sınav süresi bittiğinde cevapların cevap kâğıdına işaretlenmiş olması gerekir. Soru kitapçığına işaretlenen cevaplar geçerli değildir.
9. Soru kitapçığınızı alır almaz kapağında bulunan ilgili alanları doldurunuz. Size söylendiği zaman sayfaların eksik olup olmadığını, kitapçıkta basım hatalarının bulunup bulunmadığını ve soru kitapçığının her sayfasında basılı bulunan soru kitapçık numarasının, kitapçığın ön kapağında basılı soru kitapçık numarasıyla aynı olup olmadığını kontrol ediniz. Soru kitapçığının sayfası eksik veya basımı hatalıysa değiştirilmesi için salon başkanına başvurunuz. Size bu sınavın her bir testi için ayrı ayrı kitapçıklar verilmektedir. Her kitapçığın Soru Kitapçık Numarası birbirinden farklıdır. Bu nedenle her test için aldığınız kitapçığın Soru Kitapçık Numarasını cevap kâğıdınızdaki ilgili alana kodlamanız çok önemlidir. Cevap kâğıdınızdaki "Soru Kitapçık Numaralarını doğru kodladım." kutucuğunu işaretleyiniz. **LYS-3'te size verilen Coğrafya-1 Testinin Soru Kitapçık Numarasını cevap kâğıdınızdaki "Coğrafya-1 Soru Kitapçık Numarası" alanına kodlayınız.** **Soru kitapçığı üzerinde yer alan Soru Kitapçık Numarasını doğru kodladığınızı beyan eden alanı imzalayınız.**
10. Sınav sonunda soru kitapçıkları toplanacak ve ÖSYM'de incelenecektir. Soru kitapçığının sayfalarını koparmayınız. Soru kitapçığının bir sayfası bile eksik çıkarsa sınavınız geçersiz sayılacaktır.
11. Cevap kâğıdına ve soru kitapçığına yazılması ve işaretlenmesi gereken bilgilerde bir eksiklik ve/veya yanlışlık olması hâlinde sınavınızın değerlendirilmesi mümkün değildir, bu husustaki özen yükümlülüğü ve sorumluluk size aittir.
12. Soru kitapçığının sayfalarındaki boş yerleri müsvedde için kullanabilirsiniz.
13. Soruları ve/veya bu sorulara verdiğiniz cevapları ayrı bir kâğıda yazıp bu kâğıdı dışarı çıkarmanız kesinlikle yasaktır.
14. **Sınav salonundan ayrılmadan önce, soru kitapçığınızı, cevap kâğıdınızı ve sınava giriş belgenizi salon görevlilerine eksiksiz olarak teslim etmeyi unutmayınız.**
15. **Her testin cevaplarını cevap kâğıdındaki ilgili alana işaretleyiniz.**
16. Sınav süresi salon görevlilerinin "SINAV BAŞLAMIŞTIR" ibaresiyle başlar, "SINAV BİTMİŞTİR" ibaresiyle sona erer.

Bu testlerin her hakkı saklıdır. Hangi amaçla olursa olsun, testlerin tamamının veya bir kısmının Merkezimizin yazılı izni olmadan kopya edilmesi, fotoğrafının çekilmesi, herhangi bir yolla çoğaltılması, yayımlanması ya da kullanılması yasaktır. Bu yasağa uymayanlar gerekli cezai sorumluluğu ve doğacak tüm mali külfeti peşinen kabullenmiş sayılır.

LİSANS YERLEŐTİRME SINAVI (LYS)

26 HAZİRAN 2016

LYS – 3 / COĞRAFYA-1 TESTİ CEVAP ANAHTARI

- | | |
|-------|-------|
| 1. A | 16. E |
| 2. B | 17. C |
| 3. D | 18. E |
| 4. D | 19. A |
| 5. C | 20. E |
| 6. B | 21. B |
| 7. C | 22. C |
| 8. D | 23. B |
| 9. B | 24. E |
| 10. A | |
| 11. E | |
| 12. C | |
| 13. A | |
| 14. C | |
| 15. C | |



T.C. Ölçme, Seçme ve Yerleştirme Merkezi

LİSANS YERLEŐTİRME SINAVI-3
COĞRAFYA-1 TESTİ
21 HAZİRAN 2015 PAZAR

Bu testlerin her hakkı saklıdır. Hangi amaçla olursa olsun, testlerin tamamının veya bir kısmının Merkezimizin yazılı izni olmadan kopya edilmesi, fotoğrafının çekilmesi, herhangi bir yolla çoğaltılması, yayımlanması ya da kullanılması yasaktır. Bu yasağa uymayanlar gerekli cezai sorumluluğu ve testlerin hazırlanmasındaki mali külfeti peşinen kabullenmiş sayılır.

AÇIKLAMA

1. Bu kitapçıkta Lisans Yerleşirme Sınavı-3 **Coğrafya-1 Testi** bulunmaktadır.
2. Bu test için verilen cevaplama süresi **35 dakikadır**.
3. Bu testte yer alan her sorunun sadece bir doğru cevabı vardır. Bir soru için birden çok cevap yeri işaretlenmişse o soru yanlış cevaplanmış sayılacaktır.
4. İşaretlediğiniz bir cevabı değiştirmek istediğinizde, silme işlemini çok iyi yapmanız gerektiğini unutmayınız.
5. **Bu test puanlanırken doğru cevaplarınızın sayısından yanlış cevaplarınızın sayısının dörtte biri çıkarılacak ve kalan sayı ham puanınız olacaktır.**
6. Cevaplamaya istediğiniz sorudan başlayabilirsiniz. Bir soru ile ilgili cevabınızı, cevap kâğıdında o soru için ayrılmış olan yere işaretlemeyi unutmayınız.
7. Sınavda uyulacak diğer kurallar bu kitapçığın arka kapağında belirtilmiştir.

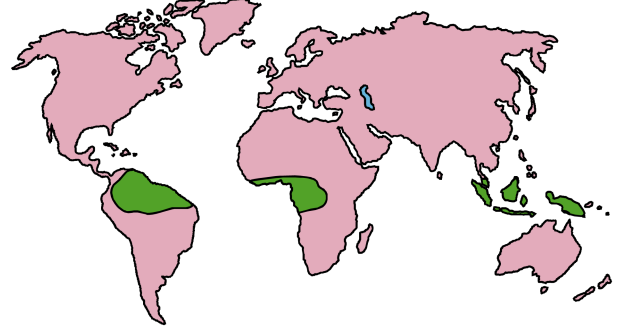
1. Bu testte 24 soru vardır.
2. Cevaplarınızı, cevap kâğıdının Coğrafya-1 Testi için ayrılan kısmına işaretleyiniz.

1. Yer kabuğunun geniş alanlı alçalma ve yükselmeleri epirojenik hareketler olarak ifade edilir. Bu durum, yer kabuğunu oluşturan levhaların izostatik dengeye bağlı olarak ağırlıklarının artması veya azalmasıyla gerçekleşir.

Aşağıdakilerden hangisi bu durumun gerçekleşmesinde etkili olmaz?

- A) İklim değişimine bağlı olarak geniş ve kalın buzulların oluşması
- B) Okyanus tabanlarında tortullanmanın oluşması
- C) Kara içlerindeki volkan faaliyetlerinin artması
- D) Dış kuvvetlerin aşındırmasıyla karaların hacim kaybetmesi
- E) Okyanus ve denizlerde derinliğin değişmesi

2. Aşağıdaki haritada tropikal iklimin etkili olduğu bazı alanlar yeşil renkle gösterilmiştir.



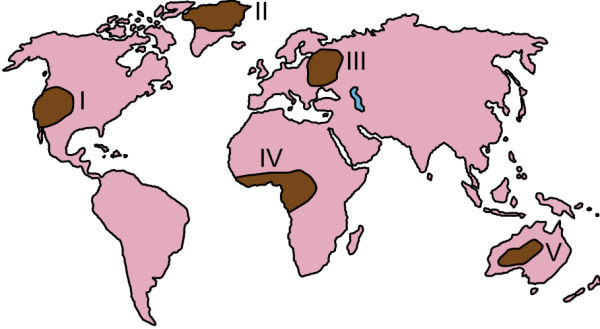
Bu iklimin etkili olduğu alanlardaki doğal bitki örtüsü için aşağıdakilerden hangisi söylenemez?

- A) Tür sayısı fazladır.
- B) Bitkilerin büyümesi hızlıdır.
- C) Yetiştirme dönemi kesintisizdir.
- D) İğne yapraklı ağaçlar yaygındır.
- E) Yıl boyunca yeşil kalırlar.

3. Canlı dokularını meydana getiren bileşikleri oluşturması nedeniyle hayati öneme sahip olan karbon döngüsü, karasal ve sulara ait iki büyük ekosistemde meydana gelir. Bu ekosistemlerde üretilen karbondioksit; karalar, sular ve atmosfer arasında dolaşmaktadır. Ancak bazı durumlarda bu döngünün kesintiye uğradığı görülür.

Aşağıdakilerden hangisi, bu döngü sırasındaki kesintinin nedenlerinden biridir?

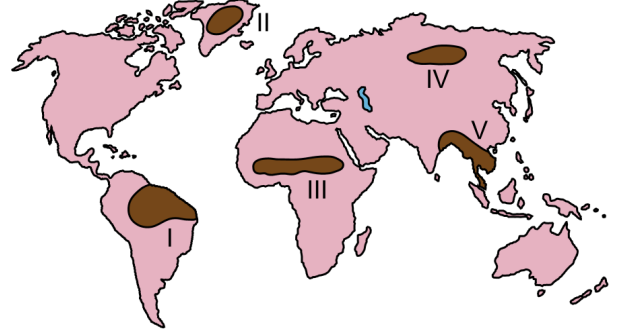
- A) Kireç taşlarının yakılması
B) Bitki kalıntılarının kömürleşmesi
C) Fosil yakıtların kullanılması
D) Katı atıkların depo edilmesi
E) Su kaynaklarının kirlenmesi
4. Aşağıdaki haritada bazı alanlar numaralandırılarak koyu renkle gösterilmiştir.



Bu alanların hangilerinde, birincil tüketiciler ihtiyaçları olan enerjiyi daha zor karşılarlar?

- A) I ve II B) I ve III C) II ve V
D) III ve IV E) IV ve V

5. Aşağıda, haritada numaralandırılarak koyu renkle gösterilmiş beş bölge ve bu bölgelerin dördünde insan etkisine bağlı olarak doğal sistemlerde meydana gelebilecek değişimlere ait tahminler verilmiştir.



- Bitki örtüsündeki aşırı tahribat, dünyanın akciğeri olarak adlandırılan bu bölgedeki ormanların büyük oranda yok olmasına yol açacaktır.
- Buzulların erimesine bağlı olarak deniz seviyesinde meydana gelecek yükselme, burada yaşayan insanların yer değiştirmesine neden olacaktır.
- Küresel ısınmaya bağlı olarak atmosfer sıcaklıklarının artması, bu bölgedeki buzulların erime sürecini hızlandıracaktır.
- İklim değişimlerine bağlı olarak yağışlardaki düzensizlik, bu bölgede çölleşme sürecini hızlandıracaktır.

Buna göre, yukarıda hangi numarayla gösterilen bölgenin değişimi hakkında bir tahmin verilmemiştir?

- A) I B) II C) III D) IV E) V

6. Tarih boyunca dünya nüfusunun büyük kısmı kırsal alanlarda yaşamış olsa da ekonomik faaliyetlerdeki değişim ve bilgi birikimi, şehirlerin büyümesini ve sayılarının hızla artmasını sağlamıştır.

Aşağıdakilerden hangisi bu sürecin yaşanmasında dönüm noktası olmuştur?

- A) Sanayi faaliyetlerinin artması
- B) Yeni enerji kaynaklarının keşfi
- C) Değerli madenlerin çıkarılması
- D) Yönetim şekillerinin değişmesi
- E) Tarımsal tekniklerin yenilenmesi
7. Bir ülkedeki K ve L şehirlerine her yıl yurt içi ve yurt dışından binlerce insan gelmektedir. K şehrine gelenler, bu şehirde belirli bir süre kalmakta ve şehrin farklı doğal güzelliklerinden yararlanmakta iken L şehrine gelenler, farklı ürünleri görmek ve alışveriş yapmak için bu şehre gelmektedir.

Bu şehirlerin etki alanlarının farklılık göstermesindeki temel unsurlar aşağıdakilerin hangisinde verilmiştir?

 K şehri L şehri

- A) Turizm Ticaret
- B) Ticaret Ulaşım
- C) Sanat Ticaret
- D) İletişim Sanayi
- E) Ulaşım Turizm

8. Yeryüzünde coğrafi koşullara bağlı olarak birbirinden farklı medeniyetler doğmuş ve gelişmiştir. Akdeniz, Mezopotamya, Çin ve Mısır gibi medeniyetlere ait kültürel özellikler, etkileşim ile kısmen de olsa birbirlerine geçerken coğrafi keşiflerden sonra bulunan Kuzey ve Güney Amerika kıtalarındaki toplumların oluşturduğu medeniyetlerin yakın zamana kadar Doğu medeniyetleri ile böyle bir etkileşime uğramadıkları görülmüştür.

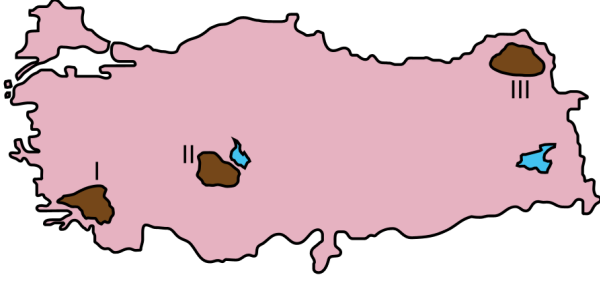
Bu durumun yaşanmasındaki en önemli neden aşağıdakilerden hangisidir?

- A) Dil gruplarının farklılık göstermesi
- B) Etki alanlarının sınırlı olması
- C) İletişim olanaklarının bulunmaması
- D) Ekonomik özelliklerinin değişik olması
- E) Farklı iklim kuşakları üzerinde bulunmaları
9. Türkiye; göreceli konumunun sağladığı koşullarla bölgesel ve küresel ölçekte siyasi, askerî ve ekonomik bir etkiye sahiptir. Bir devletin dünya üzerindeki yeri; dış siyaseti ve ekonomik ilişkileri bu etkide önemli bir yere sahiptir.

Aşağıdakilerden hangisi, Türkiye’de bu durumun ortaya çıkardığı bir gelişme değildir?

- A) Nüfusunun giderek artması
- B) Enerji koridoru olması
- C) AB’ye üyelik başvurusu
- D) NATO’ya üye olması
- E) Ulaşımın giderek gelişmesi

10. Aşağıdaki haritada nüfus yoğunluğunun az olduğu üç alan numaralandırılarak koyu renkle gösterilmiştir.



Bu alanlarda nüfus yoğunluğunun az olmasına neden olan faktörler aşağıdakilerin hangisinde verilmiştir?

- | I | II | III |
|--------------------|------------------|-----------------|
| A) Yer şekilleri | Su yetersizliği | Sert iklim |
| B) Sert iklim | Yükseklik etkisi | Yer şekilleri |
| C) Bitki örtüsü | Yer şekilleri | Toprak verimi |
| D) Su yetersizliği | Toprak verimi | Bitki örtüsü |
| E) Toprak verimi | Sert iklim | Su yetersizliği |

11. Türkiye arazisinin yaklaşık % 62'si, eğim değeri % 15'in üzerinde olan sarp ve engebeli bir yapıya sahiptir. Şiddetli erozyonun yaşandığı bu alanlarda tarım alanları oldukça dardır. Nüfusun seyrek, toprak örtüsünün ince olduğu bu alanlar daha çok ormancılık veya hayvancılık faaliyetlerinin yoğunlaştığı yörelerdir.

Aşağıdaki yörelerden hangisi bu özellikleri daha az gösterir?

- A) Artvin B) Tunceli C) Manisa
D) Zonguldak E) Kastamonu

12. Cumhuriyetin ilanından günümüze Türkiye ekonomisinin sektörlere göre oransal dağılımı büyük ölçüde değişim göstermiştir. Cumhuriyetin ilk yıllarında millî gelir içerisinde tarım sektörü en büyük paya sahipken günümüzde bu sektör üçüncü sıraya gerilemiştir.

Bu sektörün payının azalmasının en önemli nedeni aşağıdakilerden hangisidir?

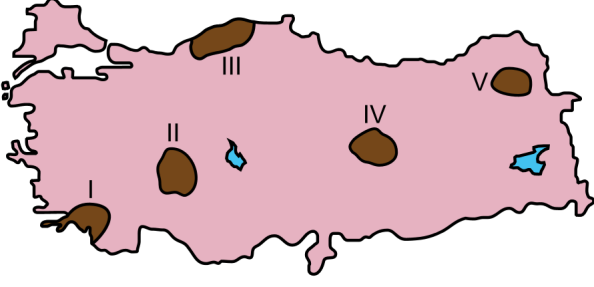
- A) Tarımsal arazilerin nitelik ve yapısının iyi olmaması
B) Tarımsal arazilerin yeterli büyüklükte olmaması
C) Gübre ve ilaç kullanımındaki yetersizlikler
D) Tarımsal araç ve gereç kullanımındaki yetersizlikler
E) Ekonomik büyümenin hizmet ve sanayi sektörüne bağlı gelişmesi

13. Türkiye arazisi, sahip olduğu coğrafi özelliklere bağlı olarak dünyadaki ilk yerleşim yerlerinden ve en eski medeniyetlerin kurulduğu bölgelerden biri olmuştur.

Bu durumun ortaya çıkmasında aşağıdakilerden hangisinin etkisi diğerlerinden daha azdır?

- A) Verimli toprakların bulunması
B) Uygun iklim koşullarının bulunması
C) Çeşitli madenlere sahip olması
D) Su kaynaklarının yeterli olması
E) Topoğrafik çeşitliliğinin bulunması

14.



Yukarıdaki haritada numaralandırılarak koyu renkle gösterilen alanların hangilerinde, step bitki örtüsü bölge sınıflandırmasında bir ölçüt olarak kullanılabilir?

- A) I ve II B) I ve V C) II ve IV
D) III ve IV E) III ve V

15. Aşağıda, 2013 yılı ihracat rakamlarına göre Türkiye'nin ihracatındaki ürün gruplarından bazıları verilmiştir.

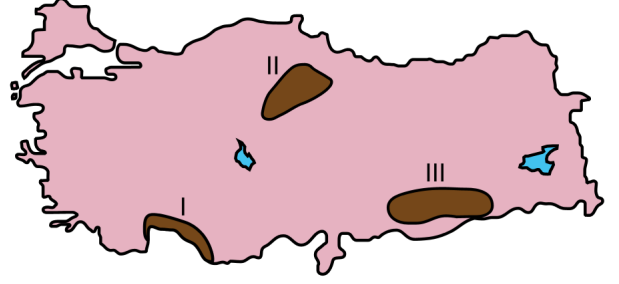
Buna göre;

- I. alüminyum ve alüminyum mamulleri,
- II. motorlu kara taşıtları,
- III. kazan, makine, cihazlar ve aletler,
- IV. pamuk, pamuk ipliği ve pamuklu dokuma

ürünlerinden hangilerinin payı ihracat içinde daha fazla yer tutar?

- A) I ve II B) I ve III C) II ve III
D) II ve IV E) III ve IV

16. Aşağıdaki haritada bazı alanlar numaralandırılarak koyu renkle gösterilmiştir.



Bu alanlarda gerçekleştirilen turizm faaliyetleriyle ilgili olarak aşağıdakilerden hangisi yanlıştır?

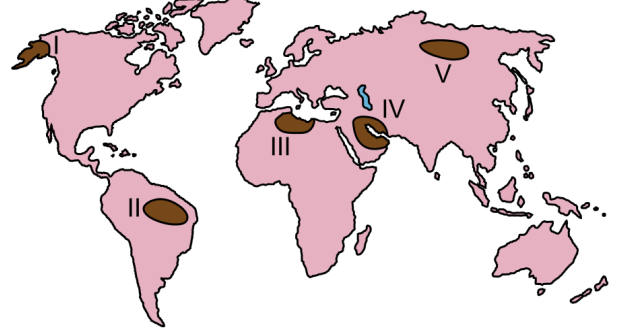
- A) I numaralı alanda, yaz aylarının sıcak geçmesi ve yağışın az olması deniz ve kıyı turizmini geliştirmiştir.
B) II numaralı alan, tarihî bakımdan oldukça zengin olmakla birlikte eski medeniyetlere ait izler de taşımaktadır.
C) III numaralı alanda bitki çeşitliliği, yaban hayatı, botanik ve av turizmi gelişmiştir.
D) I ve III numaralı alanlar, kültürel çeşitliliğe sahip olduğundan kültür turizmi gelişmiştir.
E) I ve II numaralı alanlarda, tarihî kalıntıların fazlalığı buraların koruma altına alınmasını sağlamıştır.

17. Bölge sınırları belirlenirken doğal özellikler, yaygın olarak kullanılan ölçütler arasında yer alır. Ancak zaman içerisinde meydana gelen beşerî müdahaleler, doğal özelliklerle belirlenmiş bir bölge sınırının değişebildiğini göstermektedir.

Bu durum, aşağıdakilerden hangisi için geçerli değildir?

- A) Dağlık bölgelerin madencilik faaliyetine bağlı olarak yerleşime açılması
- B) Bataklık bölgelerin iklime bağlı olarak kuruması sonucu tarıma açılması
- C) Orman bölgelerinin tahribat sonucu yerleşim alanına dönüşmesi
- D) Mera bölgelerinin sayfiye alanı olarak turizm faaliyetlerine açılması
- E) Ovalık bölgelerin nüfus artışına bağlı olarak yerleşime açılması

18. Aşağıdaki haritada bazı alanlar numaralandırılarak koyu renkle gösterilmiştir.



Bu alanlardaki ham madde kaynaklarıyla ilgili olarak aşağıdaki ifadelerden hangisi doğrudur?

- A) I ve II numaralı alanlar zengin kömür kaynaklarına sahiptir.
- B) II ve V numaralı alanlar önemli tarım alanlarına sahiptir.
- C) III ve IV numaralı alanlar zengin petrol kaynaklarına sahiptir.
- D) I ve IV numaralı alanlar ormanlar bakımından öneme sahiptir.
- E) III ve V numaralı alanlar zengin ve temiz su kaynaklarına sahiptir.

19. Dünyanın dördüncü büyük ekonomisine sahip olan Almanya, bu gücünü sanayi alanındaki gelişmişliğinden almaktadır.

Almanya'nın bu gücü yakalamasında;

- I. nüfus büyüklüğü,
- II. nitelikli iş gücü,
- III. nüfus artış oranının düşüklüğü,
- IV. zengin doğal kaynak

faktörlerinden hangileri daha fazla etkili olmuştur?

- A) I ve II
- B) I ve III
- C) II ve III
- D) II ve IV
- E) III ve IV

20. Geçmişten günümüze yapılan insan faaliyetleri doğayla etkileşim içerisinde gerçekleşmiştir. Bazı faaliyetlerin gerçekleştirilmesinde doğal unsurlar belirleyici olduğundan bu faaliyetler sadece belirli alanlarda yapılabilmektedir.

Bu durum;

- I. tarım,
- II. sanayi,
- III. madencilik,
- IV. hayvancılık

faaliyetlerinden hangilerinde daha fazla belirgindir?

- A) I ve II
- B) I ve III
- C) II ve III
- D) II ve IV
- E) III ve IV

21.

- I. Ülkede hizmet sektöründe çalışanların oranının az olması
- II. Tarım alanlarının dar ve toprak veriminin az olması
- III. Halkın temel geçim kaynağının tarım ve hayvancılık olması

Yukarıdakilerden hangileri, bir ülkede yaşanan kuraklığın afet boyutuna ulaşmasında etkilidir?

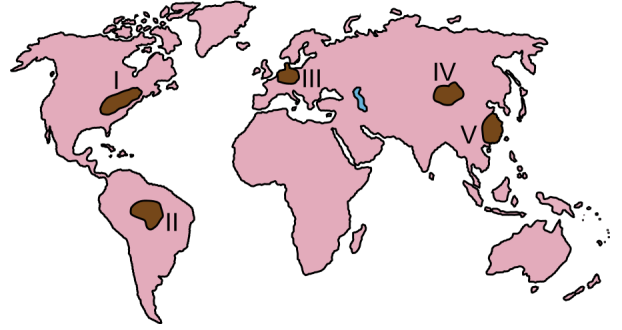
- A) Yalnız I
- B) Yalnız II
- C) Yalnız III
- D) I ve II
- E) II ve III

22. XIX. yüzyılda Batı Avrupa ülkelerinde başlayan sanayileşme faaliyetleri, zamanla Kuzey Amerika ve Doğu Asya ülkelerinde de gelişmeye başlamıştır. Demir-çelik sanayisi bu faaliyetlerin lokomotifi olmuş ve gelişen teknoloji ile birlikte farklı sanayi kolları doğmuştur.

Buna göre, demir-çelik sanayisinin gelişmesinde aşağıdaki doğal kaynaklardan hangisi etkili olmuştur?

- A) Linyit
- B) Petrol
- C) Ormanlar
- D) Doğal gaz
- E) Taş kömürü

23. Aşağıdaki haritada bazı alanlar numaralandırılarak koyu renkle gösterilmiştir.



Bu alanların hangilerinde hava kirliliğine neden olan faaliyetler diğerlerinden daha azdır?

- A) I ve II
- B) I ve V
- C) II ve IV
- D) III ve IV
- E) III ve V

24. Tarım alanları, insanların beslenmesi bakımından en önemli kaynakların başında gelmektedir. Ancak hatalı kullanımlar, tarım toprakları üzerinde önemli bir baskı oluşturmaktadır.

Bu alanların korunmasına yönelik yapılacak uygulamalar arasında aşağıdakilerden hangisi yoktur?

- A) Sürdürülebilir tarım işletmeciliği teşvik edilmelidir.
- B) Toprakların çoraklaşmasına karşı önlem alınmalıdır.
- C) Verimliliği yükseltmek için gübre kullanımı artırılmalıdır.
- D) Ekolojik ilkelere dayalı tarım politikaları geliştirilmelidir.
- E) Toprakların önemi konusunda çiftçiler bilinçlendirilmelidir.

SINAVDA UYULACAK KURALLAR

1. Sınav salonunda saate entegre kamera ile kayıt yapılıyor ise; kamera kayıtlarının incelenmesinden sonra sınav kurallarına uymadığı tespit edilen adayların sınavları ÖSYM Yönetim Kurulunca geçersiz sayılacaktır.
2. **Cep telefonu ile sınava girmek kesinlikle yasaktır.** Her türlü elektronik/mekanik cihazla ve çağrı cihazı, telsiz, fotoğraf makinesi vb. araçlarla; cep bilgisayarını, her türlü saat ile, kablosuz iletişim sağlayan bluetooth, kulaklık vb. her türlü bilgisayar özelliği bulunan cihazlarla; her türlü kesici ve delici alet, ateşli silah vb. teçhizatla; kalem, silgi, kalemıraş, müsvedde kâğıdı, defter, kitap, ders notu, sözlük, dergi, gazete vb. yayınlar, hesap makinesi, pergel, açılöçer, cetvel vb. araçlarla sınava girmek kesinlikle yasaktır. Adayların sınava kolye, küpe, yüzük (alyans hariç), bilezik, broş, anahtar, anahtarlık, metal para gibi metal içerikli eşyalarla (basit başörtü iğnesi ve ince metal tokalı kemer hariç); plastik veya camdan yapılmış her türlü güneş gözlüğü ile (şeffaf/numaralı gözlük hariç), banka/kredi kartı ulaşım kartı vb. kartlarla; yiyecek, içecek (şeffaf pet şişe içerisindeki su hariç) ve diğer tüketim maddeleri ile gelmeleri kesinlikle yasaktır. Bu araçlarla sınava girmiş adayların adı mutlaka Salon Sınav Tutanağına yazılacak, bu adayların sınavı geçersiz sayılacaktır.

Ancak, ÖSYM Başkanlığı tarafından belirlenen Engelli ve Yedek Sınav Evrakı Yönetim Merkezi (YSYM) binalarında sınava girecek olan engelli adayların sınava giriş belgelerinde yazılı olan araç gereçler, cihazlar vb. yukarıda belirtilen yasakların kapsamı dışında değerlendirilecektir.

3. Bu test için verilen cevaplama süresi **35 dakikadır.** LYS-3'te adaylar **Türk Dili ve Edebiyatı Testinin cevaplama süresi içinde, Coğrafya-1 Testinin ilk 15 ve son 15 dakikası** içinde sınav salonundan ayrılamazlar. İki test arasında birinci testin soru kitapçığının toplanması ve ikinci testin soru kitapçığının dağıtılması işlemleri dışında ara verilmez. Toplama ve dağıtma işlemi sırasında adayların salondan dışarı çıkmaları kesinlikle yasaktır. **Bu süreler dışında, cevaplama süresi bitmeden tamamlarsanız cevap kâğıdınızı ve soru kitapçığınızı salon görevlilerine teslim ederek salonu terk edebilirsiniz. Bildirilen süreler aykırı davranışlardan adayın kendisi sorumludur.**

4. **Sınav salonundan ayrılan aday, her ne sebeple olursa olsun, tekrar sınava alınmayacaktır.**
5. Sınav süresince görevlilerle konuşmak, görevlilere soru sormak yasaktır. Aynı şekilde görevlilerin de adaylarla yakından ve alçak sesle konuşmaları ayrıca adayların birbirinden kalem, silgi vb. şeyleri istemeleri kesinlikle yasaktır.
6. Sınav sırasında, görevlilerin her türlü uyarısına uymak zorundasınız. Sınavınızın geçerli sayılması, her şeyden önce, sınav kurallarına uymanıza bağlıdır. Kurallara aykırı davranışta bulunanların ve yapılacak uyarılara uymayanların kimlik bilgileri Salon Sınav Tutanağına yazılacak ve sınavları geçersiz sayılacaktır.
7. Sınav sırasında kopya çeken, çekmeye kalkışan, kopya veren, kopya çekilmesine yardım edenlerin kimlik bilgileri Salon Sınav Tutanağına yazılacak ve bu adayların sınavları geçersiz sayılacaktır.

Adayların test sorularına verdikleri cevapların dağılımları bilgi işlem yöntemleriyle incelenecek, bu incelemelerden elde edilen bulgular bireysel veya toplu olarak kopya çekildiğini gösterirse kopya eylemine katılan adayın/adayların sınavı geçersiz sayılacak ayrıca 2 yıl boyunca ÖSYM tarafından düzenlenen tüm sınavlara başvurusu yasaklanabilecektir.

Sınav görevlileri bir salondaki sınavın, kurallara uygun biçimde yapılmadığını, toplu kopya girişiminde bulunulduğunu raporlarında bildirdiği takdirde, ÖSYM bu salonda sınava giren tüm adayların sınavını geçersiz sayabilir.

8. Cevap kâğıdında doldurmanız gereken alanlar bulunmaktadır. Bu alanları doldurunuz. Cevap kâğıdınızı başkaları tarafından görülmeyecek şekilde tutmanız gerekmektedir. Cevap kâğıdına yazılacak her türlü yazıda ve yapılacak bütün işaretlemelerde kurşun kalem kullanılacaktır. Sınav süresi bittiğinde cevapların cevap kâğıdına işaretlenmiş olması gerekir. Soru kitapçığına işaretlenen cevaplar geçerli değildir.
9. Soru kitapçığınızı alır almaz kapağında bulunan ilgili alanları doldurunuz. Size söylendiği zaman sayfaların eksik olup olmadığını, kitapçıkta basım hatalarının bulunup bulunmadığını ve soru kitapçığının her sayfasında basılı bulunan soru kitapçık numarasının, kitapçığın ön kapağında basılı soru kitapçık numarasıyla aynı olup olmadığını kontrol ediniz. Soru kitapçığının sayfası eksik veya basımı hatalıysa değiştirilmesi için salon başkanına başvurunuz.

Size bu sınavın her bir testi için ayrı ayrı kitapçıklar verilmektedir. Her kitapçığın Soru Kitapçık Numarası birbirinden farklıdır. Bu nedenle her test için aldığınız kitapçığın Soru Kitapçık Numarasını cevap kâğıdınızdaki ilgili alana kodlamanız çok önemlidir. Cevap kâğıdınızdaki "Soru Kitapçık Numaralarını doğru kodladım." kutucuğunu işaretleyiniz.

LYS-3'te size verilen Coğrafya-1 Testinin Soru Kitapçık Numarasını cevap kâğıdınızdaki "Coğrafya-1 Soru Kitapçık Numarası" alanına kodlayınız.

Soru kitapçığı üzerinde yer alan Soru Kitapçık Numarasını doğru kodladığınızı beyan eden alanı imzalayınız.

10. Sınav sonunda soru kitapçıkları toplanacak ve ÖSYM'de incelenecektir. Soru kitapçığının sayfalarını koparmayınız. Soru kitapçığının bir sayfası bile eksik çıkarsa sınavınız geçersiz sayılacaktır.
11. Cevap kâğıdına ve soru kitapçığına yazılması ve işaretlenmesi gereken bilgilerde bir eksiklik ve/veya yanlışlık olması hâlinde sınavınızın değerlendirilmesi mümkün değildir, bu husustaki özen yükümlülüğü ve sorumluluk size aittir.
12. Soru kitapçığının sayfalarındaki boş yerleri müsvedde için kullanabilirsiniz.
13. Soruları ve/veya bu sorulara verdiğiniz cevapları ayrı bir kâğıda yazıp bu kâğıdı dışarı çıkarmanız kesinlikle yasaktır.
14. **Her testin cevaplarını cevap kâğıdındaki ilgili alana işaretleyiniz.**
15. **Sınav salonundan ayrılmadan önce, soru kitapçığınızı, cevap kâğıdınızı ve sınava giriş belgenizi salon görevlilerine eksiksiz olarak teslim etmeyi unutmayınız.**
16. Sınav süresi salon görevlilerinin "SINAV BAŞLAMIŞTIR" ibaresiyle başlar, "SINAV BİTMİŞTİR" ibaresiyle sona erer.

Bu testlerin her hakkı saklıdır. Hangi amaçla olursa olsun, testlerin tamamının veya bir kısmının Merkezimizin yazılı izni olmadan kopya edilmesi, fotoğrafının çekilmesi, herhangi bir yolla çoğaltılması, yayımlanması ya da kullanılması yasaktır. Bu yasağa uymayanlar gerekli cezai sorumluluğu ve doğacak tüm mali külfeti peşinen kabullenmiş sayılır.

LİSANS YERLEŐTİRME SINAVI-3
COĐRAFYA-1 TESTİ
21.06.2015

- | | |
|-------|-------|
| 1. C | 21. E |
| 2. D | 22. E |
| 3. B | 23. C |
| 4. C | 24. C |
| 5. D | |
| 6. A | |
| 7. A | |
| 8. C | |
| 9. A | |
| 10. A | |
| 11. C | |
| 12. E | |
| 13. C | |
| 14. C | |
| 15. C | |
| 16. C | |
| 17. B | |
| 18. C | |
| 19. D | |
| 20. B | |



T.C. Ölçme, Seçme ve Yerleştirme Merkezi

LİSANS YERLEŐTİRME SINAVI-3
COĞRAFYA-1 TESTİ
22 HAZİRAN 2014 PAZAR

Bu testlerin her hakkı saklıdır. Hangi amaçla olursa olsun, testlerin tamamının veya bir kısmının Merkezimizin yazılı izni olmadan kopya edilmesi, fotoğrafının çekilmesi, herhangi bir yolla çoğaltılması, yayımlanması ya da kullanılması yasaktır. Bu yasağa uymayanlar gerekli cezai sorumluluğu ve testlerin hazırlanmasındaki mali külfeti peşinen kabullenmiş sayılır.

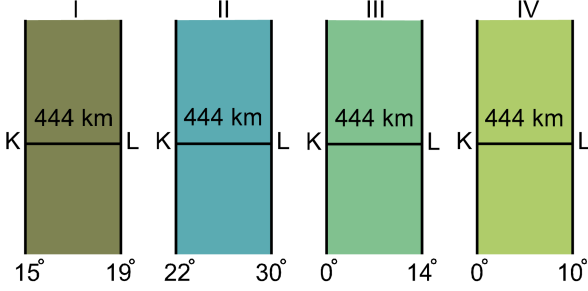
AÇIKLAMA

1. Bu kitapçıkta Lisans Yerleşirme Sınavı-3 **Coğrafya-1 Testi** bulunmaktadır.
2. Bu test için verilen cevaplama süresi **35 dakikadır**.
3. Bu testte yer alan her sorunun sadece bir doğru cevabı vardır. Bir soru için birden çok cevap yeri işaretlenmişse o soru yanlış cevaplanmış sayılacaktır.
4. İşaretlediğiniz bir cevabı değiştirmek istediğinizde, silme işlemini çok iyi yapmanız gerektiğini unutmayınız.
5. **Bu test puanlanırken doğru cevaplarınızın sayısından yanlış cevaplarınızın sayısının dörtte biri düşülecek ve kalan sayı ham puanınız olacaktır.**
6. Cevaplamaya istediğiniz sorudan başlayabilirsiniz. Bir soru ile ilgili cevabınızı, cevap kâğıdında o soru için ayrılmış olan yere işaretlemeyi unutmayınız.
7. Sınavda uyulacak diğer kurallar bu kitapçığın arka kapağında belirtilmiştir.

1. Bu testte 24 soru vardır.

2. Cevaplarınızı, cevap kâğıdının Coğrafya-1 Testi için ayrılan kısmına işaretleyiniz.

1. Aşağıdaki şekillerde, farklı boylamlar arasında kalan yerlerin hepsinde K ve L noktaları arasındaki uzaklık 444 km'dir.



Bu yerlerin Ekvator'a en uzak olandan en yakın olana doğru sıralanışı, aşağıdakilerin hangisinde verilmiştir?

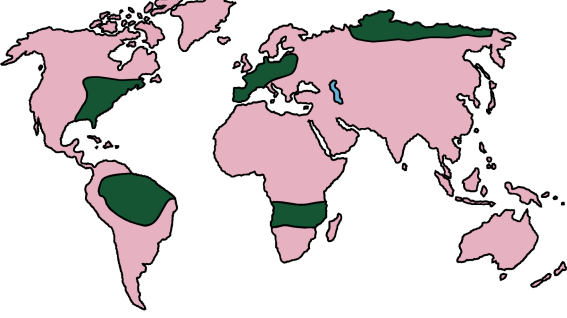
- A) I – II – IV – III
 B) I – III – II – IV
 C) II – III – IV – I
 D) III – IV – II – I
 E) IV – III – II – I

2. Kuzey yarım kürede, dönenceler civarında oluşan dinamik kökenli yüksek basınç merkezinin etkisiyle kara yüzeylerinde geniş çöl alanları oluşmuştur. Ancak, aynı enlemlerde olmasına rağmen Asya Kıtası'nın güneyinde yağışlı iklimin etkili olduğu bir alan bulunmaktadır.

Bu farklılığın temel nedeni aşağıdakilerden hangisidir?

- A) Batı rüzgârlarının Asya Kıtası'nın güneyine nemli hava kütlelerini taşıması
 B) Asya Kıtası ile Hint Okyanusu'nda dönemlik ısınma farkı olması
 C) Asya'nın çok büyük bir kara parçası olarak fazla ısınması
 D) Sıcak okyanus akıntılarının bu alana sıcak hava getirmesi
 E) Kara ve denizlerin kapladığı alanın farklı büyüklükte olması

3. Aşağıdaki haritada bazı alanlar koyu renkle gösterilmiştir.



Bu alanların hâkim doğal bitki örtüleri arasında aşağıdakilerden hangisi yoktur?

- A) Ot toplulukları
- B) Tundra
- C) İğne yapraklı ormanlar
- D) Geniş yapraklı ormanlar
- E) Ekvatorial yağmur ormanları

4. Dünya nüfusunun ihtiyaçlarının karşılanabilmesi için doğal kaynakların kullanımı giderek artmaktadır. Ancak, sınırlı olan bu kaynakların korunarak daha verimli bir şekilde kullanılması gerekmektedir. Koruma, kaynakları hiç kullanmama veya saklama demek değildir. Koruma; ekolojik bilgilerden yararlanarak ekosistemleri düzenli yönetmek, üretim ve tüketim dengesini sağlamak, böylece yararlı bitki ve hayvanlardan sürekli ürün sağlamaktır.

Bu durumun gerçekleşmesinde aşağıdaki uygulamalardan hangisinin etkisi daha azdır?

- A) Sanayi atıklarının düzenli olarak depolanması
- B) Kimyasal ilaç kullanımının kısıtlanması
- C) Tarımda biyolojik mücadelenin artırılması
- D) Aşırı avlanmanın önüne geçilmesi
- E) Organik gübre kullanımının yaygınlaştırılması

5. Aniden ortaya çıkan doğa olaylarının, insanları hazırlıksız yakaladığı ve afetlere yol açtığı görülebilmektedir.

Aşağıdakilerden hangisi bu açıklamaya örnek gösterilemez?

- A) Orta Doğu ülkelerinde etkili olan sağanak yağışların sel ve taşkına dönüşmesi
- B) Okyanus kıyılarında etkili olan tsunami olayı
- C) İzlanda'da volkanik patlamalar sırasında ortaya çıkan küllerin hava trafiğini etkilemesi
- D) Kuzey ülkelerinin okyanus kıyılarında etkili olan aşırı kar yağışı ve soğuklar
- E) Orta Asya çöllerinin ortalama sıcaklık değerinin giderek yükselmesi

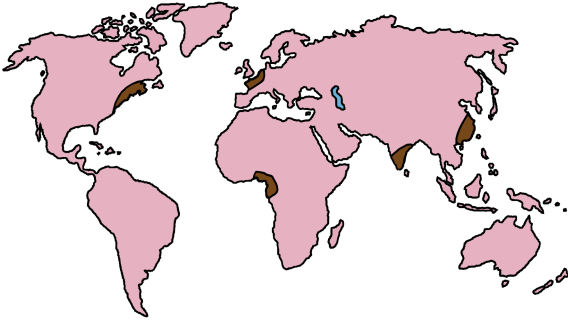
6.

- I. İklim
- II. Yeryüzü şekli
- III. Turizm
- IV. Göç

Yukarıdakilerden hangileri, yerleşmelerin kuruluş alanlarını belirleyen faktörler arasında yer almaz?

- A) I ve II
- B) I ve III
- C) II ve III
- D) II ve IV
- E) III ve IV

7. Aşağıdaki haritada, yeryüzünde nüfusun yoğun olduğu bazı alanlar koyu renkle gösterilmiştir.



Bu alanlarda nüfus yoğunluğunun fazla olması, aşağıdaki unsurlardan hangisiyle daha fazla ilişkilidir?

- A) Ekonomik faaliyetlerin çeşitliliği
- B) Refah düzeyinin yüksekliği
- C) Tarım alanlarının verimliliği
- D) Siyasi istikrarın varlığı
- E) İklim koşullarının elverişliliği

8. Amerika kıtalarının keşfinden sonra, bu kıtalara 20. yüzyılın başlarına kadar yoğun bir göç hareketi yaşanmıştır. Bu göçlerin sonunda yeni devletlerin kurulması ise dünya tarihini değiştirecek gelişmelerin yaşanmasını sağlamıştır.

Bu göçlerin yaşanmasında aşağıdakilerden hangisinin etkisi daha fazladır?

- A) Toplumsal baskılardan kaçmak
- B) Ekonomik fırsatları yakalamak
- C) İnançlarını özgürce yaşamak
- D) Macera tutkusu ve keşif
- E) Farklı kültürleri tanıma isteği

9. Gelişmekte olan bütün ülkeler, tarımda modernizasyon çalışmalarına hız vermekte ve bu modernizasyonu ülkelerinin geneline yaymaya çalışmaktadırlar. Fakat bu durum, tarımda üretim artışı sağlamış olsa da tarım sektöründe gizli işsizliğin ortaya çıkmasına neden olmaktadır.

Aşağıdaki uygulamalardan hangisi, bu tip işsizliğin ortaya çıkmasında daha etkili olmuştur?

- A) Suni gübre kullanımının artması
- B) Sulamalı tarımın teşvik edilmesi
- C) Makinalı tarımın yaygınlaşması
- D) Kaliteli tohum ekiminin yapılması
- E) Zirai mücadelenin yaygınlaşması

10. Dünya nüfusundaki hızlı artışın devam etmesi, gelecekle ilgili endişeleri giderek artırmaktadır. Pek çok ülke bugün bile yerleşme, beslenme, temiz su, enerji vb. birçok alandaki gereksinimleri karşılamakta zorlanırken yakın bir gelecekte bu gereksinimleri karşılamak çok daha zor ve maliyetli olacaktır.

Aşağıdakilerden hangisi, bu parçada belirtilen sorunların çözümüne daha az katkı sağlayacaktır?

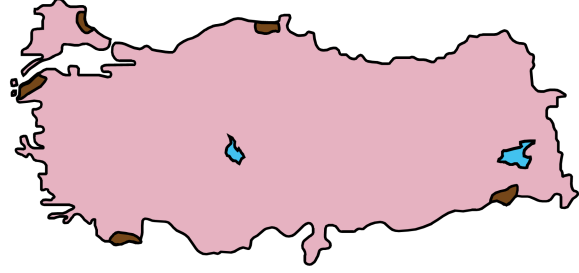
- A) Su arıtma teknolojisinin gelişmesi
B) Güneş enerjisi teknolojisinin gelişmesi
C) Konut yapım teknolojisinin gelişmesi
D) İletişim araçları teknolojisinin gelişmesi
E) Tarımsal üretim teknolojisinin gelişmesi
11. Türkiye’de esen rüzgârlardan bazıları yağış getirmektedir. Bu durum, Türkiye’nin;

- I. etrafının denizlerle çevrili olması,
II. yüksek bir ülke olması,
III. ılıman kuşakta yer alması,
IV. kıyılarında sıradağların bulunması

özelliklerinden hangileriyle ilgilidir?

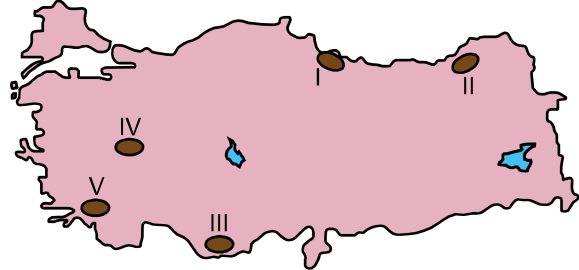
- A) I ve III B) I ve IV C) II ve III
D) II ve IV E) III ve IV

12. Aşağıdaki haritada bazı alanlar koyu renkle gösterilmiştir.



Bu alanların nüfus özellikleriyle ilgili olarak aşağıdaki yorumlardan hangisi doğrudur?

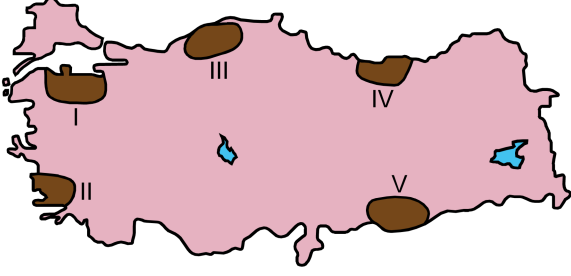
- A) Sürekli göç vermektedirler.
B) Doğum oranları yüksektir.
C) Nüfus yoğunlukları düşüktür.
D) Kentleşme oranları yüksektir.
E) Nüfus artış oranları yüksektir.
13. Aşağıdaki haritada bazı alanlar numaralandırılarak koyu renkle gösterilmiştir.



Sadece yeryüzü şekilleri dikkate alındığında, bu yerlerin hangisinde sanayi alanlarının gelişimi daha kolaydır?

- A) I B) II C) III D) IV E) V

14. Aşağıdaki haritada, farklı yer şekli özelliklerine sahip beş alan numaralandırılarak koyu renkle gösterilmiştir.



Kara yolu ulaşımı sırasında köprü, tünel ve viyadük gibi yapım maliyetini artıran çalışmaların, bu alanların hangilerinde **daha fazla** olması beklenir?

- A) I ve II B) I ve V C) II ve III
D) III ve IV E) IV ve V

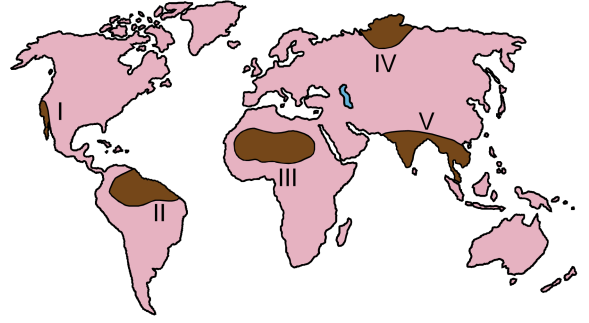
15.

- I. Cennet-Cehennem Obrukları
II. Ilgaz Dağı
III. Truva Antik Kenti
IV. Fırtına Deresi

Yukarıdaki yerlerin hangilerinde turizmin gelişmesi doğal etkenlere bağlıdır?

- A) I ve III B) II ve III C) III ve IV
D) I, II ve IV E) II, III ve IV

16. Aşağıda, numaralandırılarak koyu renkle gösterilmiş beş bölge ve bu bölgelerden dördünün sınırlarının belirlenmesinde kullanılan bazı özellikler verilmiştir.



- Yüksek sıcaklıklar ve bol yağışa bağlı olarak bitki tür ve çeşitliliğinin fazla olduğu yoğun bitki bölgesi oluşmuştur.
- Yıl içerisinde basınç farkına bağlı rüzgârların esiş yönünün değişmesi, özellikle yaz döneminde sel ve taşkınların görüldüğü bölgeleri oluşturmuştur.
- Sıcaklıkların fazla, yağışların ise düzensiz ve az olduğu bu bölgede, fiziksel ayrışma yoğun olarak görülmektedir.
- Yıl boyunca sıcaklıkların çok düşük olması sonucu toprak örtüsü tamamen donmuş olduğundan bu bölgede bitki örtüsü otsu bitkilerden oluşmaktadır.

Buna göre, haritada numaralandırılarak gösterilen bölgelerden hangisine ait özellik **verilmemiştir**?

- A) I B) II C) III D) IV E) V

17. Dünya deniz ticaretinde büyük öneme sahip olan su yollarından bazıları, bulunduğu alanın tek çıkışı konumundadır.

Alternatif geçiş olanağı olmayan bu tür su yollarına aşağıdakilerden hangisi örnek gösterilebilir?

- A) Korint Kanalı
- B) Malakka Boğazı
- C) Süveyş Kanalı
- D) Cebelitarık Boğazı
- E) Hürmüz Boğazı

18. Gelişmiş ve gelişmekte olan iki ülkenin, tarım sektörleri açısından üretim miktarını belirleyen **en önemli etken** aşağıdakilerden hangisidir?

- A) Tarımdaki iş gücü oranı
- B) Üretimi yapılan ürünler
- C) Birim alandan alınan verim
- D) Tarım alanlarının dağılışı
- E) Doğal faktörlerin tarıma etkisi

19. Akdeniz'e kıyısı olan İtalya ve Suriye'nin kalkınmışlık düzeyleri birbirinden farklıdır.

Bu durumun ortaya çıkmasında aşağıdakilerden hangisi, İtalya'nın coğrafi özelliklerinden kaynaklanan bir durum değildir?

- A) Gelişmiş ülkelerin etkileşim alanı içerisinde bulunması
- B) Sanayileşme sürecinde, zengin ham maddelere sahip olması
- C) Teknolojik gelişme merkezlerine yakınlığı
- D) Deniz ulaşımında daha iyi koşullara sahip olması
- E) İklim özelliklerinin ekonomik faaliyetlere daha uygun olması

20. Gelişen teknoloji ve hızlı nüfus artışıyla birlikte insanoğlunun ihtiyaçları da çeşitlenmiş ve çoğalmıştır. Buna bağlı olarak geçmişte kullanılmayan birçok arazinin farklı amaçlar için kullanıma açıldığı görülmektedir.

Aşağıdakilerden hangisi bu duruma örnek gösterilemez?

- A) Eğimi fazla olan yüzeylerin teraslanması
- B) Meralarda ıslah çalışmalarının yapılması
- C) Ormanlardan tarım arazisi kazanılması
- D) Bataklıkların ve sulak alanların kurutulması
- E) Kıyıların dolgu malzemesi ile doldurulması

21. Günümüzde doğal afetlere neden olan olaylardan biri de sel ve taşkınlardır. Yağışlar ve eriyen kar sularıyla seviyeleri yükselen akarsular sel ve taşkınlara neden olabilmektedir. Özellikle kentlerde dere yataklarına yapılan binalar, çevrenin betonlaşması ve akarsuyun doğal drenajının değiştirilmesi gibi nedenler, taşkınlar da can ve mal kaybına neden olmaktadır.

Buna göre, sel ve taşkınların kentlerde meydana gelmesinde aşağıdakilerden hangisi daha etkilidir?

- A) Toprak yapısı
- B) İklim şartları
- C) Yer şekilleri
- D) Arazi kullanımı
- E) Jeolojik yapı

22. Hızlı nüfus artışı ve teknolojik gelişmeler, doğal kaynakların kullanımını da değiştirmiştir. Geçmişte kullanım alanları sınırlı olan bir kaynak bugün birçok ülkenin talep ettiği bir konuma gelebilmektedir.

Aşağıdakilerden hangisi, bu değişime verilecek örnekler arasında gösterilemez?

- A) Petrolün yakıt dışında sanayide ham madde olarak kullanılması
- B) Bor madeninin sanayide kullanım alanlarının çeşitlenmesi
- C) Tarımsal faaliyetlerde doğal gübre yerine kimyasal gübrenin yaygınlaşması
- D) Radyoaktif maddelerin enerji dışında tıp alanında da kullanılması
- E) Termal suların kaplıcalar dışında enerji üretimi için de kullanılması

23. Küresel ısınma Dünya üzerinde;

- deniz seviyesinin yükselmesi,
- temiz su kaynaklarına deniz suyunun karışması ve tuzlanma sorunu,
- aşırı buharlaşma ve kuraklık,
- tarım ürünlerindeki azalmalara bağlı göçlerin yaşanması

gibi değişikliklere neden olacaktır.

Buna göre, küresel ısınmanın meydana getireceği değişiklikler göz önüne alındığında aşağıdakilerden hangisinin gerçekleşmesi beklenmez?

- A) Tarımın yapısının ve sınırlarının değişmesi
- B) Yüksek yerlerin yaşama alanı olarak seçilmesi
- C) Alçak kesimlerdeki ova tabanlarının su altında kalması
- D) Sıcaklık artışına bağlı olarak salgın hastalıkların artması
- E) Akarsuların vadilerini derinleştirilmesi

24. Türkiye’de son dönemde koruma altına alınan alanların büyük bölümünü sulak alanlar oluşturmaktadır.

Bu alanların koruma altına alınması, o yörede aşağıdakilerden hangisi üzerinde daha az etki meydana getirir?

- A) Kültür balıkçılığının artması
- B) Doğal bitki örtüsünün korunması
- C) Yer altı sularının beslenmesi
- D) Hayvan varlığının korunması
- E) Turizm faaliyetlerinin artması

SINAVDA UYULACAK KURALLAR

- Sınav salonları kamera ile kayıt altına alınacaktır.** Kamera kayıtlarının incelenmesinden sonra sınav kurallarına uymadığı tespit edilen adayların sınavları ÖSYM Yönetim Kurulunca geçersiz sayılacaktır.
- Cep telefonu ile sınava girmek kesinlikle yasaktır.** Çağrı cihazı, telsiz, fotoğraf makinesi vb. araçlarla; cep bilgisayarı, kol veya cep saati gibi her türlü bilgisayar özelliği bulunan cihazlarla; silah ve benzeri teçhizatla; müsvedde kâğıdı, defter, kitap, sözlük, sözlük işlevi olan elektronik aygıt, hesap cetveli, hesap makinesi, pergel, açıölçer, cetvel vb. araçlarla sınava girmek kesinlikle yasaktır. Bu araçlarla sınava girmiş adayların adı mutlaka Salon Sınav Tutanağına yazılacak, bu adayların sınavı geçersiz sayılacaktır. **Sınava kalem, silgi, kalemıraş, saat vb. araçla ve kulaklık, küpe, broş vb. takı, herhangi bir metal eşya ile girmek de kesinlikle yasaktır. Yiyecek, içecek vb. tüketim malzemeleri de sınava getirilemez. Adaylar sınava şeffaf şişe içerisinde su getirebilecektir.**
- Bu test için verilen cevaplama süresi **35 dakikadır.** LYS-3'te adaylar **Türk Dili ve Edebiyatı Testinin cevaplama süresi içinde, Coğrafya-1 Testinin ilk 15 ve son 15 dakikası** içinde sınav salonundan ayrılamazlar. İki test arasında birinci testin soru kitapçığının toplanması ve ikinci testin soru kitapçığının dağıtılması işlemleri dışında ara verilmez. Toplama ve dağıtma işlemi sırasında adayların salondan dışarı çıkmaları kesinlikle yasaktır. **Bu süreler dışında, cevaplama sınav bitmeden tamamlarsanız cevap kâğıdınızı ve soru kitapçığınızı salon görevlilerine teslim ederek salonu terk edebilirsiniz. Bildirilen sürele aykırı davranışlardan adayın kendisi sorumludur.**
- Sınav salonundan ayrılan aday, her ne sebeple olursa olsun, tekrar sınava alınmayacaktır.**
- Sınav süresince görevlilerle konuşmak, görevlilere soru sormak yasaktır. Aynı şekilde görevlilerin de adaylarla yakından ve alçak sesle konuşmaları ayrıca adayların birbirinden kalem, silgi vb. şeyleri istemeleri kesinlikle yasaktır.
- Sınav sırasında, görevlilerin her türlü uyarısına uymak zorundasınız. Sınavınızın geçerli sayılması, her şeyden önce, sınav kurallarına uymanıza bağlıdır. Kurallara aykırı davranışta bulunanların ve yapılacak uyarılara uymayanların kimlik bilgileri Salon Sınav Tutanağına yazılacak ve sınavları geçersiz sayılacaktır.
- Sınav sırasında kopya çeken, çekmeye kalkışan, kopya veren, kopya çekilmesine yardım edenlerin kimlik bilgileri Salon Sınav Tutanağına yazılacak ve bu adayların sınavları geçersiz sayılacaktır.
Adayların test sorularına verdikleri cevapların dağılımları bilgi işlem yöntemleriyle incelenecek, bu incelemelerden elde edilen bulgular bireysel veya toplu olarak kopya çekildiğini gösterirse kopya eylemine katılan adayın/adayların sınavı geçersiz sayılacak ayrıca 2 yıl boyunca ÖSYM tarafından düzenlenen tüm sınavlara başvurusu yasaklanabilecektir.
Sınav görevlileri bir salondaki sınavın, kurallara uygun biçimde yapılmadığını, toplu kopya girişiminde bulunulduğunu raporlarında bildirdiği takdirde, ÖSYM bu salonda sınava giren tüm adayların sınavını geçersiz sayabilir.
- Cevap kâğıdında doldurmanız gereken alanlar bulunmaktadır. Bu alanları doldurunuz. Cevap kâğıdınızı başkaları tarafından görülmeyecek şekilde tutmanız gerekmektedir. Cevap kâğıdına yazılacak her türlü yazıda ve yapılacak bütün işaretlemelerde kurşun kalem kullanılacaktır. Sınav süresi bittiğinde cevapların cevap kâğıdına işaretlenmiş olması gerekir. Soru kitapçığına işaretlenen cevaplar geçerli değildir.
- Soru kitapçığınızı alır almaz kapağında bulunan ilgili alanları doldurunuz. Size söylendiği zaman sayfaların eksik olup olmadığını, kitapçıkta basım hatalarının bulunup bulunmadığını ve soru kitapçığının her sayfasında basılı bulunan soru kitapçık numarasının, kitapçığın ön kapağında basılı soru kitapçık numarasıyla aynı olup olmadığını kontrol ediniz. Soru kitapçığının sayfası eksik veya basımı hatalıysa değiştirilmesi için salon başkanına başvurunuz.
Size bu sınavın her bir testi için ayrı ayrı kitapçıklar verilmektedir. Her kitapçığın Soru Kitapçık Numarası birbirinden farklıdır. Bu nedenle her test için aldığınız kitapçığın Soru Kitapçık Numarasını cevap kâğıdınızdaki ilgili alana kodlamanız çok önemlidir. Cevap kâğıdınızdaki "Soru Kitapçık Numaralarını doğru kodladım." kutucuğunu işaretleyiniz.
LYS-3'te size verilen Coğrafya-1 Testinin Soru Kitapçık Numarasını cevap kâğıdınızdaki "Coğrafya-1 Soru Kitapçık Numarası" alanına kodlayınız.
Soru kitapçığı üzerinde yer alan Soru Kitapçık Numarasını doğru kodladığınızı beyan eden alanı imzalayınız.
- Sınav sonunda soru kitapçıkları toplanacak ve ÖSYM'de incelenecektir. Soru kitapçığının sayfalarını koparmayınız. Soru kitapçığının bir sayfası bile eksik çıkarsa sınavınız geçersiz sayılacaktır.
- Cevap kâğıdına ve soru kitapçığına yazılması ve işaretlenmesi gereken bilgilerde bir eksiklik ve/veya yanlışlık olması hâlinde sınavınızın değerlendirilmesi mümkün olamamaktadır, bu husustaki özen yükümlülüğü ve sorumluluk size aittir.
- Soru kitapçığının sayfalarındaki boş yerleri müsvedde için kullanabilirsiniz.
- Soruları ve/veya bu sorulara verdiğiniz cevapları ayrı bir kâğıda yazıp bu kâğıdı dışarı çıkarmanız kesinlikle yasaktır.
- Her testin cevaplarını cevap kâğıdındaki ilgili alana işaretleyiniz.**
- Sınav salonundan ayrılmadan önce, soru kitapçığınızı, cevap kâğıdınızı ve sınava giriş belgenizi salon görevlilerine eksiksiz olarak teslim etmeyi unutmayınız.**

Bu testlerin her hakkı saklıdır. Hangi amaçla olursa olsun, testlerin tamamının veya bir kısmının Merkezimizin yazılı izni olmadan kopya edilmesi, fotoğrafının çekilmesi, herhangi bir yolla çoğaltılması, yayımlanması ya da kullanılması yasaktır. Bu yasağa uymayanlar gerekli cezai sorumluluğu ve doğacak tüm mali külfeti peşinen kabullenmiş sayılır.

LİSANS YERLEŐTİRME SINAVI-3
COĐRAFYA-1 TESTİ
22.06.2014

- | | |
|-------|-------|
| 1. D | 21. D |
| 2. B | 22. C |
| 3. C | 23. E |
| 4. A | 24. A |
| 5. E | |
| 6. E | |
| 7. A | |
| 8. B | |
| 9. C | |
| 10. D | |
| 11. B | |
| 12. C | |
| 13. A | |
| 14. D | |
| 15. D | |
| 16. A | |
| 17. E | |
| 18. C | |
| 19. B | |
| 20. B | |



T.C. Ölçme, Seçme ve Yerleştirme Merkezi

LİSANS YERLEŐTİRME SINAVI-3
COĞRAFYA-1 TESTİ
23 HAZİRAN 2013 PAZAR

Bu testlerin her hakkı saklıdır. Hangi amaçla olursa olsun, testlerin tamamının veya bir kısmının Merkezimizin yazılı izni olmadan kopya edilmesi, fotoğrafının çekilmesi, herhangi bir yolla çoğaltılması, yayımlanması ya da kullanılması yasaktır. Bu yasağa uymayanlar gerekli cezai sorumluluğu ve testlerin hazırlanmasındaki mali külfeti peşinen kabullenmiş sayılır.

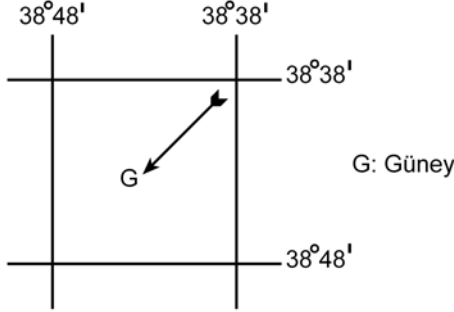
AÇIKLAMA

1. Bu kitapçıkta Lisans Yerleşirme Sınavı-3 **Coğrafya-1 Testi** bulunmaktadır.
2. Bu test için verilen cevaplama süresi **35 dakikadır**.
3. Bu testte yer alan her sorunun sadece bir doğru cevabı vardır. Bir soru için birden çok cevap yeri işaretlenmişse o soru yanlış cevaplanmış sayılacaktır.
4. İşaretlediğiniz bir cevabı değiştirmek istediğinizde, silme işlemini çok iyi yapmanız gerektiğini unutmayınız.
5. **Bu test puanlanırken doğru cevaplarınızın sayısından yanlış cevaplarınızın sayısının dörtte biri düşülecek ve kalan sayı ham puanınız olacaktır.**
6. Cevaplamaya istediğiniz sorudan başlayabilirsiniz. Bir soru ile ilgili cevabınızı, cevap kâğıdında o soru için ayrılmış olan yere işaretlemeyi unutmayınız.
7. Sınavda uyulacak diğer kurallar bu kitapçığın arka kapağında belirtilmiştir.

1. Bu testte 24 soru vardır.

2. Cevaplarınızı, cevap kâğıdının Coğrafya-1 Testi için ayrılan kısmına işaretleyiniz.

1. Aşağıda, bir alanın coğrafi koordinatları ve bu alanla ilgili bazı bilgiler verilmiştir.

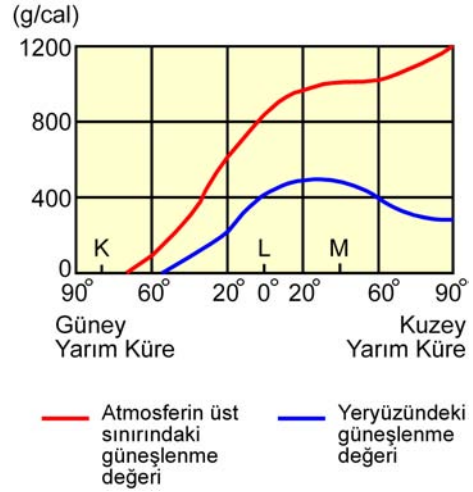


- I. Alan, Güney Yarım Küre'de ve Başlangıç Meridyeni'nin doğusunda yer almaktadır.
- II. Alanın coğrafi koordinatları dikkate alındığında güney işareti yanlış yön göstermektedir.
- III. Güney işaretinin gösterdiği yön yanlışsa alanın coğrafi koordinatları da kesinlikle yanlıştır.

Buna göre, yukarıdaki bilgilerden hangilerinin doğru olduğu söylenebilir?

- A) Yalnız I B) Yalnız II C) I ve II
D) I ve III E) II ve III

2.



Yukarıdaki grafikte 21 Haziran tarihinde, atmosferin üst sınırındaki ve yeryüzündeki güneşlenme süresinin enlemlere göre değişim değerleri ve K, L, M merkezlerinin yerleri gösterilmiştir.

Buna göre, grafikte ilgili aşağıdaki yorumlardan hangisine ulaşamaz?

- A) K merkezinde günün tamamında gece yaşanır.
B) M'deki güneşlenme değeri, K ve L'den fazladır.
C) Yeryüzündeki güneşlenme değerinin en fazla olduğu yerler, 20° Kuzey enlemi çevresidir.
D) Yeryüzündeki ve atmosferin üst sınırındaki güneşlenme değerleri arasındaki farkın en az olduğu yerler, 60° Güney enlemi çevresidir.
E) Atmosferin üst sınırındaki güneşlenme değeriyle yeryüzündeki güneşlenme değeri arasında paralellik vardır.

3. Yerkürenin oluşmaya başlamasından günümüze kadar yaklaşık 4,5 milyar yıl geçmiştir. Bu uzun süre, yerkürenin oluşum sürecinin daha iyi incelenebilmesi için zaman ve devirlere ayrılmıştır.

Buna göre aşağıdakilerden hangisi, bu zaman ve devirlerin belirlenmesinde göz önünde bulundurulacak özelliklerden biri değildir?

- A) Fay tipleri
- B) Fosil içerikleri
- C) Kayaç özellikleri
- D) İklim özellikleri
- E) Orojenik hareketler

4.

- I. Şehirlerin, orman alanlarının yakınında gelişmesi
- II. Tarım alanlarında hep aynı ürünlerin yetiştirilmesi
- III. Ağaçların yapraklarını dökmesi
- IV. Bitkilerin fotosentez yapması

Yukarıdakilerden hangileri ekosistemin devamlılığını sağlar?

- A) Yalnız I
- B) Yalnız II
- C) I ve IV
- D) II ve III
- E) III ve IV

5. Yeryüzündeki pek çok alanda yakın gelecekte kurak dönemlerin uzaması beklenmektedir.

Bunun sonucunda aşağıdakilerden hangisi, akarsuların kurummasına yol açabilecek olaylar zinciri arasında gösterilemez?

- A) Atmosferdeki karbondioksit oranının giderek artması
- B) Sıcaklık artışına bağlı olarak yağışların düzensiz bir hâl alması
- C) Artan nüfusla birlikte tarımsal ve evsel kullanıma suya olan talebin artması
- D) Şiddetli erozyon ile toprak kayıplarının aşırı şekilde artması
- E) Yıl içerisinde, soğuk dönemlerin giderek kısalması

6. Yerleşmelerin konumları üzerinde doğal çevre faktörlerinin etkisi bulunmaktadır. Özellikle dünyadaki ilk yerleşmelerin konumları incelendiğinde yer seçiminde doğal çevre koşullarının etkili olduğu görülür.

Buna göre aşağıda verilen doğal çevre özelliklerinden hangisinin, ilk yerleşmelerin konumu üzerinde daha az etkili olduğu söylenebilir?

- A) Doğal limanlar
- B) Yükselti
- C) Toprak özellikleri
- D) İklim
- E) Su kaynakları

7.



Dünya nüfusunun % 90'ı, karaların % 20'den daha az bir kısmında toplanmıştır. Bu % 20'lik alan içinde de belirli bölgeler nüfus yoğunluğu bakımından öne çıkmaktadır.

Buna göre yukarıdaki haritada numaralarla gösterilen yerlerden hangisi, bulunduğu kıtada nüfusun en yoğun olduğu yerler arasındadır?

- A) I B) II C) III D) IV E) V

8. Her ülkede, çalışan nüfusun ekonomik faaliyet alanlarına göre dağılımı farklıdır. Bu durum, o ülkenin ekonomik yapısıyla ilgili bilgiler verir.

Buna göre, ülkelerin ekonomik faaliyet alanlarıyla ilgili olarak aşağıda verilen bilgilerden hangisi yanlıştır?

- A) Gelişmiş ülkelerde çalışan nüfusun çoğunun, üçüncül ekonomik faaliyet alanında yer alması beklenir.
- B) Az gelişmiş ülkelerde birincil ekonomik faaliyet alanında çalışanların oranı, ikincil ekonomik faaliyet alanında çalışanlardan fazladır.
- C) Ülkelerin yer şekilleri ve yer altı kaynakları, insanların ekonomik faaliyet alanlarına göre dağılımında en önemli etkidir.
- D) Gelişmekte olan ülkelerde, ikincil ve üçüncül ekonomik faaliyetler arttıkça birincil ekonomik faaliyet alanında çalışanların oranı giderek azalır.
- E) Ham madde veya yarı işlenmiş maddelerin kullanılabilir duruma geldiği ülkelerde, ikincil ekonomik faaliyet alanında çalışanların oranı da artar.
9. Dengeli nüfus, ülkelerin devamlılığı ve iş gücü ihtiyacının karşılanması için önemli bir unsurdur. Ancak bazı ülkelerin nüfuslarının azalmaya başladığı ve bu ülkelerin gelecekte büyük sıkıntılar yaşayacağı öngörülmektedir. Bu ülkeler, nüfuslarını artırmak için çeşitli politikalar uygulamaktadır.

Buna göre, aşağıdakilerden hangisi böyle bir ülkeye ait özellik olamaz?

- A) Yaşlı nüfus miktarı fazladır.
- B) Nüfus piramidinin tabanı dardır.
- C) Sanayi ve hizmet sektöründe çalışanların sayısı fazladır.
- D) Eğitim, sağlık ve kültürel hizmetler gelişmiştir.
- E) İç göçler fazladır.

10. Aşağıdakilerden hangisi, Mezopotamya Uygarlıklarının ortaya çıkmasında etkili olan unsurlar arasında yer almaz?

- A) Zengin yer altı kaynakları
- B) Geniş düzlükler
- C) Önemli su kaynakları
- D) Elverişli iklim koşulları
- E) Verimli araziler

11. Öğrencilerine arazi çalışması yaptırmak isteyen bir coğrafya profesörü, öğrencileri ile Sivas merkezinden Zara ilçesine doğru otobüsle yola çıkmış ve aralarında aşağıdaki diyaloglar geçmiştir.

Profesör: Gençler, şu an bir karstik alandan geçiyoruz. Dolinlere özellikle dikkat etmenizi istiyorum. Az sonra uygun bir alanda inip bu konuda konuşacağız.

Safiye: Hocam, bu yörede karstik arazi olmaz, çünkü bu alanda kireç taşı bulunmaz. Karstik yer şekillerinin oluşması için kireç taşının olması gerekir.

Yusuf: Karstik arazi sadece kireç taşının olduğu alanda oluşur diye bir kural yok. Jips üzerinde de oluşabilir. Bu alanda da karstik şekiller jipsin çözünmesiyle oluşmuştur.

Hasan: Türkiye'de karstik yeryüzü şekilleri Muğla, Burdur, Antalya ve Mersin çevresinde yaygındır. Bu yörelerin dışında karstik yeryüzü şekilleri bulunmaz.

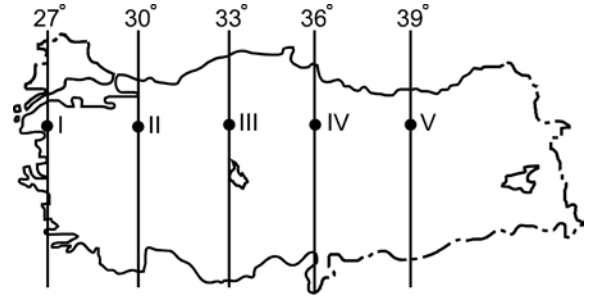
Nilgün: Karstik yeryüzü şekilleri yalnızca kireç taşı ve jips kayaların bulunduğu alanda oluşmaz. Mermer ve dolomit gibi kayaların bulunduğu alanda da oluşur.

Buna göre, karstik yeryüzü şekillerinin oluşumuyla ilgili doğru yorumu hangi öğrenciler yapmıştır?

- A) Yalnız Safiye
- B) Yalnız Yusuf
- C) Yalnız Nilgün
- D) Yusuf ve Nilgün
- E) Safiye ve Hasan

12. Coğrafya öğretmeni Özge Hanım, 10. sınıftaki öğrencileriyle Türkiye'deki iklim elemanlarının özellikleri konusunu işlerken öğrencilerinin sentez yeteneklerini geliştirmek için onlara aşağıdaki haritayı gösterip şöyle bir soru sormuştur:

"Çocuklar; 9. sınıfta koordinat sistemini oluşturan unsurlardan yola çıkarak bir yere ait özelliklerle, iklim elemanlarının oluşumu ve dağılışı konularını gördünüz. Bu bilgilerinizden yola çıkarak 23 Eylül 2012 tarihinde Türkiye'nin ulusal saati için baz alınan boylamın yerel saati 12.24'ü gösterirken güneşin ısıtma etkisinin en yüksek olduğu nokta sizce hangisi olur?"



Buna göre öğrenciler, öğretmenlerine haritada numaralandırılan hangi noktayı söylerlerse doğru cevabı vermiş olurlar?

- A) I
- B) II
- C) III
- D) IV
- E) V

13. Türkiye'nin sanayileşme süreciyle ilgili olarak aşağıda verilen bilgilerden hangisi yanlıştır?

- A) Cumhuriyetin ilk yıllarında tarıma dayalı sanayi kolları gelişmiştir.
- B) Bütün illerin kalkınmada öncelikli yöreler içinde yer alması sanayiye geliştirmiştir.
- C) 1950'li yıllarla birlikte sanayi ürünleri dış alımına hız verilmiştir.
- D) Planlı kalkınma döneminde sanayileşmeye, kalkınma planlarında özel önem verilmiştir.
- E) 1930'lu yıllarda devletçilik ilkesine bağlı olarak kimya ve demir-çelik sanayisinin temelleri atılmıştır.

14. Türkiye'de yeryüzü şekilleri ile ekonomik faaliyetler arasında bir ilişki söz konusudur.

Buna göre, aşağıdaki yörelerle üzerinde gelişen hâkim ekonomik faaliyet eşleşmelerinden hangisi yanlış verilmiştir?

Yöreler	Ekonomik faaliyetler
A) Doğu Karadeniz Dağları	Yayla turizmi
B) İç kesimdeki dağlık alanlar	Hayvancılık
C) Büyük Menderes Ovası	Sanayi
D) Erzincan Ovası	Tarım
E) Marmaris Körfezi	Yat turizmi

15.



Aşağıdaki bölge sınıflamalarından hangisi, yukarıdaki haritada gösterilen alanların tümü için ortak değildir?

- A) Liman bölgeleri
B) Ticaret bölgeleri
C) Sanayi bölgeleri
D) Nüfus artış hızının yüksek olduğu bölgeler
E) Nüfusun kalabalık olduğu bölgeler

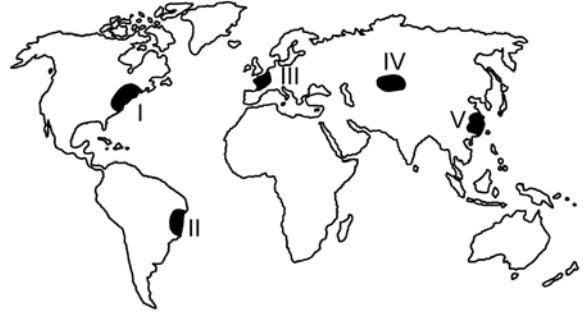
16.

- I. Panama Kanalı
II. Hürmüz Boğazı
III. Cebelitarık Boğazı
IV. Bering Boğazı

Yukarıda verilen önemli deniz yolu geçit noktalarından hangileri, petrol taşımacılığı açısından tüm dünyayı etkileyebilecek niteliktedir?

- A) Yalnız I B) Yalnız II C) I ve III
D) II ve IV E) III ve IV

17.



Herhangi bir yerin kültürel yapısı; doğal ortam özellikleri yanında dil, din, ırk vb. özelliklerle ilişkilidir.

Buna göre haritada işaretli alanların hangisinde, beşerî yapıya bağlı kültürel çeşitliliğin daha fazla olduğunu söylemek mümkündür?

- A) I B) II C) III D) IV E) V

18. Bir ülkeyle ilgili olarak aşağıda verilenlerden hangisinin, diğer dördünün **sonucu** olduğu söylenebilir?

- A) Dış satımda sanayi ürünlerinin payı fazladır.
- B) Dış ticaret açığı azdır.
- C) Gelişmiş ülkeler arasındadır.
- D) Ortalama yaşam süresi uzundur.
- E) Sağlık hizmetleri gelişmiştir.

19. Gelişmekte olan ülkelerde her yıl millî gelirin yükselmesine rağmen kişi başına düşen millî gelirin aynı ölçüde artmamasının **temel nedeni** aşağıdakilerden hangisidir?

- A) Millî gelirin daha çok yatırıma dönüşmesi
- B) Tarıma dayalı endüstri kuruluşlarının önem kazanması
- C) Çalışan nüfus sayısının az olması
- D) Nüfus artış hızının yüksek olması
- E) Millî gelirin verimsiz yatırımlara kaydırılması

20. Sri Lanka'nın XII. yüzyılda yaşamış olan krallarından birinin, "Yağmurdan elde edilen bir damla suyun bile insanların kullanımına sunulmadan denize akmasına izin vermeyin." çağrısına uyarısına mühendisler 1990'lı yılların başına kadar dünya üzerinde 36 binin üzerinde baraj inşa etmişlerdir. Bu dönemden sonra zamanla dünya üzerinde her yıl ortalama 170 barajın inşasına başlanmıştır. Ancak 2000 yılından sonra yapılan baraj sayısında bir azalma görülmüştür.

Buna göre aşağıdakilerden hangisi, bu yavaşlamanın nedenlerinden biri olarak gösterilemez?

- A) Baraj kurulacak elverişli alanların azalması
- B) Bazı antik kentlerin ve kültür varlıklarının geri dönüşü olmayacak şekilde sular altında kalacak olması
- C) Turizm etkinliklerinin çeşitlenmesi ve artması
- D) Barajların, doğal su döngüsünü bozması, bölgelere düşen yağış miktarı ile çevredeki atmosferin nem ve sıcaklık ilişkilerini değiştirmesi
- E) Barajlardan elde edilecek hidroelektrik enerji maliyetlerinin giderek artması

21.



Yukarıdaki haritada numaralarla gösterilen yerlerin hangilerinde, önemli can ve mal kayıplarına neden olan doğal afetlerden deprem, volkanizma ve kasırgalar etkili olabilmektedir?

- A) Yalnız I
- B) I ve IV
- C) II ve IV
- D) II ve V
- E) III ve V

22. Sanayi Devrimi öncesi Avrupa Kıtası'nda, ormanlar en önemli enerji kaynağı durumundaydı. Sanayi Devrimi'yle birlikte sanayi üretiminde enerji kaynağı olarak orman ürünlerinin yerini maden kömürü almıştır.

Avrupa Kıtası'nda doğal kaynak kullanımında yaşanan bu değişimin temel nedeni, aşağıdakilerden hangisidir?

- A) Orman alanlarının azalması
B) Nüfusun artması
C) Kentleşmenin hız kazanması
D) Siyasî yapının değişmesi
E) Teknolojinin ilerlemesi
23. Günümüzde çevre sorunları bölgesel veya yerel olmaktan çıkıp küresel bir nitelik kazanmıştır. Ancak bazı çevresel sorunlar, gerçekleştiği alanı etkilemektedir.
- Buna göre, aşağıdaki çevre sorunlarından hangisinin etkisi diğerlerine göre daha yerel veya bölgesel düzeydedir?**
- A) Çernobil nükleer kazası ve ardından ortaya çıkan etkileri
B) Gelişmiş ülkelerin her yıl atmosfere saldıkları sera gazları
C) Brezilya ve Kongo gibi ülkelerin yağmur ormanlarını tahrip etmesi
D) Etiyopya ve Sudan'da tarım topraklarının hızla erozyona maruz kalması
E) Fosil yakıtların aşırı kullanımına bağlı olarak ortaya çıkan asit yağmurları

24. Nemli tropik ormanlarda yaşayan yaprak kesici karıncalar, bitkilerden ayırıp topladıkları taze yaprak parçalarını yer altındaki yuvalarına taşır ve orada belirli mantarların üremesi için ortam hazırlarlar. Sonra da besin olarak bu mantarları tüketirler. Herhangi bir anda büyük bir kolonideki karıncaların yaklaşık % 25'i yaprakları kesip taşımakta, % 75'i de geçiş yollarının ve mantar bahçelerinin bakımını sağlamaktadır. Bilim insanları, yuvalara giren enerji miktarı ile enerji giderlerini karşılamışlar ve sonuç olarak şu yargıya ulaşmışlardır: Yuvaya giren enerji miktarı, harcanan toplam enerji miktarından büyük olduğu sürece koloni büyümeye devam etmekte ama bu miktar eşitlendiğinde koloninin büyümesi durmaktadır.

Buna göre, parçadaki bilgiler dikkate alındığında karınca kolonilerindeki büyümenin artması veya durması, aşağıdaki kavramlardan hangisiyle tanımlanır?

- A) Taşıma kapasitesi
B) Sürdürülebilirlik
C) Azot döngüsü
D) Habitat
E) Beslenme halkaları

SINAVDA UYULACAK KURALLAR

- Sınav salonları kamera ile kayıt altına alınacaktır.** Kamera kayıtlarının incelenmesinden sonra sınav kurallarına uymadığı tespit edilen adayların sınavları ÖSYM Yönetim Kurulunca geçersiz sayılacaktır.
- Cep telefonu ile sınava girmek kesinlikle yasaktır.** Çağrı cihazı, telsiz, fotoğraf makinesi vb. araçlarla; cep bilgisayarı, kol ya da cep saati gibi her türlü bilgisayar özelliği bulunan cihazlarla; silah ve benzeri teçhizatla; müsvedde kâğıdı, defter, kitap, sözlük, sözlük işlevi olan elektronik aygıt, hesap cetveli, hesap makinesi, pergel, açıölçer, cetvel vb. araçlarla sınava girmek kesinlikle yasaktır. Bu araçlarla sınava girmiş adayların adı mutlaka Salon Sınav Tutanağına yazılacak, bu adayların sınavı geçersiz sayılacaktır. **Sınava kalem, silgi, kalemıraş, saat vb. araçla ve kulaklık, küpe, broş vb. takı, herhangi bir metal eşya ile girmek de kesinlikle yasaktır. Yiyecek, içecek vb. tüketim malzemeleri de sınava getirilemez. Adaylar sınava şeffaf şişe içerisinde su getirebilecektir.**
- Bu test için verilen cevaplama süresi **35 dakikadır.** LYS-3'te adaylar **Türk Dili ve Edebiyatı Testinin cevaplama süresi içinde, Coğrafya-1 Testinin ilk 15 ve son 15 dakikası** içinde sınav salonundan ayrılamazlar. İki test arasında birinci testin soru kitapçığının toplanması ve ikinci testin soru kitapçığının dağıtılması işlemleri dışında ara verilmez. Toplama ve dağıtma işlemi sırasında adayların salondan dışarı çıkmaları kesinlikle yasaktır. **Bu süreler dışında, cevaplama sınav bitmeden tamamlarsanız cevap kâğıdınızı ve soru kitapçığınızı salon görevlilerine teslim ederek salonu terk edebilirsiniz. Bildirilen süreler aykırı davranışlardan adayın kendisi sorumludur.**
- Sınav salonundan ayrılan aday, her ne sebeple olursa olsun, tekrar sınava alınmayacaktır.**
- Sınav süresince görevlilerle konuşmak, görevlilere soru sormak yasaktır. Aynı şekilde görevlilerin de adaylarla yakından ve alçak sesle konuşmaları ayrıca adayların birbirinden kalem, silgi vb. şeyleri istemeleri kesinlikle yasaktır.
- Sınav sırasında, görevlilerin her türlü uyarısına uymak zorundasınız. Sınavınızın geçerli sayılması, her şeyden önce, sınav kurallarına uymanıza bağlıdır. Kurallara aykırı davranışta bulunanların ve yapılacak uyarılara uymayanların kimlik bilgileri Salon Sınav Tutanağına yazılacak ve sınavları geçersiz sayılacaktır.
- Sınav sırasında kopya çeken, çekmeye kalkışan, kopya veren, kopya çekilmesine yardım edenlerin kimlik bilgileri Salon Sınav Tutanağına yazılacak ve bu adayların sınavları geçersiz sayılacaktır.
Adayların test sorularına verdikleri cevapların dağılımları bilgi işlem yöntemleriyle incelenecek, bu incelemelerden elde edilen bulgular bireysel ya da toplu olarak kopya çekildiğini gösterirse kopya eylemine katılan adayın/adayların sınavı geçersiz sayılacak ayrıca 2 yıl boyunca ÖSYM tarafından düzenlenen tüm sınavlara başvurusu yasaklanabilecektir.
Sınav görevlileri bir salondaki sınavın, kurallara uygun biçimde yapılmadığını, toplu kopya girişiminde bulunulduğunu raporlarında bildirdiği takdirde, ÖSYM bu salonda sınava giren tüm adayların sınavını geçersiz sayabilir.
- Cevap kâğıdında doldurmanız gereken alanlar bulunmaktadır. Bu alanları doldurunuz. Cevap kâğıdınızı başkaları tarafından görülmeyecek şekilde tutmanız gerekmektedir. Cevap kâğıdına yazılacak her türlü yazıda ve yapılacak bütün işaretlemelerde kurşun kalem kullanılacaktır. Sınav süresi bittiğinde cevapların cevap kâğıdına işaretlenmiş olması gerekir. Soru kitapçığına işaretlenen cevaplar geçerli değildir.
- Soru kitapçığınızı alır almaz kapağında bulunan ilgili alanları doldurunuz. Sayfaların eksik olup olmadığını, kitapçıkta basım hatalarının bulunup bulunmadığını ve soru kitapçığının her sayfasında basılı bulunan soru kitapçık numarasının, kitapçığın ön kapağında basılı soru kitapçık numarasıyla aynı olup olmadığını kontrol ediniz. Soru kitapçığının sayfaları eksik ya da basımı hatalıysa değiştirilmesi için salon başkanına başvurunuz.
Size bu sınavın her bir testi için ayrı ayrı kitapçıklar verilmektedir. Her kitapçığın Soru Kitapçık Numarası birbirinden farklıdır. Bu nedenle her test için aldığınız kitapçığın Soru Kitapçık Numarasını cevap kâğıdınızdaki ilgili alana kodlamamız çok önemlidir. Cevap kâğıdınızdaki "Soru kitapçık numaralarını doğru kodladım." kutucuğunu işaretleyiniz.
LYS-3'te size verilen Coğrafya-1 Testinin Soru Kitapçık Numarasını cevap kâğıdınızdaki "Coğrafya-1 Soru Kitapçık Numarası" alanına kodlayınız.
Soru kitapçığı üzerinde yer alan Soru Kitapçık Numarasını doğru kodladığınızı beyan eden alanı imzalayınız.
- Sınav sonunda soru kitapçıkları toplanacak ve ÖSYM'de incelenecektir. Soru kitapçığının sayfalarını koparmayınız. Soru kitapçığının bir sayfası bile eksik çıkarsa sınavınız geçersiz sayılacaktır.
- Cevap kâğıdına ve soru kitapçığına yazılması ve işaretlenmesi gereken bilgilerde bir eksiklik ve/veya yanlışlık olması hâlinde sınavınızın değerlendirilmesi mümkün olamamaktadır, bu husustaki özen yükümlülüğü ve sorumluluk size aittir.
- Soru kitapçığının sayfalarındaki boş yerleri müsvedde için kullanabilirsiniz.
- Soruları ve/veya bu sorulara verdiğiniz cevapları ayrı bir kâğıda yazıp bu kâğıdı dışarı çıkarmanız kesinlikle yasaktır.
- Her testin cevaplarını cevap kâğıdındaki ilgili alana işaretleyiniz.**
- Sınav salonundan ayrılmadan önce, soru kitapçığınızı ve cevap kâğıdınızı salon görevlilerine eksiksiz olarak teslim etmeyi unutmayınız.

Bu testlerin her hakkı saklıdır. Hangi amaçla olursa olsun, testlerin tamamının veya bir kısmının Merkezimizin yazılı izni olmadan kopya edilmesi, fotoğrafının çekilmesi, herhangi bir yolla çoğaltılması, yayımlanması ya da kullanılması yasaktır. Bu yasağa uymayanlar gerekli cezai sorumluluğu ve doğacak tüm mali külfeti peşinen kabullenmiş sayılır.



T.C. Ölçme, Seçme ve Yerleştirme Merkezi

LİSANS YERLEŐTİRME SINAVI-3 (LYS3)
23 HAZİRAN 2013

COĞRAFYA-1 TESTİ

1. B
2. E
3. A
4. E
5. D
6. A
7. D
8. C
9. E
10. A
11. D
12. E
13. B
14. C
15. D
16. B
17. A
18. C
19. D
20. C
21. B
22. E
23. D
24. A



2012 LİSANS YERLEŐTİRME SINAVI-3
COĞRAFYA-1 TESTİ
23 HAZİRAN 2012 CUMARTESİ

T.C. KİMLİK NUMARASI	:														
ADI	:														
SOYADI	:														
SALON NO.	:											SIRA NO.:			
Soru kitapçık numarasının cevap kâğıdına kodlanmamasının veya yanlış kodlanmasının sorumluluğu adaya aittir.															
SORU KİTAPÇIK NUMARASI :	TEMEL SORU KİTAPÇIĞI					Bu numarayı cevap kâğıdınızdaki ilgili alana kodlamayı unutmayınız.									

DİKKAT! SINAV BAŐLAMADAN ÖNCE AŐAĐIDAKİ UYARILARI MUTLAKA OKUYUNUZ.

1. T.C. Kimlik Numaranızı, Adınızı, Soyadınızı, Salon Numaranızı ve Sıra Numaranızı, Soru Kitapçığı üzerindeki ilgili alanlara yazınız.
2. Soru Kitapçık Numaranız yukarıda verilmiştir. Bu numarayı cevap kâğıdınızdaki ilgili alana kodlayınız ve aŐađıdaki ilgili alanı imzalayınız. Salon görevlisinin de hem soru kitapçığındaki hem de cevap kâğıdınızdaki ilgili alanı imzalamasını sağlayınız. Bu kodlamayı cevap kâğıdınıza yapmadığınız veya yanlış yaptığınız takdirde, sınavınızın deđerlendirilmesi mümkün deđildir.
3. Bu sayfanın arkasında yer alan açıklamayı dikkatle okuyunuz.

Adayın imzası: Soru kitapçık numarasını deđer kodladım.	<input type="text"/>
Salon görevlisinin imzası: Adayın soru kitapçık numarasını cevap kâğıdına deđer kodladığını onaylıyorum.	<input type="text"/>

AÇIKLAMA

1. Bu kitapçıkta Lisans Yerleştirme Sınavı-3 Coğrafya-1 Testi bulunmaktadır.
2. Bu test için verilen cevaplama süresi **35 dakikadır**.
3. Bu testte yer alan her sorunun sadece bir doğru cevabı vardır. Bir soru için birden çok cevap yeri işaretlenmişse o soru yanlış cevaplanmış sayılacaktır.
4. İşaretlediğiniz bir cevabı değiştirmek istediğinizde, silme işlemini çok iyi yapmanız gerektiğini unutmayınız.
5. Bu test puanlanırken doğru cevaplarınızın sayısından yanlış cevaplarınızın sayısının dörtte biri düşülecek ve kalan sayı ham puanınız olacaktır. Bu nedenle, hakkında hiçbir fikriniz olmayan soruları boş bırakınız. Ancak, soruda verilen seçeneklerden birkaçını eleyebiliyorsanız kalanlar arasında doğru cevabı kestirmeye çalışmanız yararınıza olabilir.
6. Sınavda uyulacak diğer kurallar bu kitapçığın arka kapağında belirtilmiştir.

SINAVDA UYULACAK KURALLAR

- Cep telefonu ile sınava girmek kesinlikle yasaktır.** Çağrı cihazı, telsiz, fotoğraf makinesi vb. araçlarla; cep bilgisayarı, kol ya da cep saati gibi her türlü bilgisayar özelliği bulunan cihazlarla; silah ve benzeri teçhizatla; müsvedde kâğıdı, defter, kitap, sözlük, sözlük işlevi olan elektronik aygıt, hesap cetveli, hesap makinesi, pergel, açölçer, cetvel vb. araçlarla sınava girmek kesinlikle yasaktır. Bu araçlarla sınava girmiş adayların adı mutlaka Salon Sınav Tutanağına yazılacak, bu adayların sınavı geçersiz sayılacaktır. **Sınava kalem, silgi, kalemıraş, saat vb. araçla ve kulaklık, küpe, broş vb. takı, herhangi bir metal eşya ile girmek de kesinlikle yasaktır. Yiyecek, içecek vb. tüketim malzemeleri de sınava getirilemez. Adaylar sınava şeffaf şişe içerisinde su getirebilecektir.**
- Bu test için verilen cevaplama süresi **35 dakikadır. Sınav başladıktan sonra Türk Dili ve Edebiyatı Testinin cevaplama süresi bitmeden ve Coğrafya-1 Testinin son 15 dakikası** içinde adayın sınavdan çıkmasına kesinlikle izin verilmeyecektir. İki test arasında birinci testin soru kitapçığının toplanması ve ikinci testin soru kitapçığının dağıtılması işlemleri dışında ara verilmez. Toplama ve dağıtma işlemi sırasında adayların salondan dışarı çıkmaları kesinlikle yasaktır.
- Sınav salonundan ayrılan aday, her ne sebeple olursa olsun, tekrar sınava alınmayacaktır.**
- Sınav süresince görevlilerle konuşmak, görevlilere soru sormak yasaktır. Aynı şekilde görevlilerin de adaylarla yakından ve alçak sesle konuşmaları ayrıca adayların birbirinden kalem, silgi vb. şeyleri istemeleri kesinlikle yasaktır.
- Sınav sırasında, görevlilerin her türlü uyarılarına uymak zorundasınız. Sınavınızın geçerli sayılması, her şeyden önce, sınav kurallarına uymanıza bağlıdır. Kurallara aykırı davranışta bulunanların ve yapılacak uyarılara uymayanların kimlik bilgileri Salon Sınav Tutanağına yazılacak ve sınavları geçersiz sayılacaktır.
- Sınav sırasında kopya çeken, çekmeye kalkışan, kopya veren, kopya çekilmesine yardım edenlerin kimlik bilgileri Salon Sınav Tutanağına yazılacak ve bu adayların sınavları geçersiz sayılacaktır. Görevliler kopya çekmeye ya da vermeye kalkışanları uyarmak zorunda değildir, sorumluluk size aittir.
Adayların test sorularına verdikleri cevapların dağılımları bilgi işlem yöntemleriyle incelenecek, bu incelemelerden elde edilen bulgular bireysel ya da toplu olarak kopya çekildiğini gösterirse kopya eylemine katılan adayın/adayların sınavı geçersiz sayılacaktır.
Sınav görevlileri bir salondaki sınavın, kurallara uygun biçimde yapılmadığını, toplu kopya girişiminde bulunulduğunu raporlarında bildirdiği takdirde, ÖSYM takdir hakkını kullanarak bu salonda sınava giren tüm adayların sınavını geçersiz sayabilir.
- Cevap kâğıdında doldurmanız gereken alanlar bulunmaktadır. Bu alanları doldurunuz. Cevap kâğıdınızı başkaları tarafından görülmeyecek şekilde tutmanız gerekmektedir. Cevap kâğıdına yazılacak her türlü yazıda ve yapılacak bütün işaretlemelerde salon görevlisinin atacağı imzalar hariç, kurşun kalem kullanılacaktır. Sınav süresi bittiğinde cevapların cevap kâğıdına işaretlenmiş olması gerekir. Soru kitapçığına işaretlenen cevaplar geçerli değildir.
- Soru kitapçığınızı alır almaz kapağında bulunan ilgili alanlara kimlik bilgilerinizi yazınız. Sayfaların eksik olup olmadığını, kitapçıkta basım hatalarının bulunup bulunmadığını ve soru kitapçığının her sayfasında basılı bulunan soru kitapçık numarasının, kitapçığın ön kapağında basılı soru kitapçık numarasıyla aynı olup olmadığını kontrol ediniz. Soru kitapçığının sayfası eksik ya da basımı hatalıysa değiştirilmesi için Salon Başkanına başvurunuz.
Size bu sınavın her bir testi için ayrı ayrı kitapçıklar verilmektedir. Her kitapçığın Soru Kitapçık Numarası birbirinden farklıdır. Bu nedenle her test için aldığınız kitapçığın Soru Kitapçık Numarasını cevap kâğıdınızdaki ilgili alana kodlamanız çok önemlidir.
LYS-3'te size verilen Coğrafya-1 Testinin Soru Kitapçık Numarasını cevap kâğıdınızdaki "Coğrafya-1 Soru Kitapçık Numarası" alanına kodlayınız.
Soru kitapçığı ve cevap kâğıdı üzerinde yer alan ve ilgili testin Soru Kitapçık Numarasını doğru kodladığınızı beyan eden alanı imzalayınız; salon görevlisinin, kodlamanın doğru yapıldığını beyan eden alanı imzaladığından emin olunuz. Salon görevlisi imzasını tükenmez kalemle ve siz kodlamayı yaptıktan sonra atmalıdır.
- Sınav sonunda soru kitapçıkları toplanacak ve ÖSYM'de tek tek incelenecektir. Soru kitapçığının bir sayfası bile eksik çıkarsa sınavınız geçersiz sayılacaktır.
- Cevap kâğıdına ve soru kitapçığına yazılması ve işaretlenmesi gereken bilgilerde bir eksiklik ve/veya yanlışlık olması hâlinde sınavınızın değerlendirilmesi mümkün olamamaktadır, sorumluluk size aittir.
- Soru kitapçığının sayfalarındaki boş yerleri müsvedde için kullanabilirsiniz.
- Soruları ve/veya bu sorulara verdiğiniz cevapları ayrı bir kâğıda yazıp bu kâğıdı dışarı çıkarmanız kesinlikle yasaktır.
- Her testin cevaplarını cevap kâğıdındaki ilgili alana işaretleyiniz.**
- Sınav salonundan ayrılmadan önce, soru kitapçığınızı ve cevap kâğıdınızı salon görevlilerine teslim etmeyi unutmayınız.

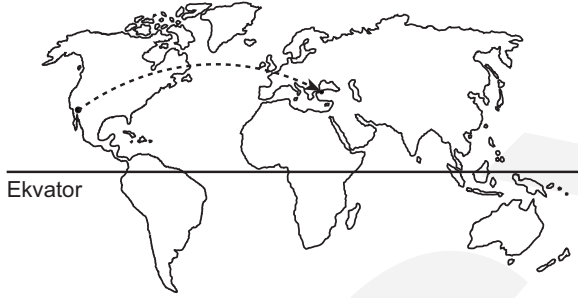
Bu testlerin her hakkı saklıdır. Hangi amaçla olursa olsun, testlerin tamamının veya bir kısmının Merkezimizin yazılı izni olmadan kopya edilmesi, fotoğrafının çekilmesi, herhangi bir yolla çoğaltılması, yayımlanması ya da kullanılması yasaktır. Bu yasağa uymayanlar gerekli cezai sorumluluğu ve testlerin hazırlanmasındaki mali külfeti peşinen kabullenmiş sayılır.

1. Bu testte 24 soru vardır.

2. Cevaplarınızı, cevap kâğıdının Coğrafya-1 Testi için ayrılan kısmına işaretleyiniz.

1. - 3. soruları aşağıda verilen parçaya göre cevaplayınız.

84. Oscar Ödül Töreni, Greenwich Ortalama Saati'ne göre 26.02.2012 tarihinde -8. saat dilimini kullanan Los Angeles kentinde yapılmıştır. Tören Los Angeles saati-ne göre 19.30'da başlamış ve Türkiye'de de televizyon kanalları aracılığıyla canlı olarak yayınlanmıştır. Töre-ne katılan bir Türk yönetmen, aynı gün Los Angeles saati ile 23.30'da uçağa binmiş ve uçakta kendisine uçuş bil-gilerini içeren bir broşür verilmiştir. Broşürde Los Ange-les ve İstanbul arasındaki uçuş rotası aşağıda verilen haritadaki gibi yay şeklinde gösterilmiştir. 13 saat süren kıtalar arası bir uçuşun ardından uçak İstanbul Atatürk Havalimanı'na inmiştir. Uçak 3 saatlik bir aktarma mola-sının ardından yeni yolcuları ile birlikte Türkiye'nin ulu-sal saatinden 4 saat ileri olan bir başka kente uçmuştur.



1. **Yalnızca yukarıdaki parçada verilen bilgiler göz önüne alındığında,**

- I. Oscar Ödül Töreni'nin canlı yayını Türkiye'den izlenmeye başlandığı tarih ve saat,
- II. Los Angeles ve İstanbul arasında uçuş yapan uçağın Türkiye saati ile İstanbul Atatürk Havalimanı'na indiği tarih ve saat

aşağıdakilerin hangisinde doğru sırada verilmiştir?

I	II
A) 27.02.2012 saat 05.30	27.02.2012 saat 12.30
B) 28.02.2012 saat 06.30	27.02.2012 saat 12.30
C) 27.02.2012 saat 05.30	28.02.2012 saat 18.30
D) 28.02.2012 saat 06.30	28.02.2012 saat 12.30
E) 27.02.2012 saat 05.30	27.02.2012 saat 22.30

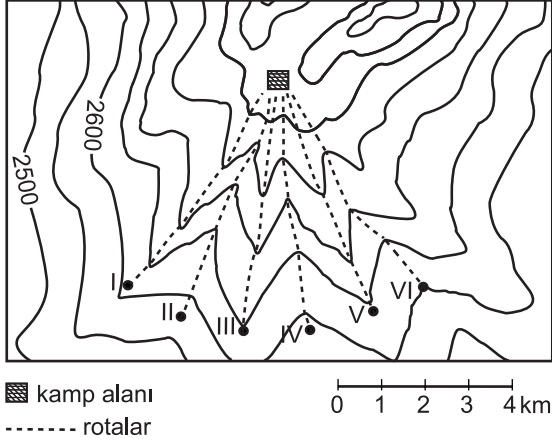
2. **Los Angeles'tan İstanbul'a doğru hareket eden uçağın rotasının, harita üzerinde düz bir çizgi ile değil de yay şeklinde gösterilmesinin nedeni aşağıdaki-lerden hangisidir?**

- A) Dünyanın günlük hareketinin uçakların rotalarını saptırması
- B) Dünyanın şeklinden dolayı en kısa mesafeyi göstermesi
- C) Kuzey Yarım Küre'de uçak rotalarının sağa sapması
- D) Sürekli rüzgârların, uçakların rotalarını etkilemesi
- E) Uçak rotalarının dünyanın manyetik alanından etkilenmesi

3. **İstanbul'dan kalkan uçak, hangi saat dilimini kullanan kente uçmuştur?**

- A) +6. saat dilimini
- B) +7. saat dilimini
- C) +8. saat dilimini
- D) +9. saat dilimini
- E) +10. saat dilimini

4.

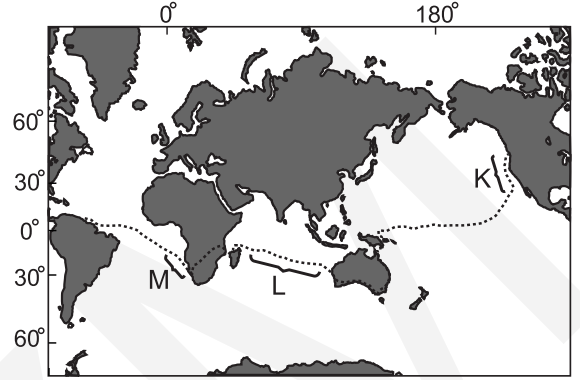


Yukarıdaki haritada hiç ağacın olmadığı ve sadece kısa boylu ot topluluğunun yer aldığı bir alan gösterilmiştir. Bir arama kurtarma ekibinin lideri, ekibini altı gruba ayırarak haritada numaralandırılan noktalardan kamp alanına doğru yürütmeyi düşünmektedir.

Grupların, rotaları dışına çıkmadan aynı anda ve eşit hızda ilerledikleri düşünülürken, ekip lideri hangi rotalardan ilerlerse kamp alanına gidene kadar sürekli olarak en az iki grubu yüksekten gözlemleyebilir?

- A) I ve II B) II ve III C) II ve IV
D) III ve V E) IV ve VI

5. Tarihte üç ayrı okyanusu kas gücüyle geçen ilk ve tek kişi olan Erden Eruç, bir farkındalık yaratmak ve eğitimi desteklemek amacıyla Amerika Birleşik Devletleri'nin kuzeybatısında bulunan Bodega Bay limanından Pasifik Okyanusu'na açılmıştır. Sırasıyla Hint Okyanusu ve Atlas Okyanusu'nu geçerek Venezuela sahillerine ulaşmıştır.



Yukarıdaki haritada Erden Eruç'un izlediği rota gösterilmiştir.

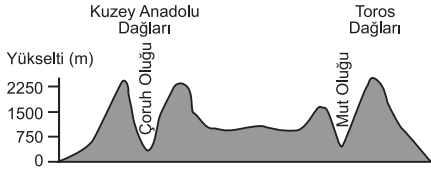
Buna göre rotaların işaretlendiği alanlarda etkili olan sürekli rüzgârlar ve okyanus akıntıları düşünülürken,

- M alanında daha hızlı ilerlemesini sağlayan okyanus akıntısı,
- L alanında daha hızlı ilerlemesini sağlayan sürekli rüzgâr,
- K alanında daha hızlı ilerlemesini sağlayan okyanus akıntısı

aşağıdakilerin hangisinde doğru sırada verilmiştir?

_____ M _____	_____ L _____	_____ K _____
A) Benguela	Güneydoğu Alizeleri	Kaliforniya
B) Mozambik	Kuzeydoğu Alizeleri	Alaska
C) Benguela	Güneydoğu Alizeleri	Alaska
D) Peru	Batı Rüzgârları	Benguela
E) Mozambik	Kuzeydoğu Alizeleri	Kaliforniya

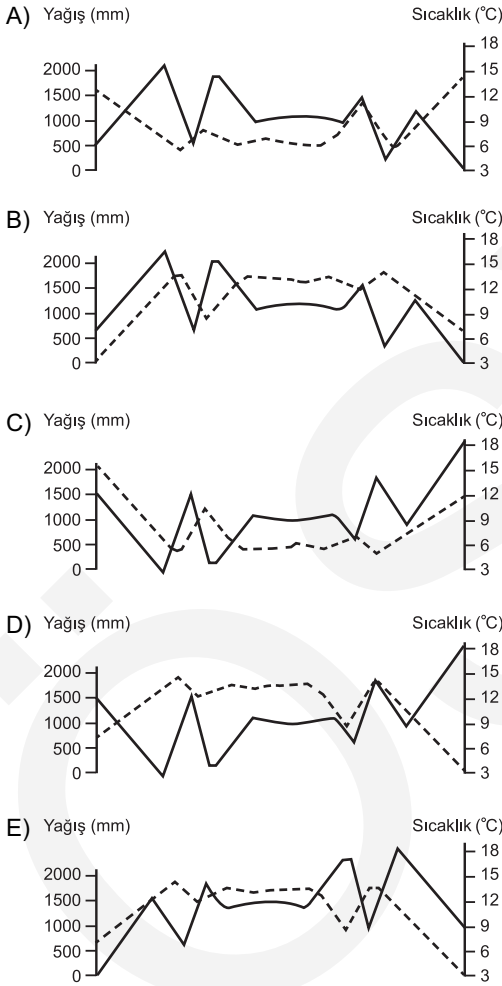
6.



Yukarıda, Türkiye'nin belli bir doğrultudaki profili şematik olarak verilmiştir.

Verilen profile ait olan yıllık ortalama sıcaklık ve yağış eğrileri aşağıdaki grafiklerden hangisinde doğru olarak gösterilmiştir?

--- Yağış eğrisi — Sıcaklık eğrisi



7. “Orman katının üst sınırından daha yüksek kesimlerde renkli çiçekler ve uzun boylu otlar bakımından zengin bir alpin bitki örtüsü görülür. Bu bitkilerin görüldüğü yerler, ilkbahar ve yaz aylarında sisin ve yağışların etkisiyle çiçeklerle kaplı yeşillikler hâlindeyken sonbahar ve kış aylarında da karlarla kaplıdır.”

Yukarıda anlatılan bitki topluluğunun görüldüğü yöre aşağıdakilerden hangisidir?

- A) Haymana Platosu B) Ardahan Platosu
C) Datça Yarımadası D) Karacadağ
E) İhlara Vadisi

8. Çalışma çağıının dışında kalan nüfusa bağımlı nüfus denir. Bu nüfusun toplam nüfustaki payı ise bağımlı nüfus oranı olarak tanımlanır. Geri kalmış ülkelerde çocuk bağımlı nüfus oranı, gelişmiş ülkelerde ise yaşlı bağımlı nüfus oranı fazladır.

Ülkeler	Yaş grupları (%)			İş gücüne dâhil olmayan nüfus oranı (%)
	0-14	15-64	65+	
K	13,5	64,3	22,2	7,2
L	45	52,5	2,5	28,3
M	18,6	65	16,4	16,8
N	11,2	67	21,8	8
P	44,5	53,1	2,4	29,5

Buna göre, verilen tabloyla ilgili olarak aşağıdakilerden hangisi doğrudur?

- A) Toplam bağımlı nüfus oranı en az N'dedir.
B) K ve P, benzer gelişmişlik özelliklerine sahiptir.
C) Çalışan nüfus oranı en fazla L'dedir.
D) L ve P, farklı gelişmişlik özelliklerine sahiptir.
E) Toplam bağımlı nüfus oranı en fazla M'dedir.

9. Bir yöreye ait aşağıdaki özelliklerden hangisi diğer dördünün nedenidir?

- A) Kara yolu ulaşımı için çok sayıda köprü ve tünel ihtiyacı vardır.
- B) Tarım alanları dar ve parçalıdır.
- C) Yer şekilleri dağlık ve engebeldir.
- D) Kış turizmi gelişmiştir.
- E) Akarsular derin vadiler içinde akar.

10. Türkiye'nin iklimiyle ilgili olarak aşağıda verilen bilgilerden hangisi yanlıştır?

- A) Türkiye, yazın genellikle tropikal kökenli hava kütlelerinin etkisi altına girer.
- B) Türkiye'ye yazın kuzeybatıdan sokulan denizel hava kütlesi nemli ve serindir.
- C) Yazın güney ve güneydoğudan gelen karasal hava kütlesi, Anadolu'da sıcaklıkların yükselmesine neden olur.
- D) Türkiye, sonbahar ve kış aylarında kuzeyden gelen soğuk hava kütlesi ile güneyden sokulan nispeten ılık hava kütlelerinin etkisi altına girer.
- E) Kışın kuzeydoğudan Türkiye'ye soğuk ve kuru hava kütlelerinin sokulmasıyla, Anadolu içlerinde kapalı gökyüzü ve alçak basınç koşulları egemen olur.

11. Aşağıdakilerden hangisi, Türkiye'de kırdan kente yapılan göçlerin sonuçları arasında gösterilemez?

- A) Tarım sektöründe çalışan nüfus oranının azalması
- B) Kentlerin çevresindeki verimli tarım alanlarının yerleşmeye açılması
- C) Bazı kentlerde konut açığının ortaya çıkması
- D) Coğrafi bölgeler arasında enerji üretim miktarının değişmesi
- E) Kırsal kesimde kadın ve erkek nüfus oranının değişmesi

12. Dünyada rüzgâr gücünden elde edilen enerji üretiminin kurulu kapasitesinin, 2000 yılından sonraki on yıl içinde kaydettiği büyüme oranı % 30 civarındadır. Bu kurulu gücün yarısından fazlası Avrupa Kıtası'nda yer alır.

2000 yılından sonra, Avrupa ülkelerinde rüzgârdan enerji üretiminin önem kazanmasındaki temel neden aşağıdakilerden hangisidir?

- A) Endüstri devriminden bu yana kullanılan kömür rezervinin gittikçe azalması
- B) Kuzey Denizi'ndeki petrol üretiminin kıtanın taleplerini karşılayamaması
- C) Doğal gaz rezervleri bakımından fakir olması
- D) Enerjiyi yerli kaynaklardan sağlama isteği ve çevre duyarlılığının artması
- E) Nükleer enerji potansiyelinin yüksek olması

13. Coğrafya Öğretmeni Murat Bey, öğrencileri Meltem, Ahmet ve Zehra'ya birer araştırma konusu vermiş, bu konularla ilgili hazırladıkları ödevleri bir sonraki derste arkadaşlarına sunmalarını istemiştir. Murat Bey araştırma ödevi olarak;

Meltem'e, bir türün bireylerinin yaşamsal faaliyetlerini en iyi şekilde devam ettirebildiği ve türün arandığında en kolay bulunabildiği yaşam yeri konusunu,

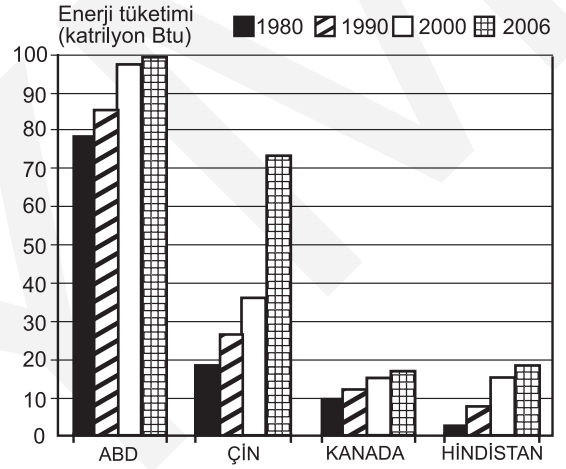
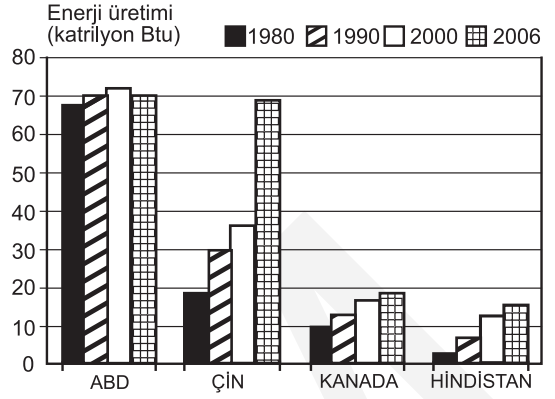
Ahmet'e, belirli bir bölgede yaşayan ve birbirleriyle daima etkileşim içinde olan canlılarla bunların herhangi bir şekilde cansız çevreyle ilişkilerinin meydana getirdiği yapı konusunu,

Zehra'ya, belirli bitki ve hayvan türlerinin bölgesel düzeyde oluşturdukları ve kendine özgü özellikleri olan büyük topluluklar konusunu vermiştir.

Buna göre öğrencilerin araştıracakları konular aşağıdaki kavramlardan hangileri ile doğru olarak ilişkilendirilir?

	Meltem	Ahmet	Zehra
A) Habitat	Ekosistem	Biyom	
B) Biyom	Besin zinciri	Biyolojik çeşitlilik	
C) Popülasyon	Biyolojik çeşitlilik	Besin zinciri	
D) Habitat	Ekosistem	Popülasyon	
E) Besin zinciri	Biyom	Biyolojik çeşitlilik	

14.



Yukarıdaki grafiklerde, çeşitli ülkelerin 1980 ve 2006 yılları arasındaki enerji üretim ve tüketim miktarı gösterilmiştir.

Bu grafiklere göre, aşağıdaki bilgilerden hangisi yanlıştır?

- 2006 yılında enerji üretimi ve tüketimi arasındaki en fazla fark ABD'dedir.
- Verilen tüm yıllarda enerji üretimi ve tüketimi arasındaki en fazla fark Çin'de gerçekleşmiştir.
- Kanada'nın tüm yıllardaki enerji üretimi, tüketimini kolayca karşılamıştır.
- Verilen tüm yıllarda enerji üretimi ve tüketimi arasındaki en fazla fark ABD'dedir.
- Verilen tüm yıllarda en az enerji üretimi Hindistan'da gerçekleşmiştir.

15. Bir çiftçi, bulunduğu bölgede nadas alanlarının gittikçe daraldığını belirtmektedir.

Bu durumun, aşağıdakilerden hangisinin sonucu olduğu söylenebilir?

- A) Arazi toplulaştırmasının uygulanmamasının
- B) Ekstansif tarım yönteminin yaygınlaşmasının
- C) Tarım teknolojilerinin gelişmesinin
- D) Anız yakılmasının yasaklanmasının
- E) Tarımda çalışan nüfusun azalmasının

16. Ülke topraklarının yaklaşık % 40'ı deniz seviyesinin altında olan Hollanda'da koy ve körfezler doldurularak Polder adı verilen araziler oluşturulmuştur.

Yapılan bu uygulamayla Hollanda'da aşağıdakilerden hangisinin gerçekleştiği kesin olarak söylenebilir?

- A) Topraklarının genişlediği
- B) Kıyı uzunluğunun kıaldığı
- C) Tarımsal ürün çeşitliliğinin arttığı
- D) Yeni tarım ve yerleşim alanlarının oluşturulduğu
- E) Kıyıların doğal yapısının bozulduğu

17. Türkiye'nin bazı yörelerinde;

- Yüksek ve engebeli alanlarda hayvancılık etkinliklerine bağlı olarak geçici yerleşmeler kurulmaktadır.
- Kar kalınlığının fazla ve topoğrafik koşulların uygun olduğu dağlık alanlarda kış sporları tesisleri yapılmaktadır.
- Delta ovalarında yoğun olarak tarım etkinlikleri yapılmaktadır.

Buna göre aşağıdakilerden hangisi, belirtilen ilişkileri ve sonucunu kapsayacak şekilde doğru olarak verilmiştir?

- A) İklim – Bitki örtüsü
- B) Toprak türü – Arazi kullanımı
- C) Yer şekli – Bakı
- D) Yer şekli – Arazi kullanımı
- E) Toprak türü – İklim

18. "Pasifik Okyanusu'nda mercan kayalıklarından oluşan bir takımada ülkesi olan Kiribati'de deniz seviyesi yükselmeye, buna bağlı olarak ülke yüz ölçümü de giderek küçülmeye başlamıştır. Bu durum yetkilileri harekete geçirmiş ve Devlet Başkanı Anote Tong, tüm ülkenin boşaltılması gereği duyulduğu için komşu ülke Fiji'yle görüşmelerin sürdürüldüğünü ve 2 bin 20 hektarlık bir alanın satın alınarak halkın buraya yerleştirilmeye çalışıldığını açıklamıştır."

Bu parçada verilen olaya, aşağıdakilerden hangisinin neden olduğu söylenebilir?

- A) Yıllık yağış tutarının azalmasının
- B) Küresel iklim değişikliğinin
- C) Ülke topraklarını genişletme arzusunun
- D) Ülkenin küreselleşme isteğinin
- E) Turizm gelirlerini artırma isteğinin

19. Ülkeler arasındaki politik yaklaşımlar ve var olan potansiyeller göz önüne alındığında dünya ekonomisinde, geçen çeyrek yüzyılda ulaşılan yaklaşık % 4,5'lük büyüme oranının giderek artacağı tahmin edilmektedir.

Küresel ticaretteki bu büyümede, aşağıdakilerden hangisinin payının daha az olduğu söylenebilir?

- A) İletişim maliyetlerinin düşmesinin
- B) Ulaşım olanaklarının gelişmesinin
- C) Uluslararası sermaye hareketliliğinin artmasının
- D) Dünyada endüstri üretiminin artmasının
- E) Uluslararası göçün artmasının

20. İzmir'den hareket eden bir yük gemisi, Türkiye'nin aşağıdaki komşularından hangi ikisinin limanlarına en kısa yoldan ulaşmak için, başka ülkelerin kara sularından geçmek zorundadır?

- A) İran – Bulgaristan
- B) Bulgaristan – Gürcistan
- C) Suriye – Irak
- D) İran – Irak
- E) Gürcistan – Suriye

21. Uluslararası önem taşıyan ve bu nedenle takdire ve korunmaya değer doğal oluşumlara, anıtlara ve sitlere UNESCO tarafından Dünya Mirası statüsü verilir ve bunlar Dünya Kültürel ve Doğal Mirası Listesi'ne alınır. 2011 yılı sonu itibarıyla dünya genelinde bu listede 725 kültürel, 183 doğal ve 28 karma tipte (kültürel/doğal) varlık bulunmaktadır. Bu listede Türkiye'yi sembolize eden doğal ve kültürel varlıkların sayısı, 2011 yılında 9'dan 10'a yükselmiştir.

Buna göre;

- I. 29.06.2011 tarihinde UNESCO tarafından Dünya Kültürel ve Doğal Mirası Listesi'ne dâhil edilen kültürel varlığımız,
- II. Dünya Kültürel ve Doğal Mirası Listesi'nde yer alan karma tipteki varlığımız

aşağıdakilerin hangisinde doğru olarak verilmiştir?

I	II
A) Safranbolu şehri	Göreme Millî Parkı ve Kapadokya Kayalık Sitleri
B) Selimiye Camii ve Külliyesi	Hierapolis-Pamukkale
C) Truva Antik Kenti	Hattuşa (Hitit başkenti)
D) Divriği Ulu Camii ve Darüşşifası	Nemrut Dağı
E) Hattuşa (Hitit başkenti)	İstanbul'un tarihî alanları

22. Günümüzde enerjiye duyulan büyük gereksinim nedeniyle uluslararası enerji nakil projeleri hayata geçirilmektedir.

Bu tür projeler kapsamında, Türkiye'nin coğrafi konumuna bağlı olarak aşağıdakilerden hangisinde daha fazla değişiklik olması beklenir?

- A) Jeopolitik ve jeostratejik öneminin artmasında
- B) Sosyal ve kültürel etkileşimin artmasında
- C) Ulaşım olanaklarının çeşitlenmesinde
- D) Çalışan nüfusun sektörel dağılımında
- E) Tüketilen enerji kaynaklarının niteliğinde

23.

- I. Çatalca-Kocaeli Endüstri Bölgesi
- II. Akdeniz Ardı Geçiş İklimi Bölgesi
- III. Yeşilirmak Havzası Gelişim Projesi Bölgesi
- IV. Türkiye'nin güney kıyılarındaki sık nüfuslu bölgeler
- V. Türkiye'nin tarım bölgeleri

Yukarıda verilen bölgelerden hangilerinin sınırlarının, diğerlerine göre daha uzun sürede değişime uğraması beklenir?

- A) Yalnız I
- B) Yalnız II
- C) I ve III
- D) II ve IV
- E) IV ve V

24. Günümüzde doğal ve beşerî nedenlere bağlı olarak dünyanın çeşitli yerlerinde sıcak çatışma bölgeleri oluşmuştur. Bu bölgelerden biri de tarih boyunca stratejik önemini koruyan Ortadoğu'dur.

Ortadoğu'da yaşanan aşağıdaki durumlardan hangisi, Türkiye'yle bölgedeki bazı ülkeler arasında sorun oluşturabilmektedir?

- A) Toprakların paylaşımı
- B) Önemli ulaşım yollarının kontrolü
- C) Akarsu kaynaklarının kullanımı
- D) Maden kaynaklarının paylaşımı
- E) Petrol ve doğal gaz kaynaklarının paylaşımı

LİSANS YERLEŐTİRME SINAVI (LYS)

23.06.2012

LYS – 3 / COĖRAFYA-1 TESTİ CEVAP ANAHTARI

1. E
2. B
3. A
4. D
5. A
6. C
7. B
8. A
9. C
10. E
11. D
12. D
13. A
14. B
15. C
16. C
17. D
18. B
19. E
20. D
21. B
22. A
23. B
24. C



2011 LİSANS YERLEŐTİRME SINAVI-3
COĞRAFYA-1 TESTİ

25 HAZİRAN 2011

T.C. KİMLİK NUMARASI :

ADI :

SOYADI :

BASIN KİTAPÇIĞI

SALON NO :

--	--	--	--	--	--	--	--	--	--

SIRA NO :

--	--	--

**Soru kitapçığı numarasının cevap kâğıdına kodlanmamasının
veya yanlış kodlanmasının sorumluluğu adaya aittir.**

SORU KİTAPÇIK
NUMARASI

00000000

Bu numarayı cevap
kâğıdınızdaki ilgili alana
kodlamayı unutmayınız.

Adayın imzası:

Soru kitapçığı nosunu
doğru kodladım.

Salon görevlisinin imzası:

Adayın kitapçık nosunu cevap kâğıdına
doğru kodladığını onaylıyorum.

DİKKAT! SINAV BAŐLAMADAN ÖNCE AŐAĞIDAKİ UYARILARI MUTLAKA OKUYUNUZ.

1. Adınızı, Soyadınızı, T.C. Kimlik Numaranızı, Sınav Salon Numaranızı, Salon Sıra Numaranızı Soru Kitapçığı üzerindeki ilgili alanlara yazınız.
2. Soru Kitapçık Numaranız yukarıda verilmiştir. Bu numarayı cevap kâğıdınızdaki ilgili alana kodlayınız ve yukarıdaki ilgili alanı imzalayınız. Salon görevlisinin de hem soru kitapçığındaki hem de cevap kâğıdınızdaki ilgili alanı imzalamasını sağlayınız. Bu kodlamayı cevap kâğıdınıza yapmadığınız veya yanlış yaptığınız takdirde, sınavınızın değerlendirilmesi mümkün değildir.
3. Bu sayfanın arkasında yer alan açıklamayı dikkatle okuyunuz.

AÇIKLAMA

1. Bu kitapçıkta Lisans Yerleştirme Sınavı-3 Coğrafya-1 Testi bulunmaktadır.
2. Bu test için verilen toplam cevaplama süresi **35 dakikadır**.
3. Bu kitapçıkta testlerde yer alan her sorunun sadece bir doğru cevabı vardır. Bir soru için birden çok cevap yeri işaretlenmişse o soru yanlış cevaplanmış sayılacaktır.
4. Değiştirmek istediğiniz bir cevabı, size verilen silgiyle, cevap kâğıdını örselemeden, temizce siliniz ve yeni cevabınızı işaretlemeyi unutmayınız.
5. Bu testler puanlanırken her testteki doğru cevaplarınızın sayısından yanlış cevaplarınızın sayısının dörtte biri düşülecek ve kalan sayı o testle ilgili ham puanınız olacaktır. Bu nedenle, hakkında hiçbir fikriniz olmayan soruları boş bırakınız. Ancak, soruda verilen seçeneklerden birkaçını eleyebiliyorsanız kalanlar arasında doğru cevabı kestirmeye çalışmanız yararınıza olabilir.
6. Sınavda uyulacak kurallar bu kitapçığın arka kapağında belirtilmiştir.

1. **Cep telefonu ile sınava girmek kesinlikle yasaktır.** Çağrı cihazı, telsiz, fotoğraf makinesi vb. araçlarla; cep bilgisayarı, kol ya da cep saati gibi, her türlü bilgisayar özelliği bulunan cihazlarla; silah ve benzeri teçhizatla; müsvedde kâğıdı, defter, kitap, sözlük, sözlük işlevi olan elektronik aygıt, hesap cetveli, hesap makinesi, pergel, açılıçer, cetvel vb. araçlarla sınava girmek kesinlikle yasaktır. Bu araçlarla sınava girmiş adayların ismi mutlaka Salon Sınav Tutanağına yazılacak, bu adayların sınavı geçersiz sayılacaktır. **Sınava kalem, silgi, kalemtırış, saat vb. araçla ve kulaklık, küpe, broş vb. takı, herhangi bir metal eşyayla girmek de kesinlikle yasaktır. Yiyecek, içecek vb. tüketim malzemeleri de sınava getirilemez. Adaylar sınava şeffaf şişe içerisinde su getirebilecektir.**
2. Bu test için verilen toplam cevaplama süresi **35 dakikadır. Sınav başladıktan sonra ilk testin cevaplama süresi bitmeden ve son testin son 15 dakikası içinde adayın sınavdan çıkmasına kesinlikle izin verilmeyecektir. İki test arasında birinci testin soru kitapçığının toplanması ve ikinci testin soru kitapçığının dağıtılması işlemleri dışında ara verilmez.** Toplama ve dağıtma işlemi sırasında adayların salondan dışarı çıkmaları kesinlikle yasaktır.
3. **Sınav evrakını teslim ederek salondan ayrılan aday, her ne sebeple olursa olsun, tekrar sınava alınmayacaktır.**
4. Sınav süresince görevlilerle konuşmak, görevlilere soru sormak yasaktır. Aynı şekilde görevlilerin de adaylarla yakından veya alçak sesle konuşmaları ayrıca, adayların birbirinden kalem, silgi vb. şeyleri istemeleri kesinlikle yasaktır.
5. Sınav sırasında, görevlilerin her türlü uyarılarına uymak zorundasınız. Sınavınızın geçerli sayılması, her şeyden önce, sınav kurallarına uymanıza bağlıdır. Kurallara aykırı davranışta bulunanların ve yapılacak uyarılara uymayanların kimlik bilgileri Salon Sınav Tutanağına yazılacak ve sınavları geçersiz sayılacaktır.
6. Sınav sırasında kopya çeken, çekmeye kalkışan, kopya veren, kopya çekilmesine yardım edenlerin kimlik bilgileri Salon Sınav Tutanağına yazılacak ve bu adayların sınavları geçersiz sayılacaktır. Görevliler kopya çekmeye ya da vermeye kalkışanları uyarmak zorunda değildir; sorumluluk size aittir. Adayların test sorularına verdikleri cevapların dağılımları bilgi işlem yöntemleriyle incelenecek, bu incelemelerden elde edilen bulgular bireysel ya da toplu olarak kopya çekildiğini gösterirse kopya eylemine katılan adayın/adayların cevaplarının bir kısmı ya da tamamı iptal edilecektir. Sınav görevlileri bir salondaki sınavın, kurallara uygun biçimde yapılmadığını, toplu kopya girişiminde bulunulduğunu raporlarında bildirdiği takdirde, ÖSYM takdir hakkını kullanarak bu salonda sınava giren tüm adayların sınavını geçersiz sayabilir.
7. Cevap kâğıdında doldurmanız gereken alanlar bulunmaktadır. Bu alanları doldurunuz. Cevap kâğıdınızı başkaları tarafından görülmeyecek şekilde tutmanız gerekmektedir. Cevap kâğıdına yazılacak her türlü yazıda ve yapılacak bütün işaretlemelerde kurşun kalem kullanılacaktır. Sınav süresi bittiğinde cevapların cevap kâğıdına işaretlenmiş olması gerekir. Soru kitapçığına işaretlenen cevaplar geçerli değildir.
8. Soru kitapçığınızı alır almaz, kapağında bulunan ilgili alanlara kimlik bilgilerinizi yazınız. Sayfaların eksik olup olmadığını, kitapçıkta basım hatalarının bulunup bulunmadığını ve soru kitapçığının her sayfasında basılı bulunan soru kitapçık numarasının, kitapçığın ön kapağında basılı soru kitapçık numarasıyla aynı olup olmadığını kontrol ediniz. Soru kitapçığının sayfası eksik ya da basımı hatalıysa değiştirilmesi için salon başkanına başvurunuz. Size her sınavın her bir testi için ayrı ayrı kitapçıklar verilmektedir. Her kitapçığın Soru Kitapçık Numarası birbirinden farklıdır. Bu nedenle her test için aldığınız kitapçığın Soru Kitapçık Numarasını cevap kâğıdınızdaki ilgili alana kodlamanız çok önemlidir. **LYS-3'te size verilen Coğrafya-1 Testi kitapçığının Soru Kitapçık Numarasını ise "Coğrafya-1 Soru Kitapçık Numarası" alanına kodlayınız.** **Soru kitapçıkları ve cevap kâğıdı üzerinde yer alan ve ilgili testin Soru Kitapçık Numarasını doğru kodladığınızı beyan eden alanı imzalayınız ve Salon Görevlisinin, kodlamanın doğru yapıldığını beyan eden alanı imzaladığından emin olunuz. Salon Görevlisi imzasını tükenmez kalemle atmalıdır.**
9. Sınav sonunda soru kitapçıkları toplanacak ve ÖSYM'de tek tek incelenecektir. Soru kitapçığının bir sayfası bile eksik çıkarsa sınavınız geçersiz sayılacaktır.
10. Cevap kâğıdına ve soru kitapçığına yazılması ve işaretlenmesi gereken bilgilerde bir eksiklik ve/veya yanlışlık olması hâlinde sınavınızın değerlendirilmesi mümkün olamamaktadır. Tarafınızdan yazılması ve işaretlenmesi gereken bu bilgilerde eksiklik ve/veya yanlışlık olduğunda sorumluluk size aittir.
11. Soru kitapçığının sayfalarındaki boş yerleri müsvedde için kullanabilirsiniz.
12. Soruları ve/veya bu sorulara verdiğiniz cevapları ayrı bir kâğıda yazıp bu kâğıdı dışarı çıkarmanız kesinlikle yasaktır.
13. **Her testin cevaplarını cevap kâğıdındaki ilgili alana işaretlemeye dikkat ediniz.**
14. Sınav salonundan ayrılmadan önce, soru kitapçığınızı ve cevap kâğıdınızı salon görevlilerine teslim etmeyi unutmayınız.

Bu testlerin her hakkı saklıdır. Hangi amaçla olursa olsun, testlerin tamamının veya bir kısmının Merkezimizin yazılı izni olmadan kopya edilmesi, fotoğrafının çekilmesi, herhangi bir yolla çoğaltılması, yayımlanması ya da kullanılması yasaktır. Bu yasağa uymayanlar gerekli cezai sorumluluğu ve testlerin hazırlanmasındaki mali külfeti peşinen kabullenmiş sayılır.

1. Bu testte 24 soru vardır.

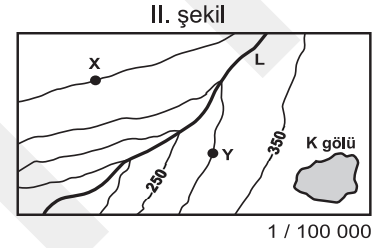
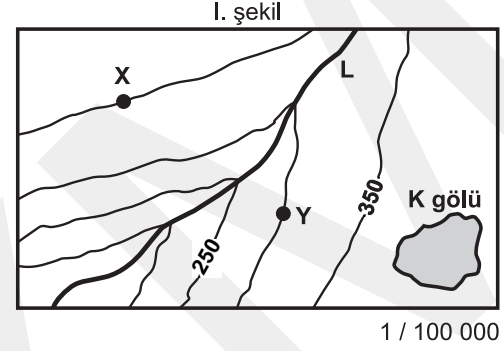
2. Cevaplarınızı, cevap kâğıdının Coğrafya-1 Testi için ayrılan kısmına işaretleyiniz.

1. Ankara'da yaşayan İpek ile Londra'da yaşayan Selin, "Bugün hem Ankara'da hem de Londra'da Güneş'in doğuşuyla batışı arasındaki süre, Dünya'nın kendi eksenini etrafındaki dönüş süresinin yarısına eşit olarak yaşanacaktır." yorumunda bulunmuşlardır.

Bu durum, aşağıdaki günlerin hangisinde gerçekleşmiş olabilir?

- A) Türkiye'de en uzun gündüz yaşandığında
 B) Güneş ışınları, Oğlak Dönencesi'ne dik geldiğinde
 C) İlkbahar ekinoksunun yaşandığı günde
 D) Kuzey Yarım Küre'de yaz mevsimi başladığında
 E) Dünya'nın Güneş'e en uzak olduğu günde

2. Aşağıda, I. şekilde çizgi ölçeği bulunmayan ve yalnızca kesir ölçeği verilen bir topografya haritası, II. şekilde ise bu haritanın fotokopiyle belli bir oranda küçültülmüş hâli gösterilmiştir.



II. şekildeki haritaya sahip olan ve bu haritanın fotokopiyle küçültüldüğünü bilmeyen bir kişi, aşağıdakilerden hangisini hesapladığında doğru sonuca ulaşabilir?

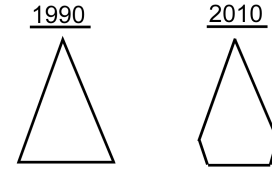
- A) K gölünün kapladığı alanı
 B) X ve Y noktaları arasındaki yükselti farkını
 C) L akarsuyunun aktığı vadinin ortalama eğimini
 D) X ve Y noktaları arasındaki kuş uçuşu uzaklığı
 E) L akarsuyunun gerçek uzunluğunu

3. Doruk ve Emre, Mayıs ayında bir turla beş gün yurt dışına gittiler. Ancak gittikleri şehirde gezi süresince, sıcaklığın 25 °C'nin üstüne çıkmasıyla beklenmedik bir durum yaşadılar.

Buldukları iklim kuşakları göz önüne alındığında bu ekstrem sıcaklığın aşağıdaki şehirlerin hangisinde yaşandığı söylenebilir?

- A) Kahire B) Riyad C) Oslo
D) Roma E) Yeni Delhi

4. 1975 yılından itibaren, beşer yıl aralıklarla nüfus sayımının yapıldığı bir ülkenin, 1990 ve 2010 yıllarına ait nüfus piramitleri aşağıda gösterilmiştir.



Buna göre, bu ülkenin sayım dönemlerinde belirlenen yıllık ortalama nüfus artış hızını gösteren tablo aşağıdakilerden hangisi olabilir?

A)

Yıl	Nüfus Artış Hızı (‰)	Yıl	Nüfus Artış Hızı (‰)
1975	20	1995	32
1980	23	2000	31
1985	26	2005	32
1990	29	2010	31

B)

Yıl	Nüfus Artış Hızı (‰)	Yıl	Nüfus Artış Hızı (‰)
1975	18	1995	28
1980	23	2000	26
1985	27	2005	23
1990	30	2010	19

C)

Yıl	Nüfus Artış Hızı (‰)	Yıl	Nüfus Artış Hızı (‰)
1975	33	1995	18
1980	30	2000	20
1985	26	2005	23
1990	22	2010	26

D)

Yıl	Nüfus Artış Hızı (‰)	Yıl	Nüfus Artış Hızı (‰)
1975	18	1995	24
1980	20	2000	20
1985	23	2005	22
1990	26	2010	23

E)

Yıl	Nüfus Artış Hızı (‰)	Yıl	Nüfus Artış Hızı (‰)
1975	18	1995	19
1980	18	2000	17
1985	18	2005	15
1990	19	2010	12

5. Dünya genelinde çok yüksek dağlık alanlar, kutuplara yakın bölgeler, yüksek sıcaklık ve şiddetli kuraklığın yaşandığı yerler, yerleşme için fazla uygun değildir. Ancak tüm olumsuz coğrafi koşullara karşın değerli maden yataklarına sahip olması, turizm etkinliklerinin gelişmesi ve kutsal değerlere sahip olması gibi durumlar bu alanlarda bazı yerleşmelerin kurulmasını ya da var olan küçük yerleşmelerin gelişmesini sağlamıştır.

- I. Dubai (Birleşik Arap Emirlikleri)
- II. Ust Nera (Rusya Federasyonu)
- III. Pekin (Çin Halk Cumhuriyeti)
- IV. Atina (Yunanistan)
- V. Mekke (Suudi Arabistan)

Yukarıdaki yerleşmelerden hangileri bu duruma örnek olarak gösterilebilir?

- A) I ve II B) II ve III C) III ve IV
D) I, II ve V E) III, IV ve V

6. VE 7. SORULARI AŞAĞIDA VERİLEN PARÇAYA GÖRE CEVAPLAYINIZ.

Doğal afetler, tarih boyunca büyük sorunlara neden olmuştur. 16. yüzyılda İsveç'teki Orsloa Kilisesi'nin raporlarından alınan bilgiler aşağıda verilmiştir.

"1596 yazının başlarında tarlalarda bol miktarda tahıl vardı. Bu yüzden herkes rahat bir kış geçireceklerini düşündü. Ancak haziran ayında öyle çok yağmur yağdı ve sel geldi ki bütün köprüler yıkıldı. Bütün tarla ve otlaklar sular altında kaldı. Çok az tahıl ve saman kurtarılabildi. Sığırlar sudan çıkarılan çürümüş samanları yedikleri için hastalanıp öldüler. Açlık nedeniyle ölü sığırları yiyen insanlar da hastalandı. Toprak üç yıl boyunca verimsizleşti ve hiç ürün alınamadı. İnsanların çoğu tarlalarını bırakıp gitti. Kalanlar ise ağaç kabuğu, ısırgan, saman ve yosunu öğütüp ekmek yaptılar. Bu ekmekle beslenen insanlar da güçsüz düştü. Annelerin emzirecek sütü olmadığı için bebeklerin çoğu öldü. Dizanteri herkesi hasta etti."

6. Bu parçaya göre, afet sonrasında Orsloa'da aşağıdaki sorunlardan hangisi yaşanmamıştır?

- A) Bazı hastalıkların ortaya çıkması
- B) Kıtık yaşanması
- C) Yerleşim merkezinin başka bölgelere taşınması
- D) Altyapının hasar görmesi
- E) Yetersiz beslenmenin ortaya çıkması

7. Bu parçadaki bilgilerden yararlanarak, afet sonrasında sorunların yaşandığı üç yıllık süreçte, Orsloa'nın nüfus özellikleriyle ilgili olarak,

- I. Nüfus artış hızı azalmıştır.
- II. Doğurganlık oranı artmıştır.
- III. Nüfus yoğunluğu azalmıştır.
- IV. Kadın nüfus oranı azalmıştır.

sonuçlarından hangilerine ulaşılabilir?

- A) I ve II
- B) I ve III
- C) II ve III
- D) II ve IV
- E) III ve IV

8. Nicelik ve nitelik bakımından nüfus değişmelerini etkileyecek bilinçli önlem ve uygulamaların bütününe nüfus politikası adı verilir.

Buna göre, Türkiye Cumhuriyeti'nin kuruluşundan günümüze kadar olan süre içinde aşağıdakilerden hangisine yönelik nüfus politikası uygulanmamıştır?

- A) Ana çocuk sağlığı çalışmalarının hayata geçirilmesine
B) Nüfusun artırılmasına
C) Nüfusun niteliğinin iyileştirilmesine
D) Nüfus artış hızının azaltılmasına
E) Nüfusun kentlerde toplanmasına
9. Türkiye'de küçükbaş hayvancılığın yaygın olduğu yörelerde halı-kilim dokumacılığı ve yem bitkileri tarımı, büyükbaş hayvancılığın yaygın olduğu yörelerde süt ve süt ürünleri üretimi, kıyı balıkçılığının yaygın olduğu yörelerde ise tekne yapımı gibi etkinlikler gelişmiştir.

Bu bilgiyle aşağıdaki yargılardan hangisine ulaşılr?

- A) Kırsal yörelerde üretim daha çok geleneksel yöntemlerle yapılmaktadır.
B) Kırsal yörelerde yürütülen ekonomik etkinlikler birbirleriyle bağlantılıdır.
C) Kırsal yörelerde yürütülen en yaygın ekonomik etkinlik hayvancılıktır.
D) Kıyıda yer alan yörelerde yürütülen ekonomik etkinlikler, iç kesimdekilerle aynıdır.
E) Tarıma dayalı endüstri Türkiye'nin her bölgesinde yaygınlaşmıştır.

10. Türkiye'de 1950-1960 döneminde uygulanan ekonomi politikaları sonucunda, tarımsal krediler yaygınlaştırılmış ve tarım ürünleri için yüksek fiyat politikası izlenmiştir. Bu sayede tarımsal üretimde önemli artışlar olmuştur. Endüstrideki sermaye yetersizliği; yabancı yatırımlar, özel sektörün teşvik edilmesi ve dış yardımlarla büyük ölçüde giderilmiştir. Böylece baraj ve fabrika gibi yatırımlar artmıştır. Bunlara karşın döviz rezervinin yatırımlarda önemli derecede kullanılması, ancak yapılan yatırımlardaki plansızlık kalkınma hızının istenilen düzeye çıkmasını engellemiştir. Bunun sonucunda enflasyon yükselmiştir. 1958 yılında ekonomik istikrarı sağlamak için sıkı maliye politikaları ile dış satımı teşvik edici önlemler alınmıştır. İç ticaretin canlandırılması için de kara yolu yapımına ağırlık verilmiştir.

Buna göre, aşağıdakilerden hangisi 1950-1960 döneminde uygulanan ekonomi politikalarının sonuçlarından biri değildir?

- A) Dış borçlar artmıştır.
B) Devletin ekonomideki etkisi azalmaya başlamıştır.
C) Altyapı çalışmalarına önem verilmiştir.
D) Tarımda makineleşme yaygınlaşmaya başlamıştır.
E) Tarımsal vergiler artırılmıştır.

11. Atatürk "Türkiye'de devlet madenciliği, millî kalkınma hareketiyle yakından ilgili, önemli konulardan biridir. Genel sanayileşme düşüncemizden başka, maden arama ve işletme işine, her şeyden önce dış ödeme vasıtalarımızı, döviz gelirlerimizi artırabilmek için devam etmeye ve özel bir önem vermeye mecburuz." demiştir.

Bu parçada Atatürk, Türkiye'deki madencilik etkinliklerinin,

- I. endüstrileşmeye katkısı,
- II. dış borçların ödenmesi,
- III. kişi başına düşen ulusal geliri artırması,
- IV. iş olanaklarını artırması

durumlarından hangilerini doğrudan vurgulamıştır?

- A) I ve II B) I ve III C) II ve III
D) II ve IV E) III ve IV

12. Türkiye'de bugüne kadar yapılan ve yapılması planlanan enerji santralleriyle ilgili bir çalışmada, aşağıdaki görüşlere yer verilmiştir.

- Yeni yatırımların yapılması var olan kaynakların rezervine ve kalitesinin yüksekliğine bağlıdır.
- Bugüne kadar yapılan yatırımların bir kısmı ham maddeye yakınlık göz önüne alındığından, enerji santrallerinin bölgeler arasındaki dağılımı farklılık göstermektedir.
- Ham madde çeşitliliği Anadolu'nun coğrafi konumu, jeolojik yapısı, iklimi ve yer şekilleriyle ilgilidir.
- Çevreyi daha az kirlüten enerji kaynakları ve payları artmıştır.

Bu bilgilere göre aşağıdakilerden hangisine ulaşılabilir?

- A) Bazı bölgeler her türlü enerji kaynağına sahiptir.
B) Yenilenemeyen enerji kaynaklarının kullanımı artmıştır.
C) Yeni doğal kaynakların kullanımı ile ticaret artmıştır.
D) Artan gereksinime bağlı olarak, kullanılan enerji kaynakları çeşitlenmiştir.
E) Gelişen teknolojiyle birlikte kaynakların kullanım alanı çeşitlenmiştir.

13. Dağ, boğaz ve vadi gibi yer şekilleri, Türkiye'de kara yolu ulaşımını etkiler.



Buna göre, Edirne'den Adana'ya en kısa güzergâh-tan kara yoluyla gitmek isteyen bir kişi, sırasıyla hangi doğal engelleri geçmelidir?

- A) İstanbul Boğazı, Bolu Dağları, Orta Toroslar
 B) Çanakkale Boğazı, Gediz Vadisi, Batı Toroslar
 C) İstanbul Boğazı, Ilgaz Dağları, Batı Toroslar
 D) Çanakkale Boğazı, Bolu Dağları, Orta Toroslar
 E) İstanbul Boğazı, Kızılırmak Vadisi, Batı Toroslar

14. Türkiye'de,

- endüstrileşmenin artması,
- gelir düzeyinin yükselmesi,
- ulaşım olanaklarının gelişmesi ve çeşitlenmesi,
- kent nüfusunun artması

durumlarına paralel olarak son yıllarda büyük gelişme gösteren ekonomik etkinlik aşağıdakilerden hangisidir?

- A) Tarım
 B) Turizm
 C) Madencilik
 D) Balıkçılık
 E) Ormancılık

15. Doğal kaynaklarının zengin olması ve bunların etkin kullanımı, ülkelerin gelişmesindeki temel etkenlerden biridir.

Buna göre, aşağıda verilen ülke ve doğal kaynak eşleştirmelerinden hangisi yukarıdaki genellemeye uymaz?

- A) İsveç – demir
 B) Güney Afrika Cumhuriyeti – altın
 C) Japonya – deniz ürünleri
 D) Rusya Federasyonu – doğal gaz
 E) İngiltere – taş kömürü

16. Gelişmiş ülkelerde giderek artan endüstriyel üretimle ortaya çıkan katı atıkların yok edilmesi ya da dönüştürülmesi, her geçen yıl daha pahalıya mal olmaktadır. Bu gibi nedenlerle, 1987 yılında, Amerika Birleşik Devletleri kaynaklı 4000 ton zehirli atık Haiti'de bir sahile boşaltıldı. Bir yıl sonra 15 000 tonluk atık Gine'de eski bir taş ocağına döküldü. Aynı yıl, bir diğer Afrika ülkesi Gine-Bissau, 600 milyon Amerikan Doları karşılığında 15 milyon ton atığı almayı kabul etti. Önerilen rakam bu ülkenin ulusal gelirinin dört katıydı. Amerika Birleşik Devletleri ve Avrupa'da her yıl çöpe atılan 100 milyon bilgisayar Nijerya, 130 milyon cep telefonu ise Hindistan ve Pakistan tarafından alınmaktadır.

Aşağıdakilerden hangisi, bu parçadan çıkarılabilecek yargılardan biri değildir?

- A) Geri kalmış ülkeler, atıkları kabul ederek ülkelerinde büyük çevre sorunlarına yol açmaktadır.
- B) Gelişmiş ülkeler için atıkların geri kalmış ülkelere gönderilmesi, kendi ülkelerinde yok edilmesinden daha düşük bir maliyet sağlamaktadır.
- C) Gelişen endüstri ve artan tüketim, zehirli endüstriyel atıkları da artırmaktadır.
- D) Atık ticareti, geri kalmış ülkelerin ekonomisi için önemli bir gelir kaynağıdır.
- E) Amerika Birleşik Devletleri'nde yıllık toplam atık miktarı Avrupa'dakinden fazladır.

17. Dünyadaki bağımsız devlet sayısı çeşitli kaynaklarda farklılık göstermektedir. 2010 yılı itibarıyla Birleşmiş Milletlere üye 192 devlet bulunmaktadır. Bunun yanı sıra, Birleşmiş Milletlere üye olmayan Vatikan da, dünyadaki devletlerin hemen hepsi ve Birleşmiş Milletler tarafından tanınmaktadır. Diğer taraftan, bağlı oldukları devletten tek taraflı olarak bağımsızlığını ilan eden devletler de vardır. 2010 yılı itibarıyla, Birleşmiş Milletler tarafından resmen bağımsız bir devlet olarak tanınmamasına karşın Kosova, Abhazya ve Kuzey Kıbrıs Türk Cumhuriyeti'nin de aralarında bulunduğu birçok devlet, en az bir Birleşmiş Milletler üyesi devlet tarafından resmen tanınmıştır. Tüm bunların yanı sıra, İsrail-İran, Güney Kore-Kuzey Kore örneklerinde olduğu gibi, hepsi Birleşmiş Milletlere üye olmalarına karşın birbirlerinin bağımsızlıklarını tanımayan devletler de bulunmaktadır.

Bu parçaya göre aşağıdakilerden hangisi savunulamaz?

- A) Bazı devletlerin tek taraflı bağımsızlık ilanı, siyasal sorunlar ya da devlet çıkarları nedeniyle bağımsız devletlerin bir kısmı tarafından kabul edilmemektedir.
- B) Her devlet, bağımsız devlet sayısını kendisinin resmen tanıdığı devletlerle sınırlı tutmaktadır.
- C) Birleşmiş Milletlere üye bazı devletler arasındaki siyasal sorunlar, bu devletlerin karşılıklı olarak birbirlerini tanımamalarına neden olmaktadır.
- D) Birleşmiş Milletlere üye devlet sayısı, tek taraflı olarak bağımsızlığını ilan eden devletlerin de katılımıyla artmaktadır.
- E) Birleşmiş Milletlere üye olmamasına karşın, bağımsızlığı Birleşmiş Milletler tarafından resmen kabul edilen devletler de bulunmaktadır.

18. Bir ülkenin gelişme hızı, artan nüfusun gereksinimlerini karşılayamaz duruma geldiğinde, bu ülkede aşağıdakilerden hangisinin gerçekleşmesi be-
lenmez?

- A) Yatırımlara ayrılan payın azalması
- B) İşsizlik oranının artması
- C) Dış satım payının artması
- D) Konut açığının artması
- E) Sağlık ve eğitim hizmetlerinin yetersiz kalması

19. Deniz ve okyanusları birbirine bağlayan kanalların açılması, dünya genelinde deniz ticaretinde kullanılan okyanus, deniz ve boğaz gibi bazı su yollarının öneminin azalmasına ya da artmasına neden olmuştur.

Buna göre, Süveyş Kanalı'nın açılmasıyla deniz ticaretinde önem kazanan ve kaybeden su yolları aşağıdakilerden hangisinde doğru olarak verilmiştir?

Önem kazanan

Önem kaybeden

- | | |
|------------------------------------|---------------------------------|
| A) Cebelitarık Boğazı ve Akdeniz | Ümit Burnu |
| B) Panama Kanalı ve Atlas Okyanusu | Hint Okyanusu |
| C) Ümit Burnu | Cebelitarık Boğazı ve Akdeniz |
| D) Cebelitarık Boğazı ve Akdeniz | Panama Kanalı ve Atlas Okyanusu |
| E) Hint Okyanusu | Panama Kanalı ve Atlas Okyanusu |

20. "Şiddetli ve yıkıcı bir atmosfer olayı olan tayfun Türkiye'de görülmez." diyen bir araştırmacı bu tezini savunmak için Türkiye ile ilgili aşağıdaki bilgilerden hangisini kanıt olarak gösterebilir?

- A) Orta Kuşak'ta ve okyanuslardan uzakta olmasını
- B) Kuzey Yarım Küre'de yer almasını
- C) Topraklarının büyük kısmının Asya Kıtası'nda bulunmasını
- D) Yüksek ve engebeli olmasını
- E) İç kesimlerde nem oranının düşük olmasını

21. İnsanlar, gereksinimlerini karşılayabilmek için çeşitli etkinliklerde bulunur. Bu etkinlikler sonucunda yaşadıkları çevrede bazı sorunlar ortaya çıkabilir. Örneğin, enerji gereksinimini karşılamak için termik santraller kurulmakta ve o bölgede hava kirliliği oluşmaktadır.

Bu örnekteki gibi bir ilişki aşağıdakilerin hangisinde yoktur?

- A) Besin gereksinimini karşılamak için tarımda kimyasal gübrelerin kullanılması ve toprağın kirlenmesi
- B) Kentlerde barınma gereksinimini karşılamak için yeni konutların yapılması ve yeşil alanların azalması
- C) Eğlence gereksinimini karşılamak için eğlence merkezlerinin kurulması ve gürültü sorununun ortaya çıkması
- D) Tatlı su gereksinimini karşılamak için barajların yapılması ve tarımsal verimin azalması
- E) Ulaşım gereksinimini karşılamak için taşıt üretiminin artması ve trafik sorununun ortaya çıkması

22. Günümüzde enerji yalnızca endüstrileşmenin değil, aynı zamanda ekonomik ve sosyal hayatın da zorunlu bir tüketim maddesi durumuna gelmiştir. Uygarlık düzeyi, tüketilen enerji miktarına paralel olarak arttığından, yüzünde tüketilen enerji miktarı da fazlaşmaktadır. Enerjinin üretilmesi ve tüketilmesi süreçlerinde hava, su ve toprak gibi doğal çevre kaynakları kirletilmekte ve kirliliğin miktarı da sürekli artmaktadır. Bu gibi çevre sorunlarının önlenmesi, bu mümkün olmayacaksa azaltılması için yeni ve yenilenebilir enerji kaynaklarından daha fazla yararlanılması gerekmektedir. Böylece fosil yakıtlara olan bağımlılık azalacağı gibi, tüketimin neden olduğu çevre sorunları da azaltılmış olacaktır.

Bu parçaya göre, aşağıdakilerden hangisine ulaşamaz?

- A) Enerji kaynaklarının kullanım alanının çok geniş olduğuna
- B) Yenilenebilir enerji kaynaklarının kullanımıyla çevre sorunlarının azalacağına
- C) Gelişmiş ülkelerde enerji tüketiminin her geçen yıl arttığına
- D) Fosil yakıt tüketiminin fazla olmasının çevre sorunları yarattığına
- E) Hızlı nüfus artışına bağlı olarak, tüketilen enerji miktarının arttığına

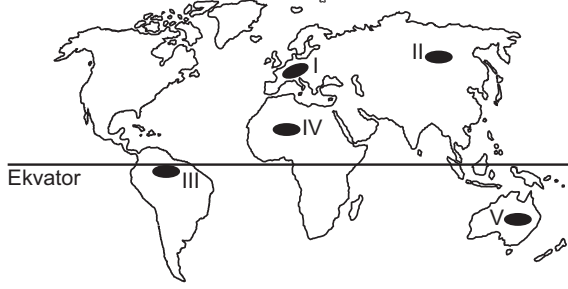
23. İngiltere’de, John Worlidge adlı ziraatçı, tarımda “zararlı” olarak kabul edilen hayvanlara karşı aşağıdaki işlerin yapılmasını belirten bir takvimin de içinde bulunduğu “Tarımsal Sistem” adlı kitabını 1668’de yayımladı. Buna göre, tarımda yüksek verim elde etmek için

- şubat ayında tüm kurbağalar ve yumurtaları yok edilmeli,
- nisan ayında solucanlar toplanmalı,
- haziran ayında karıncalar yok edilmeli,
- temmuz ayında ise yaban arısı ve sinekler öldürülmelidir.

Ekosistemlerin işleyişi ve birbirlerine olan etkileri göz önüne alındığında, İngiltere’de bu hatalı yöntemleri uygulamış olan dönemin çiftçilerinin, hangi tarımsal sorunla karşılaşmış olması beklenmez?

- A) Böceklerle beslenen kurbağaların yok edilmesi, değinilmeyen diğer tarım zararlılarının sayısını artırmış ve ürünlere büyük zarar vermiştir.
- B) Toprakta yaşayan karınca ve solucanların yok edilmesi, toprağın havalanmasını olumsuz etkilemiş ve verimi düşürmüştür.
- C) Yaban arısı ve sineklerin öldürülmesi, bitkilerin döllenmesini ve polenlerin taşınmasını olumsuz etkilemiştir ve tarımsal verim azalmıştır.
- D) Karınca ve solucanların yok edilmesi, sulamaya duyulan gereksinimi artırmış ve tarımsal üretim maliyetlerinin yükselmesine neden olmuştur.
- E) Kurbağaların yok edilmesi sonucunda, yaban arısı ve sineklerin sayısı artmış ve bu zararlılarla mücadele süresi uzamıştır.

24. Teknolojik gelişmelerin ortaya çıkardığı çevre sorunlarından biri de hava kirliliğidir.



Buna göre, haritada numaralarla gösterilen yerlerin hangisinde, endüstrileşmeye bağlı olarak hava kirliliğinin daha fazla olması beklenir?

- A) I B) II C) III D) IV E) V

2011 LİSANS YERLEŐTİRME SINAVI-3 (LYS-3)

COĐRAFYA-1 TESTİ

25 HAZİRAN 2011

1. C

2. B

3. C

4. B

5. D

6. C

7. B

8. E

9. B

10. E

11. A

12. D

13. A

14. B

15. C

16. E

17. D

18. C

19. A

20. A

21. D

22. E

23. D

24. A

LİSANS YERLEŞTİRME SINAVI-3

EDEBİYAT - COĞRAFYA SINAVI

COĞRAFYA-1 TESTİ SORU KİTAPÇIĞI

26 HAZİRAN 2010

**BU SORU KİTAPÇIĞI 26 HAZİRAN 2010 LYS-3
COĞRAFYA-1 TESTİ SORULARINI İÇERMEKTEDİR.**

Bu testlerin her hakkı saklıdır. Hangi amaçla olursa olsun, testlerin tamamının veya bir kısmının Merkezimizin yazılı izni olmadan kopya edilmesi, fotoğrafının çekilmesi, herhangi bir yolla çoğaltılması, yayımlanması ya da kullanılması yasaktır. Bu yasağa uymayanlar gerekli cezai sorumluluğu ve testlerin hazırlanmasındaki mali külfeti peşinen kabullenmiş sayılır.

COĞRAFYA-1 TESTİ

1. Bu testte 24 soru vardır.

2. Cevaplarınızı, cevap kâğıdının Coğrafya-1 Testi için ayrılan kısmına işaretleyiniz.

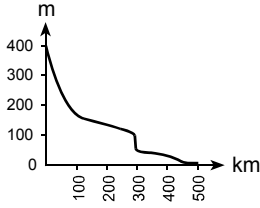
2010 – LYS3 / COĞ-1

1. Uzunluğu 500 km olan bir akarsuyun kaynağıyla ağzı arasında, yatağı boyunca, belli yükselti ve mesafelerde görülen yer şekilleri aşağıdaki tabloda verilmiştir.

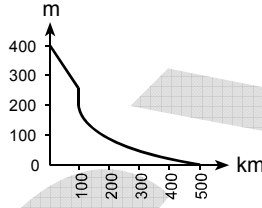
Yükselti (m)	Mesafe (km)	Yer şekli
400-170	0-100	V vadi
170-100	100-300	Plato
100-50	300	Çağlayan
50-10	300-450	Ova
10-0	450-500	Delta

Buna göre, bu akarsuyun aktığı yüzeyin profili aşağıdakilerden hangisidir?

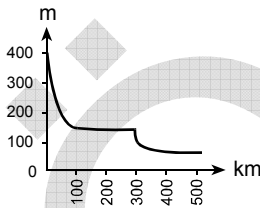
A)



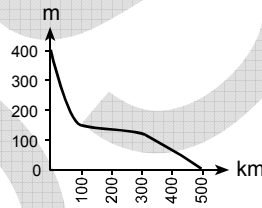
B)



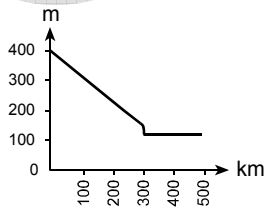
C)



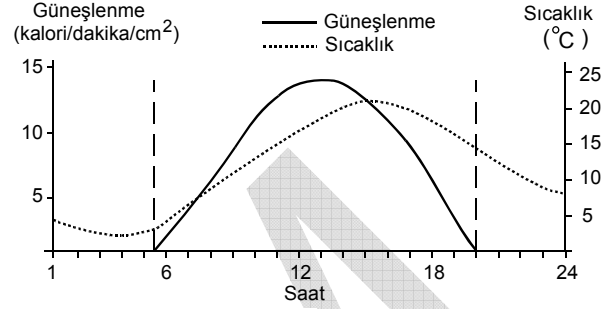
D)



E)



2. Aşağıda Ankara'daki bulutsuz bir güne ait güneşlenme ve sıcaklık grafiği verilmiştir.



Bu grafikte ilgili aşağıdaki yorumlardan hangisi yanlıştır?

- A) Güneş ışınlarının en dik geldiği anla sıcaklığın en yüksek olduğu an arasında yaklaşık 3 saat fark vardır.
- B) Gün içindeki sıcaklık farkı 10 °C'den fazladır.
- C) Grafik ekim ayındaki bir güne aittir.
- D) Saat 1 ile 6 arasında sıcaklık 5 °C'nin altındadır.
- E) Güneşten gelen enerjinin miktarıyla sıcaklığın değişimi birbirine paralel değildir.

Diğer sayfaya geçiniz.

3. Nüfus politikaları, nüfusun niteliğini ve niceliğini etkileyen bilinçli uygulamalardır. Dünyada,

- I. nüfus artış hızını azaltma,
- II. nüfus artış hızını artırma,
- III. nüfusun niteliğini iyileştirme

amacıyla uygulanan üç çeşit nüfus politikası vardır.

Aşağıdakilerin hangisinde bu nüfus politikalarını uygulayan ülkeler doğru olarak verilmiştir?

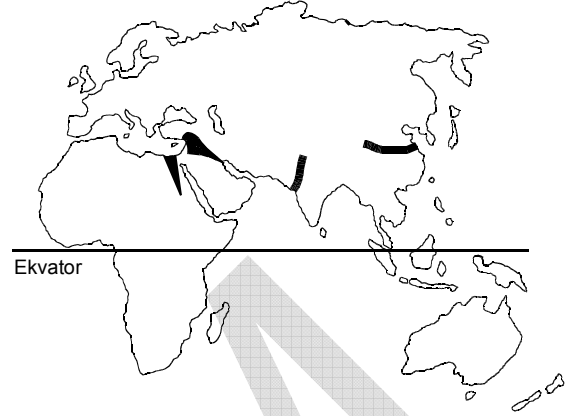
- | I | II | III |
|--------------|-----------|-----------|
| A) İngiltere | Türkiye | Fransa |
| B) Çin | İngiltere | Türkiye |
| C) Fransa | Çin | İngiltere |
| D) Türkiye | Hindistan | Japonya |
| E) Japonya | Fransa | Hindistan |

4. Bir kentin fonksiyonel özellikleri ne kadar çeşitli ve gelişmişse küresel çapta etkilediği alan da o kadar geniş olmaktadır.

Buna göre, aşağıdaki kentlerden hangisinin küresel çapta etki alanının diğerlerinden daha dar olması beklenir?

- A) Berlin B) Londra C) Paris
D) Moskova E) Prag

5. Aşağıdaki haritada ilk yerleşmelerin ve kültür merkezlerinin kurulduğu başlıca yerler gösterilmiştir.



Buna göre, bu uygarlıkların kurulduğu yerlerin ortak özelliği aşağıdakilerden hangisidir?

- A) Verimli tarım alanları ve su kaynaklarının olması
- B) Okyanus kıyısında yer alması
- C) Zengin orman örtüsüyle kaplı olması
- D) Sıcaklık ve yağışın fazla olması
- E) Yer şekillerinin dağlık ve engebeli olması

Diğer sayfaya geçiniz.

6. VE 7. SORULARI AŞAĞIDA VERİLEN PARÇAYA GÖRE CEVAPLAYINIZ.

Bir kişinin, on beşer yıl arayla üç kez ziyaret ettiği bir yerleşim merkeziyle ilgili gözlemleri şöyledir:

1970: Burası tek katlı küçük evlerden oluşan 65 haneli bir köy. Köyün toplam nüfusu üç yüz kadar. Halkın temel geçim kaynağı tarım. Köydeki tarım alanları çok geniş olmamasına karşın topraklar verimli olduğu için çevredeki köylerden gelip buraya yerleşenler var.

1985: 1975 yılında köy çevresinde bulunan maden burayı on yılda kasaba hâline getirmiş. Şu anda nüfusu on beş bin ve bu sayı göçlerle her geçen yıl artmakta. Nüfusun % 70'i geçimini maden ocaklarında çalışarak sağlıyor. Bu işçilerin aileleriyle birlikte konakladığı apartmanlar, sayısı gittikçe azalan köy evleriyle büyük tezat oluşturuyor.

2000: Şu anda nüfus yüz bini geçmiş durumda. Madencilik yanında, madenin işlendiği fabrikalar kurulması geçim kaynaklarını çeşitlendirmiş. Bugün nüfusun % 55'i bu fabrikalarda çalışıyor. Şehrin belediye başkanı ile görüştüğümde, doğum oranı düşük olmasına karşın nüfusun hızla arttığını, konut sıkıntısı çektiğini, gecekonduların apartman sayısını geçtiğini söyledi.

6. Bu parçaya göre, gözlem yapılan üç dönemde, bu yerleşim merkezinde aşağıdakilerin hangisi bakımından değişiklik olmamıştır?

- A) Aktif nüfusun sektörel dağılımı
- B) Göçün yönü
- C) Toplam nüfus
- D) Mesken tipi
- E) Yerleşimin idari yapısı

7.

- I. Madencilik ve maden endüstrisinden sağlanan gelir artışı, şehirdeki endüstriyel yatırımların çeşitlenmesini sağladı. Şehir ve çevresi önemli bir endüstri merkezi oldu. Bu nedenle, maden tükense de şehir önemini korudu ve göç almaya devam etti.
- II. Toprak verimli olduğu için maden tükendikten sonra herhangi bir nüfus kaybı olmadı. Şehirde yaşayan insanların tümü tekrar tarımla uğraşmaya başladı. Şehir göç almaya devam etti.
- III. Ekonominin canlı olduğu dönemlerde bankacılık ve ticaret önem kazandı. Bunun yanında kültür, sanat ve turizm alanlarında da pek çok yatırım yapıldı. Şehirdeki geçim kaynakları çeşitlendiği için madenin tükenmesinin etkisi çok büyük olmadı.

Bu yerleşim merkezinde, maden tükendikten on beş yıl sonra, yukarıdaki durumlardan hangilerinin gerçekleşme olasılığı vardır?

- A) Yalnız I
- B) Yalnız II
- C) Yalnız III
- D) I ve III
- E) II ve III

Diğer sayfaya geçiniz.

8. Aşağıdaki tabloda Türkiye arazilerinin eğim dereceleriyle bunların ülke topraklarına oranı verilmiştir.

Eğim (%)	Ülke topraklarına oranı (%)
0-5	8,5
5-10	12,8
10-15	16,2
15'ten fazla	62,5

Yalnızca bu tablodaki bilgilere dayanarak Türkiye'yle ilgili aşağıdaki yargılardan hangisine ulaşılabılır?

- A) Engebeli bir ülkedir.
 B) İç kesimlerde ova ve platolar yaygındır.
 C) Eğimin fazla olduğu yerlerde orman örtüsü azdır.
 D) Ülke topraklarının yarısından fazlasını sıradağlar oluşturur.
 E) Kıyı bölgelerinde eğim azdır.

9.

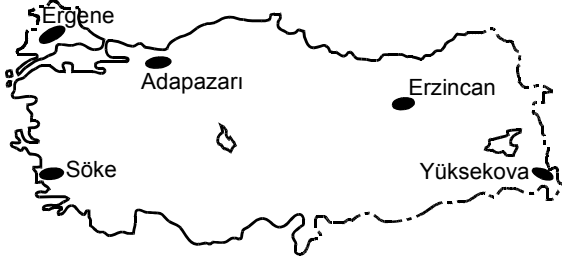
- I. Uludağ, Erciyes ve Palandöken gibi kar kalınlığı ve topoğrafik koşulları uygun dağlarda kış sporları için tesislerin yapılması
 II. Dilovası, Çayırova, İzmit ve Çukurova'nın tarıma elverişli arazilerine endüstri tesislerinin kurulması
 III. Bafra, Gediz, Silifke gibi delta ovalarında çeşitli endüstriyel tarım ürünü yetiştirilmesi
 IV. Yüksek ve engebeli alanlardan oluşan Taşeli ve Teke platolarında küçükbaş hayvancılığın yoğun olarak yapılması

Yukarıdakilerden hangileri doğru arazi kullanımına örnek gösterilemez?

- A) Yalnız I B) Yalnız II C) I ve IV
 D) II ve III E) II ve IV

Diğer sayfaya geçiniz.

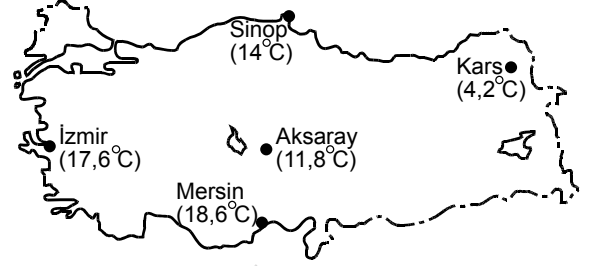
10. Aşağıdaki haritada yükselteleri birbirinden farklı beş ova gösterilmiştir.



Bu ovaların yükseltelerinin farklı olması aşağıdakilerden hangisini etkilemez?

- A) Endüstriyel tarım ürünlerinin çeşitliliğini
- B) Kar yağışlı gün sayısını
- C) Ürünlerin hasat zamanını
- D) Sulamaya duyulan gereksinimi
- E) Tarımda makine kullanımını

11. Aşağıdaki haritada beş kent merkezinin yıllık ortalama sıcaklıkları verilmiştir.



Bu kentlerin yıllık ortalama sıcaklıkları arasındaki farklılıkların nedenleriyle ilgili aşağıdaki bilgilerden hangisi yanlıştır?

- A) Mersin'in yıllık ortalama sıcaklığının İzmir'den yüksek olması enlem etkisinden kaynaklanmaktadır.
- B) Aksaray'ın yıllık ortalama sıcaklığının İzmir'den düşük olmasında hem karasallığın hem de yükseltinin etkisi vardır.
- C) Kars'ın yıllık ortalama sıcaklığının Sinop'tan düşük olması enlem etkisinden kaynaklanmaktadır.
- D) Aksaray'ın yıllık ortalama sıcaklığının Kars'tan yüksek olmasında hem enlem hem de yükseltinin etkisidir.
- E) Mersin'in yıllık ortalama sıcaklığının Aksaray'dan yüksek olmasında hem enlemin hem de yükseltinin etkisi vardır.

Diğer sayfaya geçiniz.

12. Aşağıdaki ekonomik gelişmelerin hangisinde Türkiye'nin jeopolitik konumu doğrudan etkilidir?

- A) Endüstride gelişmiş olan ülkelerin dünyaca ünlü markalarını üretmek için Türkiye'de fabrika kurmaları
- B) Bazı ülkelerin Türkiye'de arazi satın alarak organik tarım yapmaları
- C) Farklı dönem ve kültürlere ait tarihî eserlerin Türkiye turizmi açısından önemli bir kaynak oluşturması
- D) Azerbaycan ve Irak petrolünün Türkiye toprakları üzerinden Akdeniz'e ulaştırılması
- E) Dış piyasalarda, Türkiye'de üretilen tekstil ürünlerine talebin fazla olması

13. Aşağıdaki tabloda, Türkiye'de bazı yıllardaki dış satımın dış alımı karşılama oranları verilmiştir.

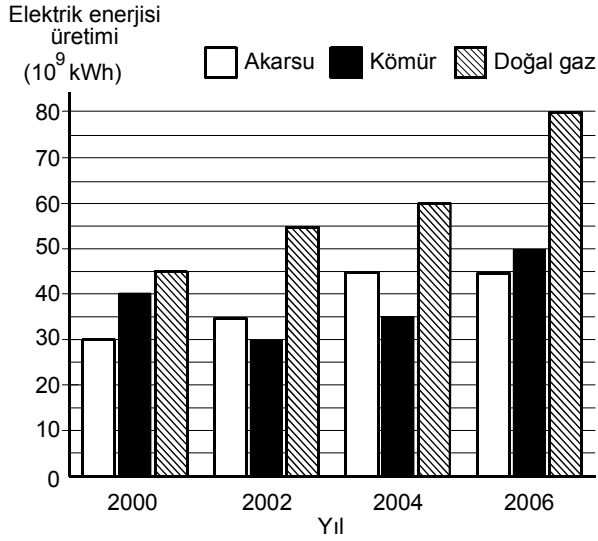
Yıl	Dış satımın dış alımı karşılama oranı (%)
1930	102,6
1950	92,2
1970	62,1
1990	58,1
2007	63,0

Yalnızca bu bilgilerden yararlanarak aşağıdaki sonuçlardan hangisine ulaşılabilir?

- A) 1950'deki dış satım miktarı, 1970'tekinden fazladır.
- B) 1970 ve 2007'deki dış alım giderleri ve dış satım gelirleri birbirine yakındır.
- C) Dış ticaret hacminin en düşük olduğu yıl 1990'dır.
- D) 1990'daki dış satım geliri, 1930'dakinden azdır.
- E) 1930'da dış satım geliri, dış alım giderinden fazladır.

Diğer sayfaya geçiniz.

14. Aşağıdaki grafik, 2000-2006 yılları arasında bir ülkede enerji kaynaklarına göre elektrik enerjisi üretimini göstermektedir.



Bu grafiğe göre, aşağıdaki bilgilerden hangisi doğrudur?

- A) Verilen yılların tümünde kömür ve doğal gazdan elde edilen elektrik enerjisi miktarı birbirine çok yakındır.
- B) En fazla elektrik enerjisi 2004 yılında üretilmiştir.
- C) Akarsudan elde edilen elektrik enerjisi miktarındaki en büyük artış 2000-2002 yılları arasındadır.
- D) Elektrik enerjisi üretiminde, kömürün payının en yüksek olduğu yıl 2000'dir.
- E) 2006 yılında, doğal gazdan elde edilen elektrik enerjisi miktarı, kömür ve akarsudan elde edilenlerin toplamından fazladır.

15. Doğu Karadeniz Bölümü'ne tur düzenleyen bir turizm şirketi, gazetelere aşağıdaki ilanı vermiştir:

"İlk gün, heyelan sonucu oluşan Sera Gölü ziyaret edilecek; ikinci gün, Trabzon ilindeki Sümela Manastırı gezilecek; üçüncü gün, Kaçkar Dağları'nda 2000 metrenin üzerindeki krater göllerine gidilecek; son gün ise buzulları görmek için 3000 metreye çıkılacaktır. Gezi boyunca, Doğu Karadeniz Dağları'ndaki yayla yerleşmelerinde mola verilecektir."

Turizm şirketinin ilanında aşağıdakilerden hangisiyle ilgili olarak verilen bilgi yanlıştır?

- A) Doğu Karadeniz Dağları'nda görülen kırsal yerleşme tiplerinden biri
- B) Doğu Karadeniz Dağları'nda buzulların indiği yükselti
- C) Kaçkar Dağları'nda 2000 metrenin üzerinde yaygın olarak bulunan göllerin oluşum biçimi
- D) Sera Gölü'nün oluşum biçimi
- E) Sümela Manastırı'nın bulunduğu il

Diğer sayfaya geçiniz.

16. Bir ülkede çalışan nüfusun tarım, endüstri ve hizmet sektörlerine dağılımı, o ülkedeki ulusal geliri etkiler.

Bu yargının doğruluğunu kanıtlamak için,

- I. Endüstri kuruluşlarının yoğun olduğu yerlerde nüfus yoğunluğu da fazladır.
- II. Tarım sektöründen elde edilen gelir, endüstri ve hizmet sektörlerinden elde edilenden azdır.
- III. Hizmet sektörü, hem tarım hem de endüstri sektörüyle ilişkilidir.

bilgilerinden hangileri kullanılabilir?

- A) Yalnız I B) Yalnız II C) Yalnız III
D) I ve II E) II ve III

17. Ülkelerin gelişmişlik düzeyini belirleyen önemli ölçeklerden biri de Birleşmiş Milletlerin geliştirdiği insani gelişim endeksidir. Bu endeks, ülkelerin beşerî ve ekonomik özellikleri göz önüne alınarak hesaplanır.

Aşağıdaki tabloda, 2007 yılındaki insani gelişim endeksine göre yapılan sınıflamalarda yer alan bazı ülkeler gösterilmiştir.

İnsani Gelişim Endeksi (2007)			
Çok yüksek (1-0,90)	Yüksek (0,89-0,80)	Orta (0,79-0,50)	Düşük (0,49-0)
Norveç	Polonya	Ürdün	Zambiya
Avustralya	Malezya	Mısır	Senegal
ABD	Brezilya	Hindistan	Etiyopya
Belçika	Türkiye	Nijerya	Afganistan

Buna göre, bir ülkenin insani gelişim endeksinin yükselmesinde aşağıdakilerden hangisinin en az etkili olduğu savunulabilir?

- A) Okuryazar oranının artması
- B) Ortalama yaşam süresinin uzaması
- C) Kişi başına düşen ulusal gelirin artması
- D) Okullaşma oranının artması
- E) Çalışma çağındaki nüfusun artması

Diğer sayfaya geçiniz.

18. Çin Halk Cumhuriyeti ve Japonya'nın özellikleriyle ilgili aşağıdaki karşılaştırmalardan hangisi doğrudur?

- A) Japonya'da görülen iklim çeşitliliği daha fazladır.
- B) Çin Halk Cumhuriyeti'nde şehirleşme oranı daha yüksektir.
- C) Çin Halk Cumhuriyeti yer altı kaynakları bakımından daha fakirdir.
- D) Çin Halk Cumhuriyeti'nde yerel saat farkı daha fazladır.
- E) Japonya'da tarım ve hayvancılıkla geçinen nüfus oranı daha yüksektir.

19. Aşağıdaki tabloda iki Avrupa ülkesinin üye olduğu bazı uluslararası örgütler verilmiştir.

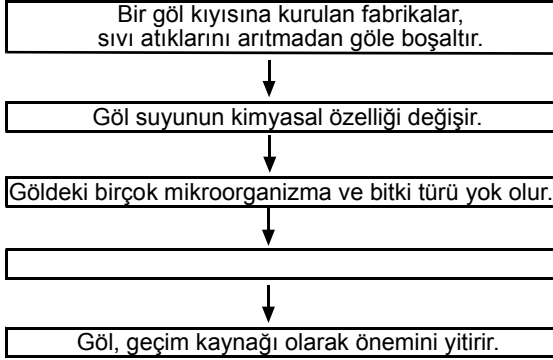
	X Ülkesi	Y Ülkesi
AB Üyeliği	✓	
BM Güvenlik Konseyi Daimi Üyeliği		✓
G-8 Üyeliği	✓	✓

Buna göre X ve Y ülkeleri aşağıdakilerden hangisinde doğru olarak verilmiştir?

- | X | Y |
|----------------------|-------------------|
| A) Almanya | Fransa |
| B) Almanya | Rusya Federasyonu |
| C) Fransa | Rusya Federasyonu |
| D) Fransa | Almanya |
| E) Rusya Federasyonu | Fransa |

Diğer sayfaya geçiniz.

20. Aşağıdaki şemada, bir yörede insan etkinliklerine bağlı olarak ekolojik dengenin bozulmasına yol açan olaylar zinciri gösterilmiştir.



Bu zincirdeki neden-sonuç ilişkileri göz önüne alındığında, boş bırakılan yere aşağıdakilerden hangisi gelmelidir?

- A) Gölün su seviyesi düşer.
 B) Tarım ürünü çeşidi azalır.
 C) Balık türleri ve sayıları azalır.
 D) Atıklar göl suyundan toprağa karışır.
 E) Yeni balık türleri yetiştirilmeye başlanır.

21. Mısır'da Nil Nehri üzerinde kurulan Aswan (Asuan) Barajı, ülke ekonomisine büyük katkılar sağlamaktadır. Ancak nehrin taşıdığı alüvyonların önemli bir kısmı baraj gölünde tortulanmakta ve Nil Deltası'na gelen alüvyonun azalmasına neden olmaktadır.

Aşağıdakilerden hangisi, bu durumun Nil Deltası'nda yol açtığı sorunlardan biri değildir?

- A) Su sıkıntısının artması
 B) Tarımsal verimin azalması
 C) Üretimi artırmak için aşırı gübre kullanılması
 D) Kırsal nüfusun yıllık gelirinin azalması
 E) Kırsal kesimden kentlere göçlerin artması

22. VE 23. SORULARI AŞAĞIDA VERİLEN PARÇAYA GÖRE CEVAPLAYINIZ.

Amerika Birleşik Devletleri'nin Oklahoma eyaletindeki Tulsa şehrinden geçen Arkansas Nehri havzasında, 1984 yılındaki sel ve taşkınlar sonucunda yol ve köprüler yıkılmış ve şehrin alt yapısı kullanılamaz hâle gelmiştir. Bu felaketin ardından taşkın ovası boyunca bir dizi yapay göl yatağı oluşturulmasına karar verilmiş, bu yataklar sel ya da taşkın olduğunda suların birikmesi için kuru bırakılmış, diğer zamanlarda ise beyzbol sahası ya da tenis kortu olarak değerlendirilmiştir. Göl yatakları bir ağ hâlinde, kurak dönemlerde koşu parkuru olarak kullanılan yollarla birbirine bağlanmış, böylece suyun bir gölden diğerine akışı sağlanmıştır. Ayrıca taşkın ovasında yapılacak inşaat çalışmaları da sıkı bir denetim altına alınmıştır. Başarılı bir şekilde işleyen bu sistem ulusal bir model olmuştur.

22. Bu parçada akarsu ile aşağıdakilerden hangisi arasındaki ilişkiye değinilmemiştir?

- A) Çevre koruma
- B) İnsan etkinlikleri
- C) Arazi kullanımı
- D) Sulama sistemleri
- E) Yol açtığı sorunlar

23. Bu parçaya göre, nehir boyunca yapay göl yataklarının oluşturulmasının temel amacı aşağıdakilerden hangisidir?

- A) Suların, yükseldiği dönemlerde çevreye zarar vermesini engellemek
- B) Nehir seviyesinin yükselmesini önlemek
- C) Nehir yatağında düzensiz yapılaşmayı engellemek
- D) Nehir sularını depolamak
- E) Afetleri önleme konusunda bir model geliştirmek

24.

- I. Dalga
- II. Petrol
- III. Jeotermal

Yukarıdaki enerji kaynaklarından hangileri, bulunduğu bölgenin jeolojik yapısıyla doğrudan ilgilidir?

- A) Yalnız I
- B) Yalnız II
- C) Yalnız III
- D) I ve II
- E) II ve III

TEST BİTTİ.

CEVAPLARINIZI KONTROL EDİNİZ.

SINAVDA UYULACAK KURALLAR

1. Adayların cep telefonu, çağrı cihazı, telsiz, fotoğraf makinesi, cep bilgisayar, saat fonksiyonu dışında fonksiyonu olan saat, hesap makinesi, sözlük, kitap, defter, müsvedde kâğıdı, pergel, açılıçer, cetvel ve benzeri her türlü araç gereçle, silah ve benzeri teçhizatla sınava girmesi kesinlikle yasaktır. Bu araçlarla sınava girmiş adaylar mutlaka Salon Sınav Tutanağına yazılacak, bu adayların sınavı geçersiz sayılacaktır.
2. Bu test için verilen toplam cevaplama süresi **35 dakikadır. Sınav başladıktan sonra ilk testin cevaplama süresi bitmeden ve son testin son 15 dakikası içinde adayın sınavdan çıkmasına kesinlikle izin verilmeyecektir. İki test arasında birinci testin soru kitapçığının toplanması ve ikinci testin soru kitapçığının dağıtılması işlemleri dışında ara verilmez.** Bu toplama ve dağıtma işlemi sırasında adayların salondan dışarı çıkmaları kesinlikle yasaktır.
3. Sınav evrakını teslim ederek salonu terk eden aday, her ne sebeple olursa olsun tekrar sınava alınmayacaktır.
4. Bu süreler dışında cevaplamayı süre bitmeden tamamlarsanız, cevap kâğıdınızı ve soru kitapçığınızı salon görevlilerine teslim ederek salonu terk edebilirsiniz. Sınav süresinin bittiği ilan edildiğinde cevap kâğıtları ve soru kitapçıkları salon görevlileri tarafından toplanıncaya kadar yerlerinizde kalınız.
5. Sınav süresince görevlilerle konuşmak ve görevlilere soru sormak yasaktır. Aynı şekilde görevlilerin de adaylarla yakından ve alçak sesle konuşmaları, ayrıca adayların birbirinden kalem, silgi vb. şeyleri istemeleri kesinlikle yasaktır.
6. Sınav sırasında kopya çeken, çekmeye kalkışan, kopya veren, kopya çekilmesine yardım edenlerin kimlik bilgileri, Salon Sınav Tutanağına yazılacak ve bu adayların sınavları geçersiz sayılacaktır. Görevliler kopya çekmeye ya da vermeye kalkışanları uyarmak zorunda değildir, sorumluluk size aittir.

Adayların test sorularına verdikleri cevapların dağılımları bilgi işlem yöntemleriyle incelenecek, bu incelemelerden elde edilen bulgular bireysel ya da toplu olarak herhangi bir şekilde kopya çekildiğini gösterirse kopya eylemine katılan aday/adayların cevaplarının bir kısmı ya da tamamı iptal edilecektir. Cevap kâğıdınızı başkaları tarafından görülmeyecek şekilde tutmanız gerekmektedir.

7. Adaylar, görevlilerin her türlü uyarılarına uymak zorundadır. Sınavınızın geçerli sayılması, her şeyden önce sınav kurallarına uymanıza bağlıdır.
8. Cevap kâğıdına yazılacak her türlü yazıda ve yapılacak bütün işaretlemelerde kurşun kalem kullanılacaktır. Tükenmez kalem veya dolma kalem kesinlikle kullanılmayacaktır.

Cevapların cevap kâğıdına işaretlenmiş olması gerekir. Soru kitapçığına işaretlenen cevaplar geçerli değildir.

9. Soru kitapçığının sayfalarının eksik olup olmadığını, kitapçıkta basım hatalarının bulunup bulunmadığını ve soru kitapçığının her sayfasında basılı bulunan soru kitapçığı türünün, kitapçığın ön kapağında basılı soru kitapçığı türüyle aynı olup olmadığını kontrol ediniz. Soru kitapçığınızın sayfası eksik ya da basımı hatalıysa değiştirilmesi için Salon Başkanına başvurunuz.

Cevap kâğıdınızda, size verilen soru kitapçığının türünü "Soru Kitapçığı Türü" alanındaki ilgili yuvarlağı doldurarak belirtiniz. Cevap kâğıdınızda işaretlediğiniz Soru Kitapçığı Türü salon görevlileri tarafından sınav öncesi kontrol edilerek parafılanacaktır. Sizin işaretlediğiniz ile salon görevlilerinin parafıladıkları kitapçık türü arasında fark olması hâlinde salon görevlilerinin parafıladıkları kitapçık türü dikkate alınacaktır.

LYS-3'te alacağınız bütün testlerin soru kitapçığı türü aynı olmalı, birbirinden farklı olmamalıdır. Bu duruma özellikle dikkat ediniz. LYS-3'te size verilen soru kitapçıklarının türleri birbirinin aynı değilse görevlileri hemen uyararak size aynı türden soru kitapçığı vermelerini sağlayınız.

10. Sınav sonunda soru kitapçıkları toplanacak ve ÖSYM'de tek tek incelenecektir. Soru kitapçığının bir sayfası bile eksik çıkarsa sınavınız geçersiz sayılacaktır.
11. Soru kitapçığının sayfalarındaki boş yerleri müsvedde için kullanabilirsiniz.
12. Soruları ve/veya bu sorulara verdiğiniz cevapları ayrı bir kâğıda yazıp bu kâğıdı dışarı çıkarmanız kesinlikle yasaktır.
13. **Sınav salonundan ayrılmadan önce soru kitapçığınızı, cevap kâğıdınızı ve 2010 LYS-3 Sınava Giriş ve Kimlik Belgenizi salon görevlilerine teslim etmeyi unutmayınız.**
14. Testin cevaplama süresinin bitmesine 15 ve 5 dakika kaldığı salon görevlileri tarafından yüksek sesle hatırlatılacaktır.
15. **Bu testin cevaplarını cevap kâğıdında ilgili alana işaretlemeye dikkat ediniz.**

LİSANS YERLEŐTİRME SINAVI - 3 (LYS-3)

26 HAZİRAN 2010

COĞRAFYA - 1 TESTİ

- | | |
|------|-------|
| 1. A | 16. B |
| 2. C | 17. E |
| 3. B | 18. D |
| 4. E | 19. B |
| 5. A | 20. C |

- | | |
|-------|-------|
| 6. B | 21. A |
| 7. D | 22. D |
| 8. A | 23. A |
| 9. B | 24. E |
| 10. E | |

11. C
12. D
13. E
14. D
15. C